



PROBLEMES : Je calcule avec l'EURO

Andrée Otte



7,50€



11€




15,60€



80€




55,95€




22,20€




18€




146,50€



125€



87,45€



13,75€

Quel est l'objet qui coûte le plus cher ?

Quel est celui qui coûte le moins cher ?

Quel est l'objet dont le prix se situe entre 10€ et 15€ ?

Quels sont les objets dont le prix se situe entre 15€ et 25€ ?

Que coûtent :

-la poupée + la maison :

-un GSM :

-un jeu de quilles + le train :

-la radio + une voiture de course :

-l'avion + le carrousel + le jeu de billard :

Calcule le prix de :

-6 soldats de plomb :

-1 soldat de plomb :

-2 soldats de plomb :

-4 avions :

Après les fêtes, les magasins soldent...

Calcule :


-50% sur le prix des quilles :

-10% sur la maison :


-10% sur le prix du train :

-25% sur le prix du GSM :

PROBLEMES : Je calcule avec l'EURO



7,50€



11€




15,60€



80€



55,95€





22,20€


146,50€




18€



125€



87,45€



13,75€

Quel est l'objet qui coûte le plus cher ? **La radio**

Quel est celui qui coûte le moins cher ? **Le carrousel**

Quel est l'objet dont le prix se situe entre 10€ et 15€ ? **Le train**

Quels sont les objets dont le prix se situe entre 15€ et 25€ ? **La poupée, l'avion, le billard**

Que coûtent :

-la poupée + la maison : $15,60€ + 80€ = 95,60€$

-un GSM : $125€$

-un jeu de quilles + le train : $22,20€ + 11€ = 33,20€$

-la radio + une voiture de course : $146,50€ + 87,45€ = 233,95€$

-l'avion + le carrousel + le jeu de billard : $13,75€ + 7,50€ + 22,20€ = 43,45€$

Calcule le prix de :

-6 soldats de plomb : $55,95€ \times 2 = 111,90€$

-1 soldat de plomb : $55,95€ : 3 = 18,65€$

-2 soldats de plomb : $18,65€ \times 2 = 37,30€$

-4 avions : $13,75€ \times 4 = 55€$

Après les fêtes, les magasins soldent...

Calcule :

-50% sur le prix des quilles : $22,20€ : 2 = 11,10€$

-10% sur la maison : $80€ : 10 = 8€$

-10% sur le prix du train : $11€ : 10 = 1,10€$

-25% sur le prix du GSM : $125€ : 4 = 31,25€$