

# A la fête foraine

Pendant les vacances, je suis allé à la fête foraine avec mes amis.

Nous sommes allés à la pêche aux canards.


Chaque canard attrapé vaut 8 points.

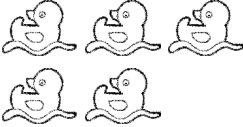

1. Peux-tu calculer le score de chacun.

2. Écris le calcul que tu fais et la réponse.



8 points



 Jules 	 Léa 
 Marie 	 Nathan 
 Élodie 	 Mathias 
 Valentine 	 Anne 
 Pierre 	 Gaspard 

3. Qui est le gagnant? Fais un classement des enfants en fonction de leurs points.



Prénom	Nombre de canards	Points
.....	.....	.....
.....	.....	.....
.....	.....	.....
.....	.....	.....
.....	.....	.....
.....	.....	.....
.....	.....	.....
.....	.....	.....
.....	.....	.....
.....	.....	.....
.....	.....	.....
.....	.....	.....
.....	.....	.....
.....	.....	.....
.....	.....	.....
.....	.....	.....
.....	.....	.....

4. Tu as découvert la table de ..... . Essaie de la reconstruire dans l'ordre.

.....

.....

.....

.....

.....

.....

.....

.....

.....

.....

.....

.....

.....

.....

.....

.....

