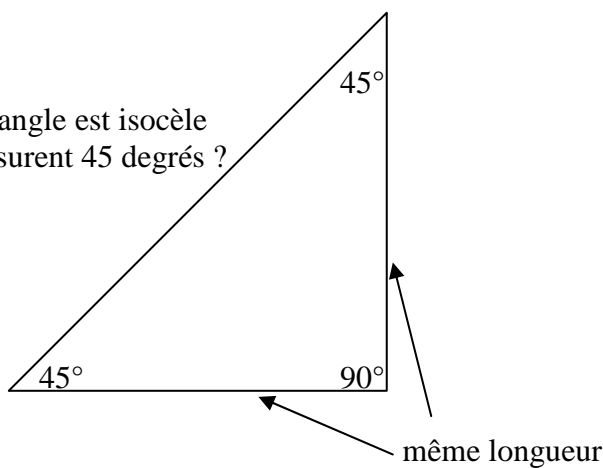
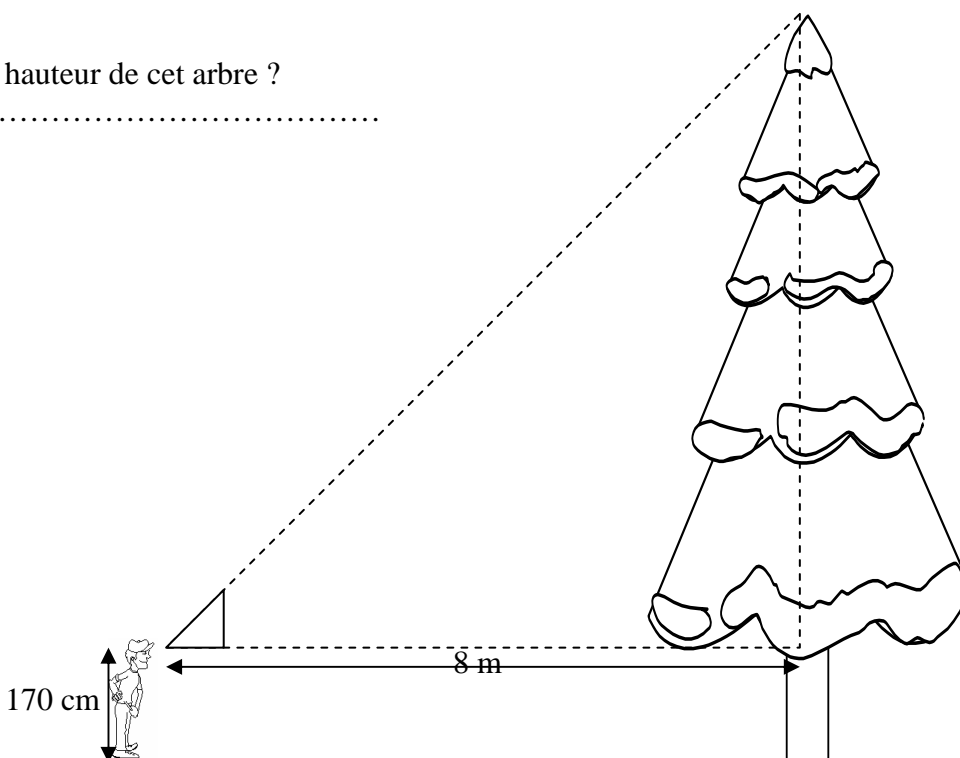


LE TRIANGLE ISOCÈLE RECTANGLE POUR MESURER DES HAUTEURS.

Savais-tu qu'un triangle rectangle est isocèle si les deux autres angles mesurent 45 degrés ?

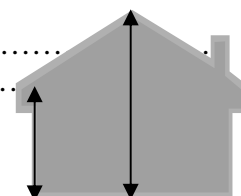


Quelle est la hauteur de cet arbre ?
.....



Grâce à ce dessin, explique les étapes à suivre, les conditions nécessaires pour réussir à mesurer une hauteur inaccessible.

Quelle est la hauteur de ta maison ? Jusqu'au début du toit
Jusqu'au sommet du toit



Choisis un arbre et mesure sa hauteur :

Choisis une hauteur que tu as envie de connaître (église ?)

.....