

# Des problèmes avec le nombre 24



En classe, nous sommes 24 élèves.

1. Nous sommes 24 élèves dans la classe.

Après le relevé des repas de midi, M<sup>elle</sup> Craquette nous annonce que nous serons 3 groupes d'un même nombre à manger des tartines, des repas chauds et à rentrer à la maison. Combien d'enfants rentreront chez eux ?

Dessine le calcul.

J'entoure la bonne opération.

24+3  
24×3  
24-3  
24:3

Ecris la réponse dans une petite phrase.


.....

2. Marie regarde les 6 vaches qui broutent dans le pré.

Combien de pattes compte-t-elle ?

Dessine le calcul.

J'entoure la bonne opération.




6+4  
6×4  
6-4  
6:4


Ecris la réponse dans une petite phrase.

Marie .....

3. Chaque mercredi, la classe est partagée en 2. Combien d'enfants travaillent les problèmes maintenant ?


<p><u>Dessine le calcul.</u></p> 	<p><u>J'entoure la bonne opération.</u></p> <p style="text-align: center;"> <math>24-2</math>  <math>24+24</math>  <math>24 \times 2</math>  <math>24:2</math> </p>
<p><u>Ecris la réponse dans une petite phrase.</u>          Il y a .....</p>	

4. Nous devons mesurer des segments mais 5 élèves sur 24 ont oublié leur latte. Combien d'enfants possèdent leur latte?

<p><u>Dessine le calcul.</u></p> 	<p><u>J'entoure la bonne opération.</u></p> <p style="text-align: center;"> <math>5+24</math>  <math>24:5</math>  <math>24-5</math>  <math>24 \times 5</math> </p>
<p><u>Ecris la réponse dans une petite phrase.</u>          .....</p>	

5. M<sup>elle</sup> Craquotte demande à Kyan de partager la classe en 6 petits groupes identiques.  
Combien d'enfants Kyan met-il dans chaque groupe ?

Dessine le calcul.



J'entoure la bonne opération.

$24-6$

$24+6$

$24:6$

$24 \times 6$

Ecris la réponse dans une petite phrase.

.....