

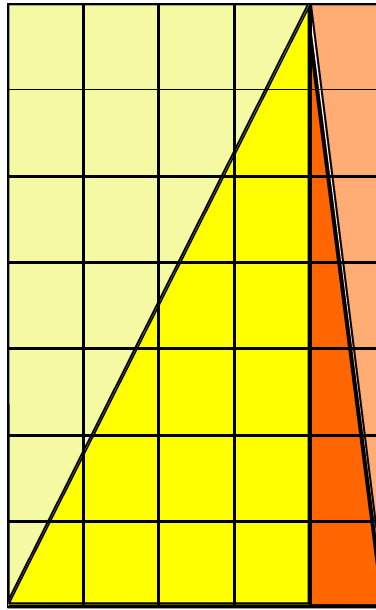
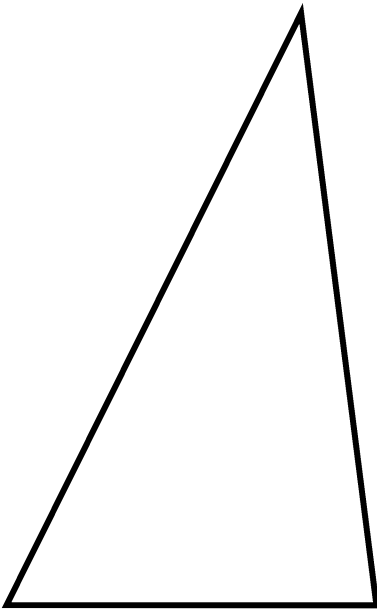
Prénom : _____

Le 1 juin 2010

M Gr

Je calcule l'aire des triangles.

Observe, déduis, complète .



Tu dois trouver l'aire de ce triangle . Pour t'aider, observe le triangle identique inscrit dans le quadrillage.
Note tes démarches ci-dessous.

.....

.....

.....

.....

.....

.....

.....

.....

.....

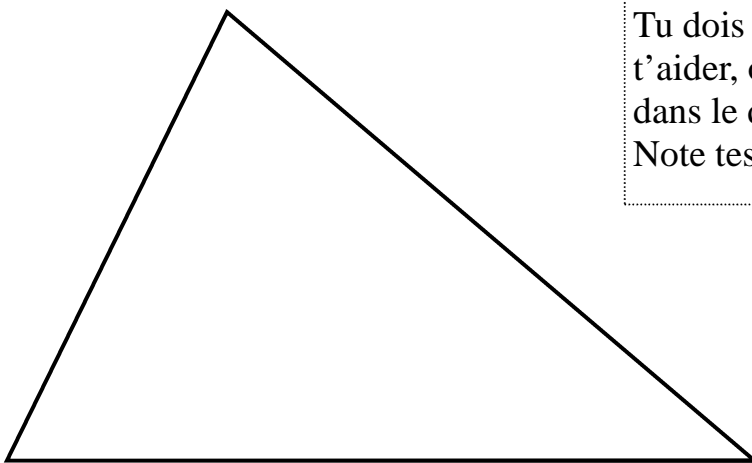
Prénom : _____

Le 1 juin 2010

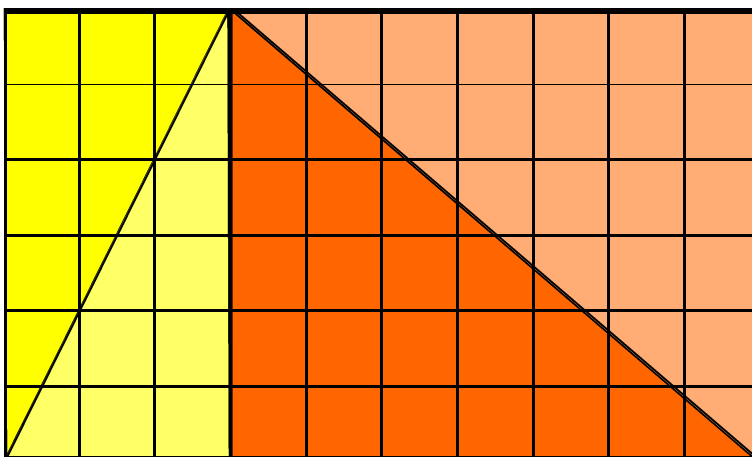
M Gr

Je calcule l'aire des triangles. (2)

Utilise le procédé découvert pour chercher le périmètre de ce triangle .



Tu dois trouver l'aire de ce triangle . Pour t'aider, observe le triangle identique inscrit dans le quadrillage.
Note tes démarches ci-dessous.



A large dashed rectangular box containing 15 horizontal dotted lines for writing.