
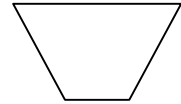


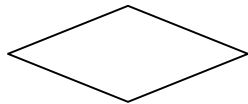


Prénom :.....

Date :.....

Je connais le nom et les caractéristiques de
chaque forme.

 Observe les formes. Coche dans le tableau ce qui convient pour chaque
forme.



	1	2	3	4	5
... est un quadrilatère.					
... n'a que 2 cotés parallèles.					
... a les côtés parallèles 2 à 2.					
... a les côtés isométriques 2 à 2.					
... a les 4 côtés isométriques.					
... a des angles droits.					
... a 4 angles droits.					

 J'en sais assez pour pouvoir définir chaque forme.

Un est un polygone à côtés.

v J'ai

Je m'appelle le

v J'ai

Je m'appelle le

v J'ai
et
Je m'appelle le

v J'ai
et
Je m'appelle le

v J'ai
et
Je m'appelle le