

Défi

Une tour contient 8 cubes à empiler. Combien de cubes faudra-t-il pour construire 7 tours ?

Défi

Si Naïa nage 12 mètres chaque jour pendant 7 jours, quelle distance parcourra-t-elle au total ?

Défi

24 personnes font la queue pour prendre un taxi à la gare. Chaque fois qu'un taxi arrive, il prend 3 personnes. Combien de taxis faudra-t-il pour 24 personnes ?

Défi

Le pâtissier fait des tartelettes aux fraises. Il veut mettre 9 fraises sur chaque tartelette. Combien de fraises lui faudra-t-il pour faire 6 tartelettes ?

Défi

Une boîte contient 6 œufs. Combien d'œufs y a-t-il dans 12 boîtes ?

Défi

Timéo met son argent de poche de côté. Il économise 4 € par semaine. Combien d'argent aura-t-il économisé en 8 semaines ?

Défi

Un gâteau contient 12 g de pépites de chocolat. Combien de grammes de pépites de chocolat faudra-t-il pour faire 8 gâteaux ?

Défi

Mila fait des nœuds avec du ruban. Il faut 12 cm de ruban pour faire un nœud. Combien de ruban lui faudra-t-il pour faire 4 nœuds ?



Chance

Fais un tableau pour représenter 7×8 .

Chance

Utilise des objets pour représenter 4×3 .

Chance

Récite la table de 5 à l'endroit puis à l'envers.

Chance

Fais un tableau pour représenter 6×3 .

Chance

Trouve un objet qui rime avec chaque nombre de 1 à 10 (par exemple « nœud » ou « doigt »). Dessine ou mime-les. Tes amis devront deviner l'objet et le chiffre.

Chance






Frotte-toi la tête et touche-toi le ventre en même temps.

Chance

Fais 10 sauts à cloche-pied.

Chance

Dessine dans l'air, avec ton doigt, des multiplications dont le résultat est 12.



Mathopoly

Joueur 1 _____	Joueur 2 _____	Joueur 3 _____	Joueur 4 _____

