

Etude du milieu: CS 1

/100

1. Définition échelle numérique /10

.....
.....
.....
.....

2. Définition échelle linéaire /10

.....
.....
.....
.....

3. Donne la signification de l'échelle suivante : 1/125000 /5

.....
.....

4. Donne la signification de l'échelle suivante : /5

.....
.....
.....
.....

5. Cela signifie échelle numérique et échelle linéaire /5

.....
.....

6. A quelle siècle appartient : /5

1049 PCN

1800 PCN

200 ACN

201 PCN

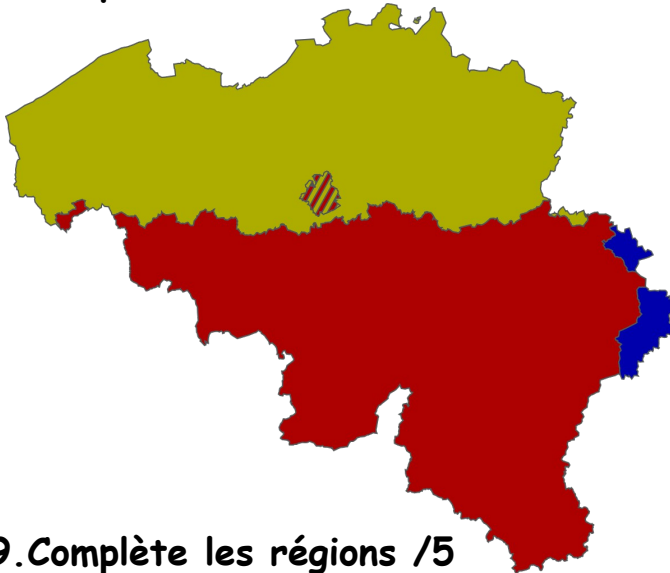
1501 PCN

/40

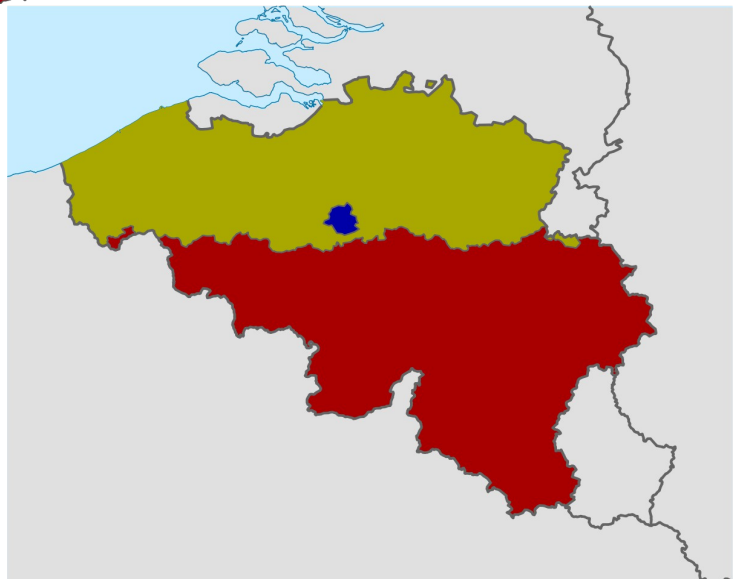
7. Complète les provinces et leur chef-lieux /20

☐
☐
☐
☐
☐
☐
☐
☐
☐
☐

8. Complète les communautés /5


☐
☐
☐

9. Complète les régions /5

☐
☐
☐

10. Complète la rose des vents /10

/40



/10

11. J'ai parcouru 45km en 56min
calcule la vitesse moyenne

.....
.....
.....
.....
.....

12..Localise la Grand-Place par rapport au Collège(avec la carte) /10

Ecris tes calculs.

.....
.....
.....
.....
.....

/20