

Repères historiques



version
TEST
sans solutions



1. Prends ton niveau



2. Plie sur le trait pour cacher les solutions.



3. Ecris les réponses dans un cahier à côté, rien sur la feuille!



4. A la fin du temps accordé, compare tes réponses aux solutions.



5. Corrige tes erreurs et analyse-les.



6. Prêt pour le niveau suivant ?
Demande à passer un test.

module I

niv.1 ordre chronologique
niv.2 période conventionnelle

			 Néolithique/ Antiquité	 Moyen Âge	 Époque Contemporaine
---	--	---	--	--	--


module II

niv.1 ligne du temps
niv.2 siècle
niv.3 période conventionnelle
niv.4 événement

		De 1 939 à 1 945	20 ^e /XX ^e siècle	Préhistoire Antiquité Moyen Âge Temps Modernes Époque contemporaine	La Seconde Guerre mondiale
--	---	---------------------	---	--	---

module III

niv.1 période conventionnelle
niv.2 siècle
niv.3 date exacte

	Tour du monde	Temps Modernes	16 ^e / XVI ^e siècle	De 1 519 à 1 521
---	---------------	----------------	--	-----------------------------

niv.1 : Remets les images dans l'ordre chronologique.

niv.2 : Donne la période conventionnelle d'une des images.

module I







	Image 1	Image 2	Image 3	
1				1
2				2
3				3
4				4

niv.1 : Remets les images dans l'ordre chronologique.

niv.2 : Donne la période conventionnelle d'une des images.

module I












	Image 1	Image 2	Image 3	
5				5
6				6
7				7
8				8

niv.1 : Remets les images dans l'ordre chronologique.

niv.2 : Donne la période conventionnelle d'une des images.

module I



	Image 1	Image 2	Image 3	
9				9
10				10
11				11
12				12

niv.1 : Remets les images dans l'ordre chronologique.

niv.2 : Donne la période conventionnelle d'une des images.

module I












	Image 1	Image 2	Image 3	
13				13
14				14
15				15
16				16

niv.1 : Remets les images dans l'ordre chronologique.

niv.2 : Donne la période conventionnelle d'une des images.

module I



	Image 1	Image 2	Image 3	
17				17
18				18
19				19

niv.1 : Remets les images dans l'ordre chronologique.

niv.2 : Donne la période conventionnelle d'une des images.

module I



	Image 1	Image 2	Image 3	
20				20
21				21
22				22
23				23

niv.1 : Remets les images dans l'ordre chronologique.

niv.2 : Donne la période conventionnelle d'une des images.

module I



Image 1

Image 2

Image 3

2
4



24

niv.1 : Écris la date ou l'intervalle représenté sur la frise.

niv.2 : Écris le siècle, en chiffres arabes/chiffres romains, pour les dates à partir du VIII^e siècle avant JC.

niv.3 : Écris la période conventionnelle concernée.

niv.4 : Si tu le connais, nomme l'évènement (tu peux t'aider de l'image).



ligne du temps

1			1
2			2
3			3
4			4

niv.1 : Écris la date ou l'intervalle représenté sur la frise.

niv.2 : Écris le siècle, en chiffres arabes/chiffres romains, pour les dates à partir du VIII^e siècle avant JC.

niv.3 : Écris la période conventionnelle concernée.

niv.4 : Si tu le connais, nomme l'évènement (tu peux t'aider de l'image).



ligne du temps

5			5
6			6
7			7
8			8



niv.1 : Écris la date ou l'intervalle représenté sur la frise.

niv.2 : Écris le siècle, en chiffres arabes/chiffres romains, pour les dates à partir du VIII^e siècle avant JC.

niv.3 : Écris la période conventionnelle concernée.

niv.4 : Si tu le connais, nomme l'évènement (tu peux t'aider de l'image).



ligne du temps

9			9
10			10
11			11
12			12

niv.1 : Écris la date ou l'intervalle représenté sur la frise.

niv.2 : Écris le siècle, en chiffres arabes/chiffres romains, pour les dates à partir du VIII^e siècle avant JC.

niv.3 : Écris la période conventionnelle concernée.

niv.4 : Si tu le connais, nomme l'évènement (tu peux t'aider de l'image).



ligne du temps

13			13
14			14
15			15
16			16

niv.1 : Écris la date ou l'intervalle représenté sur la frise.

niv.2 : Écris le siècle, en chiffres arabes/chiffres romains, pour les dates à partir du VIII^e siècle avant JC.

niv.3 : Écris la période conventionnelle concernée.

niv.4 : Si tu le connais, nomme l'évènement (tu peux t'aider de l'image).



ligne du temps

17			17
18			18
19			19
20			20



niv.1 : Écris la date ou l'intervalle représenté sur la frise.

niv.2 : Écris le siècle, en chiffres arabes/chiffres romains, pour les dates à partir du VIII^e siècle avant JC.

niv.3 : Écris la période conventionnelle concernée.

niv.4 : Si tu le connais, nomme l'évènement (tu peux t'aider de l'image).



ligne du temps

21			21
22			22
23			23
24			24

niv.1 : Écris la date ou l'intervalle représenté sur la frise.

niv.2 : Écris le siècle, en chiffres arabes/chiffres romains, pour les dates à partir du VIII^e siècle avant JC.

niv.3 : Écris la période conventionnelle concernée.

niv.4 : Si tu le connais, nomme l'évènement (tu peux t'aider de l'image).



ligne du temps

25			25
26		<p>The Lenoir Gas Engine</p>	26
27			27
28			28

niv.1 : Écris la date ou l'intervalle représenté sur la frise.

niv.2 : Écris le siècle, en chiffres arabes/chiffres romains, pour les dates à partir du VIII^e siècle avant JC.

niv.3 : Écris la période conventionnelle concernée.

niv.4 : Si tu le connais, nomme l'évènement (tu peux t'aider de l'image).



ligne du temps

29			29
30			30
31			31
32			32

niv.1 : Écris la date ou l'intervalle représenté sur la frise.

niv.2 : Écris le siècle, en chiffres arabes/chiffres romains, pour les dates à partir du VIII^e siècle avant JC.

niv.3 : Écris la période conventionnelle concernée.

niv.4 : Si tu le connais, nomme l'évènement (tu peux t'aider de l'image).



ligne du temps

33			33
34			34
35			35
36			36

niv.1 : Écris la date ou l'intervalle représenté sur la frise.

niv.2 : Écris le siècle, en chiffres arabes/chiffres romains, pour les dates à partir du VIII^e siècle avant JC.

niv.3 : Écris la période conventionnelle concernée.

niv.4 : Si tu le connais, nomme l'évènement (tu peux t'aider de l'image).



ligne du temps

37			37
38			38
39			39
40			40



niv.1 : Écris la date ou l'intervalle représenté sur la frise.

niv.2 : Écris le siècle, en chiffres arabes/chiffres romains, pour les dates à partir du VIII^e siècle avant JC.

niv.3 : Écris la période conventionnelle concernée.

niv.4 : Si tu le connais, nomme l'évènement (tu peux t'aider de l'image).



ligne du temps

41			41
42			42
43			43
44			44

niv.1 : Écris la date ou l'intervalle représenté sur la frise.

niv.2 : Écris le siècle, en chiffres arabes/chiffres romains, pour les dates à partir du VIII^e siècle avant JC.

niv.3 : Écris la période conventionnelle concernée.

niv.4 : Si tu le connais, nomme l'évènement (tu peux t'aider de l'image).



ligne du temps

45			45
46			46
47			47
48			48

niv.1 : Écris la date ou l'intervalle représenté sur la frise.

niv.2 : Écris le siècle, en chiffres arabes/chiffres romains, pour les dates à partir du VIII^e siècle avant JC.

niv.3 : Écris la période conventionnelle concernée.

niv.4 : Si tu le connais, nomme l'évènement (tu peux t'aider de l'image).



ligne du temps

49			49
50			50
51			51
52			52
53			53



niv.1 : Écris la date ou l'intervalle représenté sur la frise.

niv.2 : Écris le siècle, en chiffres arabes/chiffres romains, pour les dates à partir du VIII^e siècle avant JC.

niv.3 : Écris la période conventionnelle concernée.

niv.4 : Si tu le connais, nomme l'évènement (tu peux t'aider de l'image).



ligne du temps

54			54
55			55
56			56
57			57

niv.1 : Écris la date ou l'intervalle représenté sur la frise.

niv.2 : Écris le siècle, en chiffres arabes/chiffres romains, pour les dates à partir du VIII^e siècle avant JC.

niv.3 : Écris la période conventionnelle concernée.

niv.4 : Si tu le connais, nomme l'évènement (tu peux t'aider de l'image).



ligne du temps

58			58
59			59
60			60
61			61

niv.1 : Écris la date ou l'intervalle représenté sur la frise.

niv.2 : Écris le siècle, en chiffres arabes/chiffres romains, pour les dates à partir du VIII^e siècle avant JC.

niv.3 : Écris la période conventionnelle concernée.

niv.4 : Si tu le connais, nomme l'évènement (tu peux t'aider de l'image).



ligne du temps

62			62
63			63
64			64
65			65



niv.1 : Écris la date ou l'intervalle représenté sur la frise.

niv.2 : Écris le siècle, en chiffres arabes/chiffres romains, pour les dates à partir du VIII^e siècle avant JC.

niv.3 : Écris la période conventionnelle concernée.

niv.4 : Si tu le connais, nomme l'évènement (tu peux t'aider de l'image).



ligne du temps

66			66
67			67
68			68
69			69
70			70

niv.1 : Écris la date ou l'intervalle représenté sur la frise.

niv.2 : Écris le siècle, en chiffres arabes/chiffres romains, pour les dates à partir du VIII^e siècle avant JC.

niv.3 : Écris la période conventionnelle concernée.

niv.4 : Si tu le connais, nomme l'évènement (tu peux t'aider de l'image).



ligne du temps

71			71
72			72
73			73
74			74

niv.1 : Écris la date ou l'intervalle représenté sur la frise.

niv.2 : Écris le siècle, en chiffres arabes/chiffres romains, pour les dates à partir du VIII^e siècle avant JC.

niv.3 : Écris la période conventionnelle concernée.

niv.4 : Si tu le connais, nomme l'évènement (tu peux t'aider de l'image).



ligne du temps

75			75
76			76
77			77
78			78



niv.1 : Écris la date ou l'intervalle représenté sur la frise.

niv.2 : Écris le siècle, en chiffres arabes/chiffres romains, pour les dates à partir du VIII^e siècle avant JC.

niv.3 : Écris la période conventionnelle concernée.

niv.4 : Si tu le connais, nomme l'évènement (tu peux t'aider de l'image).



ligne du temps

79			79
80			80
81			81
82			82

niv.1 : Écris la date ou l'intervalle représenté sur la frise.

niv.2 : Écris le siècle, en chiffres arabes/chiffres romains, pour les dates à partir du VIII^e siècle avant JC.

niv.3 : Écris la période conventionnelle concernée.

niv.4 : Si tu le connais, nomme l'évènement (tu peux t'aider de l'image).



ligne du temps

83			83
84			84
85			85
86			86

niv.1 : Écris la date ou l'intervalle représenté sur la frise.

niv.2 : Écris le siècle, en chiffres arabes/chiffres romains, pour les dates à partir du VIII^e siècle avant JC.

niv.3 : Écris la période conventionnelle concernée.

niv.4 : Si tu le connais, nomme l'évènement (tu peux t'aider de l'image).



ligne du temps

87			87
88			88
89			89
90			90

niv.1 : Écris la date ou l'intervalle représenté sur la frise.

niv.2 : Écris le siècle, en chiffres arabes/chiffres romains, pour les dates à partir du VIII^e siècle avant JC.

niv.3 : Écris la période conventionnelle concernée.

niv.4 : Si tu le connais, nomme l'évènement (tu peux t'aider de l'image).



ligne du temps

91			91
92			92
93			93
94			94

niv.1 : Écris la date ou l'intervalle représenté sur la frise.

niv.2 : Écris le siècle, en chiffres arabes/chiffres romains, pour les dates à partir du VIII^e siècle avant JC.

niv.3 : Écris la période conventionnelle concernée.

niv.4 : Si tu le connais, nomme l'évènement (tu peux t'aider de l'image).



ligne du temps

95			95
96			96
97			97
98			98

niv.1 : Écris la date ou l'intervalle représenté sur la frise.

niv.2 : Écris le siècle, en chiffres arabes/chiffres romains, pour les dates à partir du VIII^e siècle avant JC.

niv.3 : Écris la période conventionnelle concernée.

niv.4 : Si tu le connais, nomme l'évènement (tu peux t'aider de l'image).



ligne du temps

99			99
100			100
101			101
102			102



niv.1 : Écris la date ou l'intervalle représenté sur la frise.

niv.2 : Écris le siècle, en chiffres arabes/chiffres romains, pour les dates à partir du VIII^e siècle avant JC.

niv.3 : Écris la période conventionnelle concernée.

niv.4 : Si tu le connais, nomme l'évènement (tu peux t'aider de l'image).



ligne du temps			
103	<p>A horizontal timeline from 1800 to 1840. Major ticks are labeled at 1800 and 1840. A red arrow points to the year 1820.</p>	<p>A painting depicting the Battle of Waterloo, showing soldiers in battle.</p>	103
104	<p>A horizontal timeline from 1330 to 1450. Major ticks are labeled at 1330 and 1450. A red arrow points to the year 1400.</p>	<p>A painting depicting the Battle of Agincourt, showing soldiers on horseback.</p>	104
105	<p>A horizontal timeline from 1900 to 1950. Major ticks are labeled at 1900 and 1950. A red arrow points to the year 1920.</p>	<p>A black and white portrait of Vladimir Lenin.</p>	105
106	<p>A horizontal timeline from 1950 to 2020. Major ticks are labeled at 1950 and 2020. A red arrow points to the year 1980.</p>	<p>A photograph of Michael Jackson in his signature white jacket.</p>	106

niv.1 : Écris la date ou l'intervalle représenté sur la frise.

niv.2 : Écris le siècle, en chiffres arabes/chiffres romains, pour les dates à partir du VIII^e siècle avant JC.

niv.3 : Écris la période conventionnelle concernée.

niv.4 : Si tu le connais, nomme l'évènement (tu peux t'aider de l'image).



ligne du temps

107			107
108			108
109			109
110			110

niv.1 : Écris la date ou l'intervalle représenté sur la frise.

niv.2 : Écris le siècle, en chiffres arabes/chiffres romains, pour les dates à partir du VIII^e siècle avant JC.

niv.3 : Écris la période conventionnelle concernée.

niv.4 : Si tu le connais, nomme l'évènement (tu peux t'aider de l'image).



ligne du temps

111			111
112			112
113			113
114			114

niv.1 : Écris la date ou l'intervalle représenté sur la frise.

niv.2 : Écris le siècle, en chiffres arabes/chiffres romains, pour les dates à partir du VIII^e siècle avant JC.

niv.3 : Écris la période conventionnelle concernée.

niv.4 : Si tu le connais, nomme l'évènement (tu peux t'aider de l'image).



ligne du temps

115			115
116			116
117			117
118			118

niv.1 : Écris la date ou l'intervalle représenté sur la frise.

niv.2 : Écris le siècle, en chiffres arabes/chiffres romains, pour les dates à partir du VIII^e siècle avant JC.

niv.3 : Écris la période conventionnelle concernée.

niv.4 : Si tu le connais, nomme l'évènement (tu peux t'aider de l'image).



ligne du temps

119			119
120			120
121			121
122			122
123			123

niv.1 : Écris la date ou l'intervalle représenté sur la frise.

niv.2 : Écris le siècle, en chiffres arabes/chiffres romains, pour les dates à partir du VIII^e siècle avant JC.

niv.3 : Écris la période conventionnelle concernée.

niv.4 : Si tu le connais, nomme l'évènement (tu peux t'aider de l'image).



ligne du temps

124			124
125			125
126			126
127			127



niv.1 : Écris la date ou l'intervalle représenté sur la frise.

niv.2 : Écris le siècle, en chiffres arabes/chiffres romains, pour les dates à partir du VIII^e siècle avant JC.

niv.3 : Écris la période conventionnelle concernée.

niv.4 : Si tu le connais, nomme l'évènement (tu peux t'aider de l'image).



ligne du temps

128			128
129			129
130			130
131			131

niv.1 : Écris la date ou l'intervalle représenté sur la frise.

niv.2 : Écris le siècle, en chiffres arabes/chiffres romains, pour les dates à partir du VIII^e siècle avant JC.

niv.3 : Écris la période conventionnelle concernée.

niv.4 : Si tu le connais, nomme l'évènement (tu peux t'aider de l'image).



ligne du temps

132			132
133			133
134			134
135			135



niv.1 : Écris la date ou l'intervalle représenté sur la frise.

niv.2 : Écris le siècle, en chiffres arabes/chiffres romains, pour les dates à partir du VIII^e siècle avant JC.

niv.3 : Écris la période conventionnelle concernée.

niv.4 : Si tu le connais, nomme l'évènement (tu peux t'aider de l'image).



ligne du temps

136			136
137			137
138			138
139			139

niv.1 : Écris la date ou l'intervalle représenté sur la frise.

niv.2 : Écris le siècle, en chiffres arabes/chiffres romains, pour les dates à partir du VIII^e siècle avant JC.

niv.3 : Écris la période conventionnelle concernée.

niv.4 : Si tu le connais, nomme l'évènement (tu peux t'aider de l'image).



ligne du temps

140			140
141			141
142			142
143			143

niv.1 : Écris la date ou l'intervalle représenté sur la frise.

niv.2 : Écris le siècle, en chiffres arabes/chiffres romains, pour les dates à partir du VIII^e siècle avant JC.

niv.3 : Écris la période conventionnelle concernée.

niv.4 : Si tu le connais, nomme l'évènement (tu peux t'aider de l'image).



ligne du temps





144			144
145			145
146			146

niv.1 : Indique la période conventionnelle dans laquelle a lieu cet évènement.

niv.2 : Précise le siècle dans lequel il a lieu (chiffres romains/arabes).

niv.3 : Précise la date exacte.



	image	évènement	
1		Première Guerre mondiale	1
2		Premier homme sur la lune	2
3		Maitrise du feu	3
4		Traité de Rome	4






niv.1 : Indique la période conventionnelle dans laquelle a lieu cet évènement.

niv.2 : Précise le siècle dans lequel il a lieu (chiffres romains/arabes).

niv.3 : Précise la date exacte.

module III



	image	évènement	
5		Révolution française	5
6		Seconde Guerre mondiale	6
7		Premières peintures rupestres	7
8		Apparition du genre Homo	8
9		Premiers jeux olympiques	9




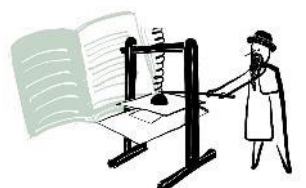

niv.1 : Indique la période conventionnelle dans laquelle a lieu cet événement.

niv.2 : Précise le siècle dans lequel il a lieu (chiffres romains/arabes).

niv.3 : Précise la date exacte.

module III



	image	événement	
10		Fondation de Rome	10
11		Big Bang	11
12		Indépendance de la Belgique	12
13		Invention de l'imprimerie (caractère mobiles)	13
14		Charlemagne Empereur	14





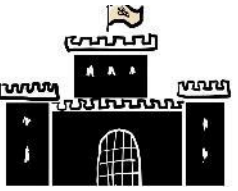
niv.1 : Indique la période conventionnelle dans laquelle a lieu cet événement.

niv.2 : Précise le siècle dans lequel il a lieu (chiffres romains/arabes).

niv.3 : Précise la date exacte.

module III



	image	événement	
15		Invasion des Romains en Gaule	15
16		Tour du monde	16
17		Sédentarisation	17
18		Chute de l'Empire romain d'Occident	18
19		Diffusion des châteaux forts en pierres	19






niv.1 : Indique la période conventionnelle dans laquelle a lieu cet événement.

niv.2 : Précise le siècle dans lequel il a lieu (chiffres romains/arabes).

niv.3 : Précise la date exacte.

module III



	image	événement	
20		Découverte de l'Amérique	20
21		Révolution industrielle	21
22		L'essor des villes	22
23		Invention de l'écriture	23
24		Extinction des dinosaures	24






niv.1 : Indique la période conventionnelle dans laquelle a lieu cet événement.

niv.2 : Précise le siècle dans lequel il a lieu (chiffres romains/arabes).

niv.3 : Précise la date exacte.

module III



	image	événement	
25		Monarchie absolue en France	25
26		Hégire	26
27		Attentats du 11 septembre	27
28		Exode rural	28
29		Début du système féodal	29






niv.1 : Indique la période conventionnelle dans laquelle a lieu cet événement.

niv.2 : Précise le siècle dans lequel il a lieu (chiffres romains/arabes).

niv.3 : Précise la date exacte.

module III



	image	événement	
30		Construction des pyramides en Égypte	30
31		Premier réseau GSM	31
32		Naissance de Jésus-Christ	32
33		Chute du mur de Berlin	33
34		Apparition de l'Homo Sapiens	34

niv.1 : Indique la période conventionnelle dans laquelle a lieu cet événement.

niv.2 : Précise le siècle dans lequel il a lieu (chiffres romains/arabes).

niv.3 : Précise la date exacte.

module III



	image	événement	
35		Pythagore et son théorème	35
36		Internet	36
37		Instruction primaire obligatoire	37
38		Chute de l'Empire romain d'Orient	38
39		Abolition de l'esclavage aux USA	39






niv.1 : Indique la période conventionnelle dans laquelle a lieu cet événement.

niv.2 : Précise le siècle dans lequel il a lieu (chiffres romains/arabes).

niv.3 : Précise la date exacte.

module III



	image	événement	
40		Invasions des Vikings	40
41		Première ligne de chemin de fer belge	41
42		La peste noire	42
43		La Révolution Russe	43
44		Premier vol d'avion à moteur	44






niv.1 : Indique la période conventionnelle dans laquelle a lieu cet événement.

niv.2 : Précise le siècle dans lequel il a lieu (chiffres romains/arabes).

niv.3 : Précise la date exacte.

module III



	image	événement	
45		Cléopâtre Reine d'Egypte	45
46		L'invasion des Celtes	46
47		Philosophes grecs	47
48		Bombe atomique	48
49		Renaissance européenne	49




niv.1 : Indique la période conventionnelle dans laquelle a lieu cet événement.

niv.2 : Précise le siècle dans lequel il a lieu (chiffres romains/arabes).

niv.3 : Précise la date exacte.

module III



	image	évènement	
50		Moïse	50
51		Electricité	51
52		Conférence de Yalta	52