

Repères historiques



1. Prends ton niveau



2. Plie sur le trait pour cacher les solutions.



3. Ecris les réponses dans un cahier à côté, rien sur la feuille!



4. A la fin du temps accordé, compare tes réponses aux solutions.



5. Corrige tes erreurs et analyse-les.



6. Prêt pour le niveau suivant ?
Demande à passer un test.

module I

niv.1 ordre chronologique
niv.2 période conventionnelle

			 Néolithique/ Antiquité	 Moyen Âge	 Époque Contemporaine
---	--	---	--	--	--


module II

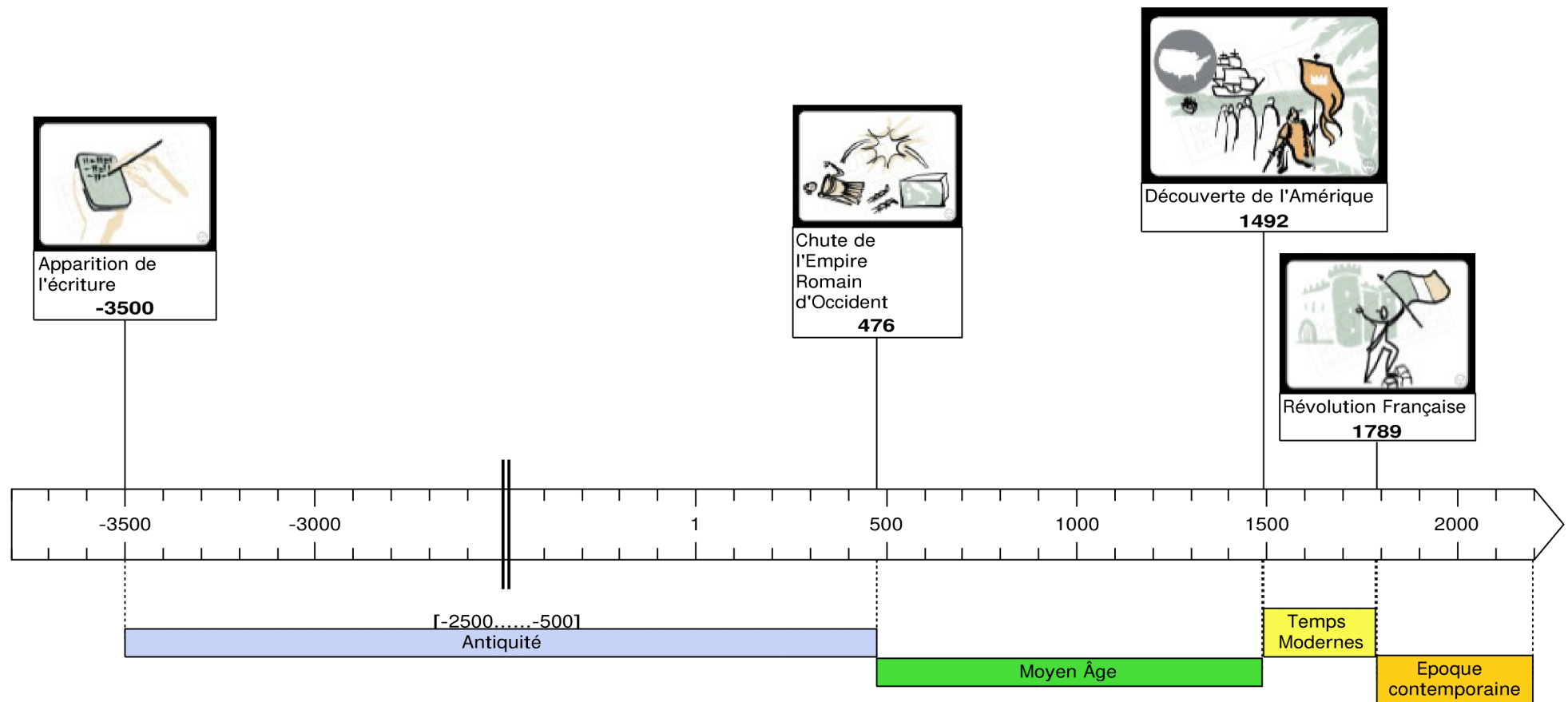
niv.1 ligne du temps
niv.2 siècle
niv.3 période conventionnelle
niv.4 événement

		De 1 939 à 1 945	20 ^e /XX ^e siècle	Préhistoire Antiquité Moyen Âge Temps Modernes Époque contemporaine	La Seconde Guerre mondiale
--	---	---------------------	---	--	---

module III

niv.1 période conventionnelle
niv.2 siècle
niv.3 date exacte

	Tour du monde	Temps Modernes	16 ^e / XVI ^e siècle	De 1 519 à 1 521
---	---------------	----------------	--	-----------------------------



niv.1 : Remets les images dans l'ordre chronologique.

niv.2 : Donne la période conventionnelle d'une des images.

module I



	Image 1	Image 2	Image 3	Image 1	Image 2	Image 3	
1							1
2							2
3							3
4							4
				Antiquité	Époque Contemporaine	Époque Contemporaine	
				Néolithique/ Antiquité	Moyen Âge	Époque Contemporaine	
				Préhistoire	Antiquité	Époque Contemporaine	
				Antiquité	Moyen Âge	Époque Contemporaine	

niv.1 : Remets les images dans l'ordre chronologique.

niv.2 : Donne la période conventionnelle d'une des images.

module I



























	Image 1	Image 2	Image 3	Image 1	Image 2	Image 3	
5							5
6							6
7							7
8							8
				Préhistoire	Moyen Âge	Temps Modernes	
				Antiquité	Époque Contemporaine	Époque Contemporaine	
				Préhistoire	Moyen Âge	Époque Contemporaine	
				Antiquité	Moyen Âge	Époque Contemporaine	

niv.1 : Remets les images dans l'ordre chronologique.

niv.2 : Donne la période conventionnelle d'une des images.

module I



	Image 1	Image 2	Image 3		Image 1	Image 2	Image 3	
9								9
					Préhistoire	Moyen Âge	Époque Contemporaine	
10								10
					Préhistoire	Moyen Âge	Époque Contemporaine	
11								11
					Antiquité	Époque Contemporaine	Époque Contemporaine	
12								12
					Antiquité	Moyen Âge	Époque Contemporaine	

niv.1 : Remets les images dans l'ordre chronologique.

niv.2 : Donne la période conventionnelle d' une des images.

module I





















	Image 1	Image 2	Image 3		Image 1	Image 2	Image 3	
13								13
					Antiquité	Moyen Âge	Époque Contemporaine	
14								14
					Préhistoire	Moyen-Âge	Époque Contemporaine	
15								15
					Antiquité	Moyen Âge	Époque Contemporaine	

niv.1 : Remets les images dans l'ordre chronologique.

niv.2 : Donne la période conventionnelle d'une des images.

module I



























	Image 1	Image 2	Image 3	Image 1	Image 2	Image 3	
16							16
				Préhistoire	Moyen Âge ou Temps Modernity	Époque Contemporaine	
17							17
				Moyen Âge	Temps Modernity	Époque Contemporaine	
18							18
				Préhistoire	Moyen Âge	Époque Contemporaine	

niv.1 : Remets les images dans l'ordre chronologique.

niv.2 : Donne la période conventionnelle d'une des images.

module I



	Image 1	Image 2	Image 3		Image 1	Image 2	Image 3	
19								19
					Antiquité	Moyen Âge	Époque Contemporaine	
20								20
					Antiquité	Moyen Âge	Époque Contemporaine	
21								21
					Moyen Âge	Temps Moderness	Époque Contemporaine	
22								22
					Antiquité	Moyen Âge	Époque Contemporaine	


niv.1 : Remets les images dans l'ordre chronologique.
niv.2 : Donne la période conventionnelle d' une des images.


23

Image 1

Image 2

Image 3











Image 1

Image 2

Image 3









Moyen Âge

Temps Moderness

Époque Contemporaine

24











Image 1

Image 2

Image 3







Antiquité

Époque Contemporaine

Époque Contemporaine

AURORE – Repères historiques

10



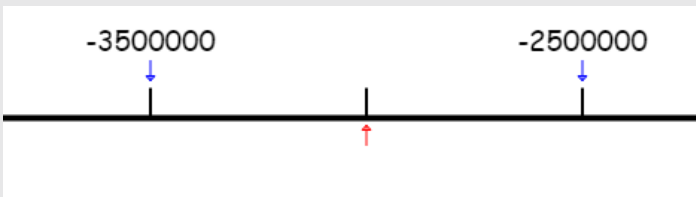




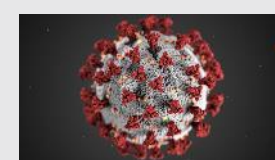
niv.1 : Écris la date ou l'intervalle représenté sur la frise.

niv.2 : Écris le siècle, en chiffres arabes/chiffres romains, pour les dates à partir du VIII^e siècle avant JC.

niv.3 : Écris la période conventionnelle concernée.

niv.4 : Si tu le connais, nomme l'évènement (tu peux t'aider de l'image).



ligne du temps		date(s)	siècle	période conventionnelle	événement	
1			De 1 914 à 1 918	20 ^e / XX ^e siècle	Préhistoire Antiquité Moyen Âge Temps Modernes Époque contemporaine	Première Guerre mondiale
2			-3 millions ou 3 millions avant notre ère	/	Préhistoire Antiquité Moyen Âge Temps Modernes Époque contemporaine	Lucy australopithèque
3			- 3 500 ou 3 500 avant JC	/	Préhistoire Antiquité Moyen Âge Temps Modernes Époque contemporaine	Invention de la roue
4			2 020	21 ^e / XXI ^e siècle	Préhistoire Antiquité Moyen Âge Temps Modernes Époque contemporaine	Crise du coronavirus





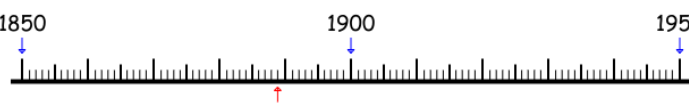



niv.1 : Écris la date ou l'intervalle représenté sur la frise.

niv.2 : Écris le siècle, en chiffres arabes/chiffres romains, pour les dates à partir du VIII^e siècle avant JC.

niv.3 : Écris la période conventionnelle concernée.

niv.4 : Si tu le connais, nomme l'évènement (tu peux t'aider de l'image).



	ligne du temps		date(s)	siècle	période conventionnelle	événement	
5			De 1 525 à 1 569	16 ^e /XVI ^e siècle	Préhistoire Antiquité Moyen Âge Temps Modernes Époque contemporaine	Vie du peintre belge Pieter Brueghel	5
6			-450 000 ou 450 000 avant notre ère	/	Préhistoire Antiquité Moyen Âge Temps Modernes Époque contemporaine	L'homme de Tautavel	6
7			1889	19 ^e / XIX ^e siècle	Préhistoire Antiquité Moyen Âge Temps Modernes Époque contemporaine	Exposition universelle Paris (construction tour Eiffel)	7
8			De -19 000 à -17 000 ou de 19 000 à 17 000 avant JC	/	Préhistoire Antiquité Moyen Âge Temps Modernes Époque contemporaine	Fresques dans la grotte de Lascaux	8

niv.1 : Écris la date ou l'intervalle représenté sur la frise.

niv.2 : Écris le siècle, en chiffres arabes/chiffres romains, pour les dates à partir du VIII^e siècle avant JC.

niv.3 : Écris la période conventionnelle concernée.

niv.4 : Si tu le connais, nomme l'évènement (tu peux t'aider de l'image).



	ligne du temps		date(s)	siècle	période conventionnelle	événement	
9			800	8 ^e / VIII ^e siècle	Préhistoire Antiquité Moyen Âge Temps Modernes Époque contemporaine	Sacre de Charlemagne	9
10			1 839	19 ^e /XIX ^e siècle	Préhistoire Antiquité Moyen Âge Temps Modernes Époque contemporaine	Indépendance du Luxembourg	10
11			1 096 à 1 099	11 ^e /XI ^e siècle	Préhistoire Antiquité Moyen Âge Temps Modernes Époque contemporaine	Première croisade	11
12			De 1 508 à 1 512	16 ^e /XVI ^e siècle	Préhistoire Antiquité Moyen Âge Temps Modernes Époque contemporaine	Michel Ange réalise le plafond de la chapelle Sixtine	12

niv.1 : Écris la date ou l'intervalle représenté sur la frise.

niv.2 : Écris le siècle, en chiffres arabes/chiffres romains, pour les dates à partir du VIII^e siècle avant JC.

niv.3 : Écris la période conventionnelle concernée.

niv.4 : Si tu le connais, nomme l'évènement (tu peux t'aider de l'image).



	ligne du temps		date(s)	siècle	période conventionnelle	événement	
13			- 44 200 ou 44 200 avant JC	/	Préhistoire Antiquité Moyen Âge Temps Modernes Époque contemporaine	L'homme de Spy	13
14			- 52 ou 52 avant JC	1 ^{er} /I ^{er} siècle avant JC	Préhistoire Antiquité Moyen Âge Temps Modernes Époque contemporaine	Défaite de Vercingétorix à Alésia	14
15			1 830	19 ^e / XIX ^e siècle	Préhistoire Antiquité Moyen Âge Temps Modernes Époque contemporaine	Indépendance de la Belgique	15
16			1 million d'années avant notre ère	/	Préhistoire Antiquité Moyen Âge Temps Modernes Époque contemporaine	Premières traces de feu entretenu	16

niv.1 : Écris la date ou l'intervalle représenté sur la frise.

niv.2 : Écris le siècle, en chiffres arabes/chiffres romains, pour les dates à partir du VIII^e siècle avant JC.

niv.3 : Écris la période conventionnelle concernée.

niv.4 : Si tu le connais, nomme l'évènement (tu peux t'aider de l'image).



	ligne du temps		date(s)	siècle	période conventionnelle	événement	
17			1 985	20 ^e / XX ^e siècle	Préhistoire Antiquité Moyen Âge Temps Modernes Époque contemporaine	Accords de Schengen	17
18			476	5 ^e / V ^e siècle	Préhistoire Antiquité Moyen Âge Temps Modernes Époque contemporaine	Fin de l'Empire romain d'Occident	18
19			-10 000 ou 10 000 avant notre ère	/	Préhistoire Antiquité Moyen Âge Temps Modernes Époque contemporaine	Début du Néolithique	19
20			1 453	15 ^e / XV ^e siècle	Préhistoire Antiquité Moyen Âge Temps Modernes Époque contemporaine	Chute de l'Empire romain d'Orient	20

niv.1 : Écris la date ou l'intervalle représenté sur la frise.

niv.2 : Écris le siècle, en chiffres arabes/chiffres romains, pour les dates à partir du VIII^e siècle avant JC.

niv.3 : Écris la période conventionnelle concernée.

niv.4 : Si tu le connais, nomme l'évènement (tu peux t'aider de l'image).



	ligne du temps		date(s)	siècle	période conventionnelle	événement	
21			1 503	16 ^e /XVI ^e siècle	Préhistoire Antiquité Moyen Âge Temps Modernes Époque contemporaine	Réalisation de la Joconde par De Vinci	21
22			De - 58 à - 51 ou de 58 à 51 avant JC	1 ^{er} /I ^{er} siècle avant JC	Préhistoire Antiquité Moyen Âge Temps Modernes Époque contemporaine	La Guerre des Gaules	22
23			De - 51 à - 30 ou de 51 à 30 avant JC	1 ^{er} /I ^{er} siècle avant JC	Préhistoire Antiquité Moyen Âge Temps Modernes Époque contemporaine	Règne de Cléopâtre	23
24			- 2 500 ou 2 500 avant JC	/	Préhistoire Antiquité Moyen Âge Temps Modernes Époque contemporaine	Le Sphinx de Gizeh	24

niv.1 : Écris la date ou l'intervalle représenté sur la frise.

niv.2 : Écris le siècle, en chiffres arabes/chiffres romains, pour les dates à partir du VIII^e siècle avant JC.

niv.3 : Écris la période conventionnelle concernée.

niv.4 : Si tu le connais, nomme l'évènement (tu peux t'aider de l'image).



	ligne du temps		date(s)	siècle	période conventionnelle	événement	
25			1 517	16 ^e / XVI ^e siècle	Préhistoire Antiquité Moyen Âge Temps Modernes Époque contemporaine	Réforme de Martin Luther	25
26			1 860	19 ^e / XIX ^e siècle	Préhistoire Antiquité Moyen Âge Temps Modernes Époque contemporaine	Étienne Lenoir invente le premier moteur à allumage commandé	26
27			1 455	15 ^e / XV ^e siècle	Préhistoire Antiquité Moyen Âge Temps Modernes Époque contemporaine	L'invention de l'imprimerie (caractères mobiles)	27
28			De 1 638 à 1 715	Du 17 ^e au 18 ^e / du XVII ^e au XVIII ^e siècles	Préhistoire Antiquité Moyen Âge Temps Modernes Époque contemporaine	Règne de Louis XIV	28

niv.1 : Écris la date ou l'intervalle représenté sur la frise.

niv.2 : Écris le siècle, en chiffres arabes/chiffres romains, pour les dates à partir du VIII^e siècle avant JC.

niv.3 : Écris la période conventionnelle concernée.

niv.4 : Si tu le connais, nomme l'évènement (tu peux t'aider de l'image).



	ligne du temps		date(s)	siècle	période conventionnelle	événement	
29			-3 000 ou -3 500 ou 3 500 avant JC	/	Préhistoire Antiquité Moyen Âge Temps Modernes Époque contemporaine	L'invention de la roue	29
30			790 à 1 100	Du 8 ^e au 11 ^e /du VIII ^e au XII ^e siècle	Préhistoire Antiquité Moyen Âge Temps Modernes Époque contemporaine	Invasions des Vikings	30
31			1 520	16 ^e / XVI ^e siècle	Préhistoire Antiquité Moyen Âge Temps Modernes Époque contemporaine	Premier tour du monde par Magellan	31
32			1 992	20 ^e /XX ^e siècle	Préhistoire Antiquité Moyen Âge Temps Modernes Époque contemporaine	Création de l'Union européenne	32

niv.1 : Écris la date ou l'intervalle représenté sur la frise.

niv.2 : Écris le siècle, en chiffres arabes/chiffres romains, pour les dates à partir du VIII^e siècle avant JC.

niv.3 : Écris la période conventionnelle concernée.

niv.4 : Si tu le connais, nomme l'évènement (tu peux t'aider de l'image).



	ligne du temps		date(s)	siècle	période conventionnelle	événement	
33			De 1 939 à 1 945	20 ^e /XX ^e siècle	Préhistoire Antiquité Moyen Âge Temps Modernes Époque contemporaine	La Seconde Guerre mondiale	33
34			1 066	11 ^e /XI ^e siècle	Préhistoire Antiquité Moyen Âge Temps Modernes Époque contemporaine	Bataille de Hastings avec Guillaume le Conquérant	34
35			1 548	16 ^e /XVI ^e siècle	Préhistoire Antiquité Moyen Âge Temps Modernes Époque contemporaine	Promulgation de l'Édit de Nantes	35
36			1 916	20 ^e /XX ^e siècle	Préhistoire Antiquité Moyen Âge Temps Modernes Époque contemporaine	Bataille de Verdun	36



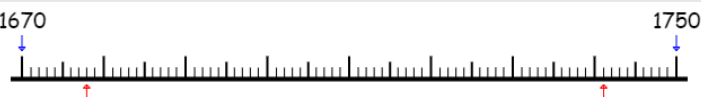





niv.1 : Écris la date ou l'intervalle représenté sur la frise.

niv.2 : Écris le siècle, en chiffres arabes/chiffres romains, pour les dates à partir du VIII^e siècle avant JC.

niv.3 : Écris la période conventionnelle concernée.

niv.4 : Si tu le connais, nomme l'évènement (tu peux t'aider de l'image).



	ligne du temps		date(s)	siècle	période conventionnelle	événement	
37			De 481 à 511	Du 5 ^e au 6 ^e / du V ^e au VI ^e siècle	Préhistoire Antiquité Moyen Âge Temps Modernes Époque contemporaine	Règne de Clovis	37
38			De 1 678 à 1 741	Du 17 ^e au 18 ^e / du XVII ^e au XVIII ^e siècle	Préhistoire Antiquité Moyen Âge Temps Modernes Époque contemporaine	Vie du musicien italien Antonio Vivaldi	38
39			De 1 271 à 1 272	13 ^e / XIII ^e siècle	Préhistoire Antiquité Moyen Âge Temps Modernes Époque contemporaine	La dernière croisade	39
40			1945	20 ^e / XX ^e siècle	Préhistoire Antiquité Moyen Âge Temps Modernes Époque contemporaine	Fin de la Seconde Guerre mondiale	40

niv.1 : Écris la date ou l'intervalle représenté sur la frise.

niv.2 : Écris le siècle, en chiffres arabes/chiffres romains, pour les dates à partir du VIII^e siècle avant JC.

niv.3 : Écris la période conventionnelle concernée.

niv.4 : Si tu le connais, nomme l'évènement (tu peux t'aider de l'image).



	ligne du temps		date(s)	siècle	période conventionnelle	événement	
41			1 957	20 ^e / XX ^e siècle	Préhistoire Antiquité Moyen Âge Temps Modernes Époque contemporaine	Traité de Rome, fondation CEE	41
42			1 992	20 ^e / XX ^e siècle	Préhistoire Antiquité Moyen Âge Temps Modernes Époque contemporaine	Traité de Maastricht, fondation UE	42
43			1 918	20 ^e / XX ^e siècle	Préhistoire Antiquité Moyen Âge Temps Modernes Époque contemporaine	Fin de la Première Guerre mondiale, Armistice	43
44			1 945	20 ^e / XX ^e siècle	Préhistoire Antiquité Moyen Âge Temps Modernes Époque contemporaine	Droit de vote des femmes en France	44

niv.1 : Écris la date ou l'intervalle représenté sur la frise.

niv.2 : Écris le siècle, en chiffres arabes/chiffres romains, pour les dates à partir du VIII^e siècle avant JC.

niv.3 : Écris la période conventionnelle concernée.

niv.4 : Si tu le connais, nomme l'évènement (tu peux t'aider de l'image).



	ligne du temps		date(s)	siècle	période conventionnelle	événement	
45			1 876	19 ^e / XIX ^e siècle	Préhistoire Antiquité Moyen Âge Temps Modernes Époque contemporaine	Invention du téléphone par Alexander Graham Bell	45
46			1 848	19 ^e / XIX ^e siècle	Préhistoire Antiquité Moyen Âge Temps Modernes Époque contemporaine	Abolition définitive de l'esclavage en France	46
47			1 865	19 ^e / XIX ^e siècle	Préhistoire Antiquité Moyen Âge Temps Modernes Époque contemporaine	Abolition définitive de l'esclavage aux États-Unis	47
48			1 881	19 ^e / XIX ^e siècle	Préhistoire Antiquité Moyen Âge Temps Modernes Époque contemporaine	École gratuite grâce à Jules Ferry	48

niv.1 : Écris la date ou l'intervalle représenté sur la frise.

niv.2 : Écris le siècle, en chiffres arabes/chiffres romains, pour les dates à partir du VIII^e siècle avant JC.

niv.3 : Écris la période conventionnelle concernée.

niv.4 : Si tu le connais, nomme l'évènement (tu peux t'aider de l'image).



	ligne du temps		date(s)	siècle	période conventionnelle	événement	
49			1 804	19 ^e / XIX ^e siècle	Préhistoire Antiquité Moyen Âge Temps Modernes Époque contemporaine	Sacre de Napoléon	49
50			1 685	17 ^e / XVII ^e siècle	Préhistoire Antiquité Moyen Âge Temps Modernes Époque contemporaine	Révocation de l'Édit de Nantes	50
51			1 598	16 ^e / XVI ^e siècle	Préhistoire Antiquité Moyen Âge Temps Modernes Époque contemporaine	Édit de Nantes, tolérance envers les protestants par Henri IV	51
52			1 539	16 ^e / XVI ^e siècle	Préhistoire Antiquité Moyen Âge Temps Modernes Époque contemporaine	Ordonnance de Villers-Cotterêts	52

niv.1 : Écris la date ou l'intervalle représenté sur la frise.

niv.2 : Écris le siècle, en chiffres arabes/chiffres romains, pour les dates à partir du VIII^e siècle avant JC.

niv.3 : Écris la période conventionnelle concernée.

niv.4 : Si tu le connais, nomme l'évènement (tu peux t'aider de l'image).



	ligne du temps		date(s)	siècle	période conventionnelle	événement	
53			1 515	16 ^e / XVI ^e siècle	Préhistoire Antiquité Moyen Âge Temps Modernes Époque contemporaine	Bataille de Marignan	53
54			800	8 ^e / VIII ^e siècle	Préhistoire Antiquité Moyen Âge Temps Modernes Époque contemporaine	Sacre d'empereur de Charlemagne	54
55			732	8 ^e / VIII ^e siècle	Préhistoire Antiquité Moyen Âge Temps Modernes Époque contemporaine	Victoire bataille de Poitiers de Charles Martel	55
56			496	5 ^e / V ^e siècle	Préhistoire Antiquité Moyen Âge Temps Modernes Époque contemporaine	Baptême Clovis	56

niv.1 : Écris la date ou l'intervalle représenté sur la frise.

niv.2 : Écris le siècle, en chiffres arabes/chiffres romains, pour les dates à partir du VIII^e siècle avant JC.

niv.3 : Écris la période conventionnelle concernée.

niv.4 : Si tu le connais, nomme l'évènement (tu peux t'aider de l'image).



	ligne du temps		date(s)	siècle	période conventionnelle	événement	
57			476	5 ^e / V ^e siècle	Préhistoire Antiquité Moyen Âge Temps Modernes Époque contemporaine	Chute de l'Empire romain d'Occident	57
58			1 492	15 ^e / XV ^e siècle	Préhistoire Antiquité Moyen Âge Temps Modernes Époque contemporaine	Découverte de l'Amérique par Christophe Colomb	58
59			380	4 ^e / IV ^e siècle	Préhistoire Antiquité Moyen Âge Temps Modernes Époque contemporaine	L'Empire romain devient Chrétien	59
60			-753 ou 753 avant JC	8 ^e / VIII ^e siècle avant JC	Préhistoire Antiquité Moyen Âge Temps Modernes Époque contemporaine	Fondation de Rome	60

niv.1 : Écris la date ou l'intervalle représenté sur la frise.

niv.2 : Écris le siècle, en chiffres arabes/chiffres romains, pour les dates à partir du VIII^e siècle avant JC.

niv.3 : Écris la période conventionnelle concernée.

niv.4 : Si tu le connais, nomme l'évènement (tu peux t'aider de l'image).



	ligne du temps		date(s)	siècle	période conventionnelle	événement	
61			-400 000 ou 400 000 avant notre ère	/	Préhistoire Antiquité Moyen Âge Temps Modernes Époque contemporaine	Découverte du feu (Premières traces du feu)	61
62			De 1914 à 1918	20 ^e / XX ^e siècle	Préhistoire Antiquité Moyen Âge Temps Modernes Époque contemporaine	Première Guerre mondiale	62
63			-8 000 ou 8 000 avant JC	/	Préhistoire Antiquité Moyen Âge Temps Modernes Époque contemporaine	Début du Néolithique	63
64			De 1940 à 1945	20 ^e / XX ^e siècle	Préhistoire Antiquité Moyen Âge Temps Modernes Époque contemporaine	Seconde Guerre mondiale	64

niv.1 : Écris la date ou l'intervalle représenté sur la frise.

niv.2 : Écris le siècle, en chiffres arabes/chiffres romains, pour les dates à partir du VIII^e siècle avant JC.

niv.3 : Écris la période conventionnelle concernée.

niv.4 : Si tu le connais, nomme l'évènement (tu peux t'aider de l'image).



	ligne du temps		date(s)	siècle	période conventionnelle	événement	
65			-3 500 ou 3 500 avant JC	/	Préhistoire Antiquité Moyen Âge Temps Modernes Époque contemporaine	Invention de l'écriture	65
66			De 1 792 à 1 804	Du 18 ^e au 19 ^e / du XVIII ^e au XIX ^e siècle	Préhistoire Antiquité Moyen Âge Temps Modernes Époque contemporaine	Première République	66
67			1 450	15 ^e / XV ^e siècle	Préhistoire Antiquité Moyen Âge Temps Modernes Époque contemporaine	Invention de l'imprimerie	67
68			De 1 848 à 1 852	19 ^e / XIX ^e siècle	Préhistoire Antiquité Moyen Âge Temps Modernes Époque contemporaine	Seconde République Française	68

niv.1 : Écris la date ou l'intervalle représenté sur la frise.

niv.2 : Écris le siècle, en chiffres arabes/chiffres romains, pour les dates à partir du VIII^e siècle avant JC.

niv.3 : Écris la période conventionnelle concernée.

niv.4 : Si tu le connais, nomme l'évènement (tu peux t'aider de l'image).



	ligne du temps		date(s)	siècle	période conventionnelle	événement	
69			1 839	19 ^e / XIX ^e siècle	Préhistoire Antiquité Moyen Âge Temps Modernes Époque contemporaine	Indépendance du Grand-duché du Luxembourg	69
70			De 1 870 à 1 940	Du 19 ^e au 20 ^e / du XIX ^e au XX ^e siècle	Préhistoire Antiquité Moyen Âge Temps Modernes Époque contemporaine	Troisième République française	70
71			1 830	19 ^e / XIX ^e siècle	Préhistoire Antiquité Moyen Âge Temps Modernes Époque contemporaine	Indépendance Belge	71
72			De 1 946 à 1 958	20 ^e / XX ^e siècle	Préhistoire Antiquité Moyen Âge Temps Modernes Époque contemporaine	Quatrième République française	72

niv.1 : Écris la date ou l'intervalle représenté sur la frise.

niv.2 : Écris le siècle, en chiffres arabes/chiffres romains, pour les dates à partir du VIII^e siècle avant JC.

niv.3 : Écris la période conventionnelle concernée.

niv.4 : Si tu le connais, nomme l'évènement (tu peux t'aider de l'image).



	ligne du temps		date(s)	siècle	période conventionnelle	événement	
73			1 969	20 ^e / XX ^e siècle	Préhistoire Antiquité Moyen Âge Temps Modernes Époque contemporaine	Première personne sur la Lune (Neil Armstrong)	73
74			De 1 958 à aujourd'hui	20 ^e / XX ^e siècle	Préhistoire Antiquité Moyen Âge Temps Modernes Époque contemporaine	Cinquième République Française	74
75			1	1 ^e / I ^{er}	Préhistoire Antiquité Moyen Âge Temps Modernes Époque contemporaine	Naissance de Jésus	75
76			De 1 804 à 1 815	19 ^e / XIX ^e siècle	Préhistoire Antiquité Moyen Âge Temps Modernes Époque contemporaine	Règne de Napoléon 1 ^{er}	76

niv.1 : Écris la date ou l'intervalle représenté sur la frise.

niv.2 : Écris le siècle, en chiffres arabes/chiffres romains, pour les dates à partir du VIII^e siècle avant JC.

niv.3 : Écris la période conventionnelle concernée.

niv.4 : Si tu le connais, nomme l'évènement (tu peux t'aider de l'image).



	ligne du temps		date(s)	siècle	période conventionnelle	événement	
77			1 453	15 ^e / XV ^e siècle	Préhistoire Antiquité Moyen Âge Temps Modernes Époque contemporaine	Chute de Constantinople	77
78			De 1 643 à 1 715	Du 17 ^e au 18 ^e / XVII ^e au XVIII ^e siècle	Préhistoire Antiquité Moyen Âge Temps Modernes Époque contemporaine	Règne de Louis XIV	78
79			1 000	10 ^e / X ^e siècle	Préhistoire Antiquité Moyen Âge Temps Modernes Époque contemporaine	Premiers châteaux forts	79
80			De 1 594 à 1 610	Du 16 ^e au 17 ^e / du XVI ^e au XVII ^e	Préhistoire Antiquité Moyen Âge Temps Modernes Époque contemporaine	Règne d'Henri IV	80

niv.1 : Écris la date ou l'intervalle représenté sur la frise.

niv.2 : Écris le siècle, en chiffres arabes/chiffres romains, pour les dates à partir du VIII^e siècle avant JC.

niv.3 : Écris la période conventionnelle concernée.

niv.4 : Si tu le connais, nomme l'évènement (tu peux t'aider de l'image).



	ligne du temps		date(s)	siècle	période conventionnelle	événement	
81			-100 000 ou 100 000 avant notre ère	/	Préhistoire Antiquité Moyen Âge Temps Modernes Époque contemporaine	Apparition des premiers homo-Sapiens	81
82			De 768 à 814	Du 8 ^e au 9 ^e / du VIII ^e au IX ^e siècle	Préhistoire Antiquité Moyen Âge Temps Modernes Époque contemporaine	Règne de Charlemagne	82
83			1 903	20 ^e / XX ^e siècle	Préhistoire Antiquité Moyen Âge Temps Modernes Époque contemporaine	Premier vol motorisé	83
84			De 481 à 511	Du 5 ^e au 6 ^e / Du Ve au VI ^e siècle	Préhistoire Antiquité Moyen Âge Temps Modernes Époque contemporaine	Règne de Clovis	84

niv.1 : Écris la date ou l'intervalle représenté sur la frise.

niv.2 : Écris le siècle, en chiffres arabes/chiffres romains, pour les dates à partir du VIII^e siècle avant JC.

niv.3 : Écris la période conventionnelle concernée.

niv.4 : Si tu le connais, nomme l'évènement (tu peux t'aider de l'image).



	ligne du temps		date(s)	siècle	période conventionnelle	événement	
85			1 991	20 ^e / XX ^e siècle	Préhistoire Antiquité Moyen Âge Temps Modernes Époque contemporaine	Fin de l'appartheid en Afrique du Sud	85
86			De -10 000 à -3 000 ou de 10 000 à 3 000 avant JC	/	Préhistoire Antiquité Moyen Âge Temps Modernes Époque contemporaine	Néolithique	86
87			1 519	16 ^e / XVI ^e siècle	Préhistoire Antiquité Moyen Âge Temps Modernes Époque contemporaine	Tour du monde de Magellan	87
88			de 1 452 à 1 519	Du 15 ^e au 16 ^e / Du XV ^e au XVI ^e siècle	Préhistoire Antiquité Moyen Âge Temps Modernes Époque contemporaine	Vie de Léonard de Vinci	88

niv.1 : Écris la date ou l'intervalle représenté sur la frise.

niv.2 : Écris le siècle, en chiffres arabes/chiffres romains, pour les dates à partir du VIII^e siècle avant JC.

niv.3 : Écris la période conventionnelle concernée.

niv.4 : Si tu le connais, nomme l'évènement (tu peux t'aider de l'image).



	ligne du temps		date(s)	siècle	période conventionnelle	événement	
89			622	7 ^e / VII ^e siècle	Préhistoire Antiquité Moyen Âge Temps Modernes Époque contemporaine	Hégire	89
90			de 1 951 à 1 993	20 ^e / XX ^e siècle	Préhistoire Antiquité Moyen Âge Temps Modernes Époque contemporaine	Règne du roi Baudoin	90
91			1 885	19 ^e / XIX ^e siècle	Préhistoire Antiquité Moyen Âge Temps Modernes Époque contemporaine	Découverte du vaccin contre la rage	91
92			de -51 à -30 ou de 51 à 30 avant JC	1 ^{er} / I ^{er} siècle avant JC	Préhistoire Antiquité Moyen Âge Temps Modernes Époque contemporaine	Règne de Cléopâtre	92

niv.1 : Écris la date ou l'intervalle représenté sur la frise.

niv.2 : Écris le siècle, en chiffres arabes/chiffres romains, pour les dates à partir du VIII^e siècle avant JC.

niv.3 : Écris la période conventionnelle concernée.

niv.4 : Si tu le connais, nomme l'évènement (tu peux t'aider de l'image).



	ligne du temps		date(s)	siècle	période conventionnelle	événement	
93			1 945	20 ^e / XX ^e siècle	Préhistoire Antiquité Moyen Âge Temps Modernes Époque contemporaine	Création de l'ONU	93
94			De 1 802 à 1 885	Du 19 ^e au 20 ^e / Du XIX ^e au XX ^e siècle	Préhistoire Antiquité Moyen Âge Temps Modernes Époque contemporaine	Vie de Victor Hugo	94
95			1 994	20 ^e / XX ^e siècle	Préhistoire Antiquité Moyen Âge Temps Modernes Époque contemporaine	Mandela président	95
96			De 1 475 à 1 564	Du 15 ^e au 16 ^e / Du XV ^e au XVI ^e siècle	Préhistoire Antiquité Moyen Âge Temps Modernes Époque contemporaine	Vie de Michel Ange	96

niv.1 : Écris la date ou l'intervalle représenté sur la frise.

niv.2 : Écris le siècle, en chiffres arabes/chiffres romains, pour les dates à partir du VIII^e siècle avant JC.

niv.3 : Écris la période conventionnelle concernée.

niv.4 : Si tu le connais, nomme l'évènement (tu peux t'aider de l'image).



	ligne du temps		date(s)	siècle	période conventionnelle	événement	
97			2 002	21 ^e / XXI ^e siècle	Préhistoire Antiquité Moyen Âge Temps Modernes Époque contemporaine	L'euro devient la monnaie européenne	97
98			De 1 978 à 2 010	Du 20 ^e au 21 ^e / du XX ^e au XXI ^e siècle	Préhistoire Antiquité Moyen Âge Temps Modernes Époque contemporaine	Pontificat du Pape Jean Paul II	98
99			312	4 ^e / IV ^e siècle	Préhistoire Antiquité Moyen Âge Temps Modernes Époque contemporaine	Empereur Constantin se convertit au christianisme	99
100			de 570 à 632	Du 6 ^e au 7 ^e / du VI ^e au VII ^e siècle	Préhistoire Antiquité Moyen Âge Temps Modernes Époque contemporaine	Vie du prophète Mohamed	100

niv.1 : Écris la date ou l'intervalle représenté sur la frise.

niv.2 : Écris le siècle, en chiffres arabes/chiffres romains, pour les dates à partir du VIII^e siècle avant JC.

niv.3 : Écris la période conventionnelle concernée.

niv.4 : Si tu le connais, nomme l'évènement (tu peux t'aider de l'image).



	ligne du temps		date(s)	siècle	période conventionnelle	événement	
101			-100 ou 100 avant JC	2 ^e / II ^e siècle avant JC	Préhistoire Antiquité Moyen Âge Temps Modernes Époque contemporaine	Naissance de Jules César	101
102			De 1 095 à 1 291	Du 11 ^e au 12 ^e / du XI ^e au XIII ^e siècle	Préhistoire Antiquité Moyen Âge Temps Modernes Époque contemporaine	Les 8 croisades	102
103			1 815	19 ^e / XIX ^e siècle	Préhistoire Antiquité Moyen Âge Temps Modernes Époque contemporaine	Napoléon perd à Waterloo	103
104			de 1 337 à 1 453	Du 14 ^e au 15 ^e /du XIV ^e au XVI ^e siècle	Préhistoire Antiquité Moyen Âge Temps Modernes Époque contemporaine	Guerre de Cent Ans	104

niv.1 : Écris la date ou l'intervalle représenté sur la frise.

niv.2 : Écris le siècle, en chiffres arabes/chiffres romains, pour les dates à partir du VIII^e siècle avant JC.

niv.3 : Écris la période conventionnelle concernée.

niv.4 : Si tu le connais, nomme l'évènement (tu peux t'aider de l'image).



	ligne du temps		date(s)	siècle	période conventionnelle	événement	
105			1 917	20 ^e / XX ^e siècle	Préhistoire Antiquité Moyen Âge Temps Modernes Époque contemporaine	Révolution d'octobre (Révolution Russe par Lénine)	105
106			De 1 958 à 2 009	Du 20 ^e au 21 ^e / du XX ^e au XXI ^e siècle	Préhistoire Antiquité Moyen Âge Temps Modernes Époque contemporaine	Vie de Michael Jackson	106
107			2 011	21 ^e / XXI ^e siècle	Préhistoire Antiquité Moyen Âge Temps Modernes Époque contemporaine	Attentats suicides du World Trade Center	107
108			De 1 643 à 1 727	Du 17 ^e au 18 ^e / du XVII ^e au XVIII ^e siècle	Préhistoire Antiquité Moyen Âge Temps Modernes Époque contemporaine	Vie de Newton, (théorie de la gravitation universelle)	108

niv.1 : Écris la date ou l'intervalle représenté sur la frise.

niv.2 : Écris le siècle, en chiffres arabes/chiffres romains, pour les dates à partir du VIII^e siècle avant JC.

niv.3 : Écris la période conventionnelle concernée.

niv.4 : Si tu le connais, nomme l'évènement (tu peux t'aider de l'image).



	ligne du temps		date(s)	siècle	période conventionnelle	événement	
109			1 963	20 ^e / XX ^e siècle	Préhistoire Antiquité Moyen Âge Temps Modernes Époque contemporaine	Assassinat de JFK	109
110			De 1 254 à 1 324	Du 13 ^e au 14 ^e / du XIII ^e au XIV ^e siècle	Préhistoire Antiquité Moyen Âge Temps Modernes Époque contemporaine	Vie de Marco Polo	110
111			1 964	20 ^e / XX ^e siècle	Préhistoire Antiquité Moyen Âge Temps Modernes Époque contemporaine	Prix Nobel de la paix Martin Luther King	111
112			De -58 à -51 ou de 58 à 51 avant JC	1 ^{er} / I ^{er} siècle avant JC	Préhistoire Antiquité Moyen Âge Temps Modernes Époque contemporaine	Guerre des Gaules	112

niv.1 : Écris la date ou l'intervalle représenté sur la frise.

niv.2 : Écris le siècle, en chiffres arabes/chiffres romains, pour les dates à partir du VIII^e siècle avant JC.

niv.3 : Écris la période conventionnelle concernée.

niv.4 : Si tu le connais, nomme l'évènement (tu peux t'aider de l'image).



	ligne du temps		date(s)	siècle	période conventionnelle	événement	
113			1 989	20 ^e / XX ^e siècle	Préhistoire Antiquité Moyen Âge Temps Modernes Époque contemporaine	Chute du mur de Berlin	113
114			De -356 à -323 ou de 356 à 323 avant JC	4 ^e / IV ^e siècle avant JC	Préhistoire Antiquité Moyen Âge Temps Modernes Époque contemporaine	Vie d'Alexandre le Grand	114
115			1 949	20 ^e / XX ^e siècle	Préhistoire Antiquité Moyen Âge Temps Modernes Époque contemporaine	Naissance de la République populaire de Chine par Mao Zedong	115
116			De 1 769 à 1 821	Du 18 ^e au 19 ^e / du XVIII ^e au XIX ^e siècle	Préhistoire Antiquité Moyen Âge Temps Modernes Époque contemporaine	Vie de Napoléon Bonaparte	116

niv.1 : Écris la date ou l'intervalle représenté sur la frise.

niv.2 : Écris le siècle, en chiffres arabes/chiffres romains, pour les dates à partir du VIII^e siècle avant JC.

niv.3 : Écris la période conventionnelle concernée.

niv.4 : Si tu le connais, nomme l'évènement (tu peux t'aider de l'image).



	ligne du temps		date(s)	siècle	période conventionnelle	événement	
117			1 945	20 ^e / XX ^e siècle	Préhistoire Antiquité Moyen Âge Temps Modernes Époque contemporaine	Bombe atomique sur Hiroshima	117
118			De 1 918 à 2 013	Du 20 ^e au 21 ^e / du XX ^e au XXI ^e siècle	Préhistoire Antiquité Moyen Âge Temps Modernes Époque contemporaine	Vie De Nelson Mandela	118
119			-18 000 ou 18 000 avant JC	/	Préhistoire Antiquité Moyen Âge Temps Modernes Époque contemporaine	Peintures grottes de Lascaux	119
120			De 1 922 à 1 991	20 ^e / XX ^e siècle	Préhistoire Antiquité Moyen Âge Temps Modernes Époque contemporaine	L'Union des républiques socialistes soviétiques	120

niv.1 : Écris la date ou l'intervalle représenté sur la frise.

niv.2 : Écris le siècle, en chiffres arabes/chiffres romains, pour les dates à partir du VIII^e siècle avant JC.

niv.3 : Écris la période conventionnelle concernée.

niv.4 : Si tu le connais, nomme l'évènement (tu peux t'aider de l'image).



	ligne du temps		date(s)	siècle	période conventionnelle	événement	
121			1 572	16 ^e / XVI ^e siècle	Préhistoire Antiquité Moyen Âge Temps Modernes Époque contemporaine	Massacre de la Saint- Barthélemy	121
122			De 1 947 à 1 991	20 ^e / XX ^e siècle	Préhistoire Antiquité Moyen Âge Temps Modernes Époque contemporaine	Guerre froide	122
123			1 962	20 ^e / XX ^e siècle	Préhistoire Antiquité Moyen Âge Temps Modernes Époque contemporaine	Indépendance Algérie	123
124			De 1 631 à 1 634	17 ^e / XVII ^e siècle	Préhistoire Antiquité Moyen Âge Temps Modernes Époque contemporaine	Construction château de Versailles	124

niv.1 : Écris la date ou l'intervalle représenté sur la frise.

niv.2 : Écris le siècle, en chiffres arabes/chiffres romains, pour les dates à partir du VIII^e siècle avant JC.

niv.3 : Écris la période conventionnelle concernée.

niv.4 : Si tu le connais, nomme l'évènement (tu peux t'aider de l'image).



	ligne du temps		date(s)	siècle	période conventionnelle	événement	
125			1 895	19 ^e / XIX ^e siècle	Préhistoire Antiquité Moyen Âge Temps Modernes Époque contemporaine	Invention du cinéma par les frères Lumières	125
126			De 1 589 – 1789	Du 16 ^e au 18 ^e / du XVI ^e au XVIII ^e siècle	Préhistoire Antiquité Moyen Âge Temps Modernes Époque contemporaine	Dynastie des Bourbons avant la Révolution Française	126
127			1 948	20 ^e / XX ^e siècle	Préhistoire Antiquité Moyen Âge Temps Modernes Époque contemporaine	Assassinat de Gandhi qui voulait l'indépendance de l'Inde	127
128			De 1 815 à 1 848	19 ^e / XIX ^e siècle	Préhistoire Antiquité Moyen Âge Temps Modernes Époque contemporaine	Dynastie des Bourbons après la Révolution française (Louis XVIII)	128

niv.1 : Écris la date ou l'intervalle représenté sur la frise.

niv.2 : Écris le siècle, en chiffres arabes/chiffres romains, pour les dates à partir du VIII^e siècle avant JC.

niv.3 : Écris la période conventionnelle concernée.

niv.4 : Si tu le connais, nomme l'évènement (tu peux t'aider de l'image).



	ligne du temps		date(s)	siècle	période conventionnelle	événement	
129			1 928	20 ^e / XX ^e siècle	Préhistoire Antiquité Moyen Âge Temps Modernes Époque contemporaine	Découverte de la pénicilline par Alexander Fleming	129
130			De 1 494 à 1 547	Du 15 ^e au 16 ^e / du XV ^e au XVI ^e siècle	Préhistoire Antiquité Moyen Âge Temps Modernes Époque contemporaine	Vie de François 1 ^{er}	130
131			1 958	20 ^e / XX ^e siècle	Préhistoire Antiquité Moyen Âge Temps Modernes Époque contemporaine	Édification de l'Atomium pour l'exposition universelle	131
132			De 1 622 à 1 673	17 ^e / XVII ^e siècle	Préhistoire Antiquité Moyen Âge Temps Modernes Époque contemporaine	Vie de Molière	132

niv.1 : Écris la date ou l'intervalle représenté sur la frise.

niv.2 : Écris le siècle, en chiffres arabes/chiffres romains, pour les dates à partir du VIII^e siècle avant JC.

niv.3 : Écris la période conventionnelle concernée.

niv.4 : Si tu le connais, nomme l'évènement (tu peux t'aider de l'image).



	ligne du temps		date(s)	siècle	période conventionnelle	événement	
133			1 776	18 ^e / XVIII ^e siècle	Préhistoire Antiquité Moyen Âge Temps Modernes Époque contemporaine	Indépendance des USA	133
134			De 1 503 à 1 506	16 ^e / XVI ^e siècle	Préhistoire Antiquité Moyen Âge Temps Modernes Époque contemporaine	Peinture de la Joconde	134
135			1 927	20 ^e / XX ^e siècle	Préhistoire Antiquité Moyen Âge Temps Modernes Époque contemporaine	Traversée de l'Atlantique en avion par Charles Lindbergh	135
136			De 1 412 à 1431	15 ^e / XV ^e siècle	Préhistoire Antiquité Moyen Âge Temps Modernes Époque contemporaine	Vie de Jeanne d'Arc	136

niv.1 : Écris la date ou l'intervalle représenté sur la frise.

niv.2 : Écris le siècle, en chiffres arabes/chiffres romains, pour les dates à partir du VIII^e siècle avant JC.

niv.3 : Écris la période conventionnelle concernée.

niv.4 : Si tu le connais, nomme l'évènement (tu peux t'aider de l'image).



	ligne du temps		date(s)	siècle	période conventionnelle	événement	
137			1 937	20 ^e / XX ^e siècle	Préhistoire Antiquité Moyen Âge Temps Modernes Époque contemporaine	Peinture Guernica de Pablo Picasso	137
138			1 903	20 ^e / XX ^e siècle	Préhistoire Antiquité Moyen Âge Temps Modernes Époque contemporaine	Prix Nobel paix de Marie Curie	138
139			1 789	18 ^e / XVIII ^e siècle	Préhistoire Antiquité Moyen Âge Temps Modernes Époque contemporaine	George Washington devient président des Etats-Unis	139
140			De 1 890 à 1970	Du 19 ^e au 20 ^e / du XIX ^e au XX ^e siècle	Préhistoire Antiquité Moyen Âge Temps Modernes Époque contemporaine	Vie de Charles De Gaulle	140

niv.1 : Écris la date ou l'intervalle représenté sur la frise.

niv.2 : Écris le siècle, en chiffres arabes/chiffres romains, pour les dates à partir du VIII^e siècle avant JC.

niv.3 : Écris la période conventionnelle concernée.

niv.4 : Si tu le connais, nomme l'évènement (tu peux t'aider de l'image).



	ligne du temps		date(s)	siècle	période conventionnelle	événement	
141			De 1 869 à 1 948	Du 19 ^e au 20 ^e / du XIX ^e au XX ^e siècle	Préhistoire Antiquité Moyen Âge Temps Modernes Époque contemporaine	Vie de Gandhi	141
142			De 1 808 à 1 873	19 ^e / XIX ^e siècle	Préhistoire Antiquité Moyen Âge Temps Modernes Époque contemporaine	Vie de Napoléon III	142
143			De 1 163 à 1 345	Du 12 ^e au 14 ^e / du XII ^e au XIV ^e siècle	Préhistoire Antiquité Moyen Âge Temps Modernes Époque contemporaine	Construction de Notre Dame de Paris	143
144			De 1 881 à 1 973	Du 19 ^e au 20 ^e / du XIX ^e au XX ^e siècle	Préhistoire Antiquité Moyen Âge Temps Modernes Époque contemporaine	Vie de Picasso	144

niv.1 : Écris la date ou l'intervalle représenté sur la frise.

niv.2 : Écris le siècle, en chiffres arabes/chiffres romains, pour les dates à partir du VIII^e siècle avant JC.

niv.3 : Écris la période conventionnelle concernée.

niv.4 : Si tu le connais, nomme l'évènement (tu peux t'aider de l'image).



	ligne du temps		date(s)	siècle	période conventionnelle	événement	
145			De 1 621 à 1 695	17 ^e / XVII ^e siècle	Préhistoire Antiquité Moyen Âge Temps Modernes Époque contemporaine	Vie de La Fontaine	145
146			De 1 756 à 1 791	18 ^e / XVIII ^e siècle	Préhistoire Antiquité Moyen Âge Temps Modernes Époque contemporaine	Vie de Mozart	146

niv.1 : Indique la période conventionnelle dans laquelle a lieu cet événement.

niv.2 : Précise le siècle dans lequel il a lieu (chiffres romains/arabes).

niv.3 : Précise la date exacte.

module III



	image	événement	période conventionnelle	siècle	date	
1		Première Guerre mondiale	Époque contemporaine	20 ^e /XX ^e siècle	1 914-1 918	1
2		Premier homme sur la lune	Époque contemporaine	20 ^e /XX ^e siècle	1 969	2
3		Maîtrise du feu	Préhistoire	/	- 450 000 ans ou 450 000 ans avant JC	3
4		Traité de Rome	Époque contemporaine	20 ^e /XX ^e siècle	1 957	4





niv.1 : Indique la période conventionnelle dans laquelle a lieu cet événement.

niv.2 : Précise le siècle dans lequel il a lieu (chiffres romains/arabes).

niv.3 : Précise la date exacte.

module III



	image	événement	période conventionnelle	siècle	date	
5		Révolution française	Époque contemporaine	18 ^e / XVIII ^e siècle	1 789	5
6		Seconde Guerre mondiale	Époque contemporaine	20 ^e / XX ^e siècle	De 1 940 à 1 945	6
7		Premières peintures rupestres	Préhistoire	/	-40 000 ou 40 000 avant JC	7
8		Apparition du genre Homo	Préhistoire	/	- 2,4 millions d'années ou 2,4 millions d'années avant notre ère	8





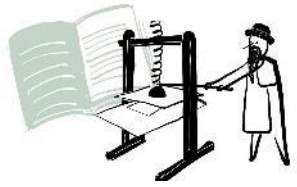
niv.1 : Indique la période conventionnelle dans laquelle a lieu cet événement.

niv.2 : Précise le siècle dans lequel il a lieu (chiffres romains/arabes).

niv.3 : Précise la date exacte.

module III



	image	événement	période conventionnelle	siècle	date	
9		Premiers jeux olympiques	Antiquité	8 ^e / VIII ^e siècle avant JC	-776 ou 776 avant JC	9
10		Fondation de Rome	Antiquité	8 ^e / VIII ^e siècle avant JC	-753 ou 753 avant JC	10
11		Big Bang	La préhistoire commence avec l'apparition de l'homme	/	13,8 milliards d'années avant notre ère	11
12		Indépendance de la Belgique	Époque contemporaine	8 ^e / VIII ^e siècle	1 830	12
13		Invention de l'imprimerie (caractère mobiles)	Moyen Âge	15 ^e / XV ^e siècle	1 450	13





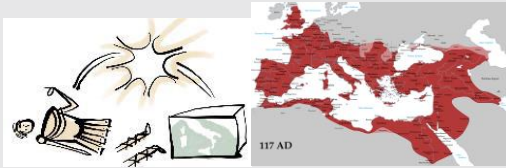
niv.1 : Indique la période conventionnelle dans laquelle a lieu cet événement.

niv.2 : Précise le siècle dans lequel il a lieu (chiffres romains/arabes).

niv.3 : Précise la date exacte.

module III



	image	événement	période conventionnelle	siècle	date	
14		Charlemagne Empereur	Moyen Âge	8 ^e / VIII ^e siècle	800	14
15		Invasion des Romains en Gaule	Antiquité	Du 2 ^e au 1 ^{er} / du II ^e au I ^{er} siècle avant JC	De -125 à -51 ou de 125 à 51 avant JC	15
16		Tour du monde	Temps Modernes	16 ^e / XVI ^e siècle	De 1 519 à 1 521	16
17		Sédentarisation	Préhistoire	/	-10 000	17
18		Chute de l'Empire romain d'Occident	Antiquité	5 ^e / V ^e siècle	476	18






niv.1 : Indique la période conventionnelle dans laquelle a lieu cet évènement.

niv.2 : Précise le siècle dans lequel il a lieu (chiffres romains/arabes).

niv.3 : Précise la date exacte.

module III






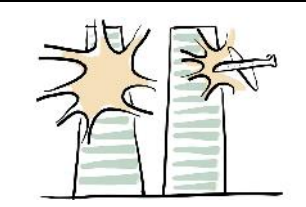

	image	évènement	période conventionnelle	siècle	date	
19		Diffusion des châteaux forts en pierres	Moyen Âge	Du 9 ^e au 11 ^e / du IX ^e au XI ^e siècle	Pas de dates précises	19
20		Découverte de l'Amérique	Début Temps Modernes	15 ^e / XV ^e siècle	1 492	20
21		Révolution industrielle	Époque contemporaine	19 ^e / XIX ^e siècle	À partir de 1 830	21
22		L'essor des villes	Moyen Âge	11 ^e / XI ^e siècle	Pas de dates précises	22
23		Invention de l'écriture	Début de l'Antiquité	/	- 3 500	23

niv.1 : Indique la période conventionnelle dans laquelle a lieu cet évènement.

niv.2 : Précise le siècle dans lequel il a lieu (chiffres romains/arabes).

niv.3 : Précise la date exacte.



	image	évènement	période conventionnelle	siècle	date	
24		Extinction des dinosaures	La préhistoire commence avec l'apparition de l'homme	/	Il y a 65 millions d'années	24
25		Monarchie absolue en France	Temps Modernes	Du 17 ^e au 18 ^e / XVII ^e et XVIII ^e siècle	Pas de dates précises	25
26		Hégire	Moyen âge	7 ^e / VII ^e siècle	622	26
27		Attentats du 11 septembre	Époque contemporaine	21 ^e / XXI ^e siècle	2 001	27
28		Exode rural	Époque contemporaine	à partir du 19 ^e / XIX ^e siècle	à partir de 1 830	28






niv.1 : Indique la période conventionnelle dans laquelle a lieu cet événement.

niv.2 : Précise le siècle dans lequel il a lieu (chiffres romains/arabes).

niv.3 : Précise la date exacte.

module III



	image	événement	période conventionnelle	siècle	date	
29		Début du système féodal	Moyen Age	10 ^e / X ^e siècle	Pas de dates précises	29
30		Construction des pyramides en Égypte	Antiquité	/	De -2 700 à -2 200	30
31		Premier réseau GSM	Époque contemporaine	20 ^e /XX ^e siècle	1 994 (Belgique) 1992 (France)	31
32		Naissance de Jésus-Christ	Antiquité	1 ^{er} / 1 ^{er}	1	32
33		Chute du mur de Berlin	Époque contemporaine	20 ^e /XX ^e siècle	1 989	33


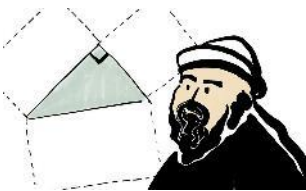



niv.1 : Indique la période conventionnelle dans laquelle a lieu cet événement.

niv.2 : Précise le siècle dans lequel il a lieu (chiffres romains/arabes).

niv.3 : Précise la date exacte.

module III



	image	événement	période conventionnelle	siècle	date	
34		Apparition de l'Homo Sapiens	Préhistoire	/	Il y a environ 300 000 ans	34
35		Pythagore et son théorème	Antiquité	6 ^e / VI ^e siècle avant JC	-580	35
36		Internet	Époque contemporaine	20 ^e / XX ^e siècle	1 990	36
37		Instruction primaire obligatoire	Époque contemporaine	19 ^e / XIX ^e siècle	1 881-1 882 en France 1924 en Belgique	37
38		Chute de l'Empire romain d'Orient	Moyen Âge	15 ^e / XV ^e siècle	1453	38






niv.1 : Indique la période conventionnelle dans laquelle a lieu cet événement.

niv.2 : Précise le siècle dans lequel il a lieu (chiffres romains/arabes).

niv.3 : Précise la date exacte.

module III



	image	événement	période conventionnelle	siècle	date	
39		Abolition de l'esclavage aux USA	Époque contemporaine	19 ^e / XIX ^e siècle	1865	39
40		Invasions des Vikings	Moyen Âge	Du 8 ^e au 11 ^e / du VIII ^e au XI ^e siècle	De 753 à 1 006	40
41		Première ligne de chemin de fer belge	Époque contemporaine	19 ^e / XIX ^e siècle	1 835	41
42		La peste noire	Moyen Âge	14 ^e / XIV ^e siècle	Pas de date précise	42
43		La Révolution Russe	Époque contemporaine	20 ^e / XX ^e siècle	1 917	43






niv.1 : Indique la période conventionnelle dans laquelle a lieu cet événement.

niv.2 : Précise le siècle dans lequel il a lieu (chiffres romains/arabes).

niv.3 : Précise la date exacte.

module III



	image	événement	période conventionnelle	siècle	date	
44		Premier vol d'avion à moteur	Époque contemporaine	20e/ XXe	1 903	44
45		Cléopâtre Reine d'Egypte	Antiquité	1 ^{er} / I ^{er} siècle avant JC	De -51 à -30	45
46		L'invasion des Celtes	Antiquité	10 ^e / X ^e siècle avant JC	-1 000	46
47		Philosophes grecs	Antiquité	Du 5 ^e au 4 ^e / du V ^e au IV ^e siècle avant JC	-450 à -350	47
48		Bombe atomique	Époque Contemporaine	20 ^e /XX ^e siècle	1 945	48





niv.1 : Indique la période conventionnelle dans laquelle a lieu cet événement.

niv.2 : Précise le siècle dans lequel il a lieu (chiffres romains/arabes).

niv.3 : Précise la date exacte.

module III



	image	événement	période conventionnelle	siècle	date	
49		Renaissance européenne	Temps Modernes	16 ^e / XVI ^e siècle	De 1 330 à 1 630	49
50		Moïse	Antiquité	13 ^e / -XIII ^e siècle	-1 300	50
51		Electricité	Époque contemporaine	19 ^e / XIX ^e siècle	De 1 871 à 1 879	51
52		Conférence de Yalta	Époque contemporaine	20 ^e / XX ^e siècle	1 945	52