



version
TEST
sans solution



1. Prends ton niveau



2. Plie sur le trait pour cacher les solutions.



3. Ecris les réponses dans un cahier à côté, rien sur la feuille!




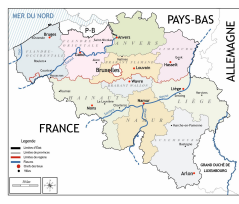
4. A la fin du temps accordé, compare tes réponses aux solutions.

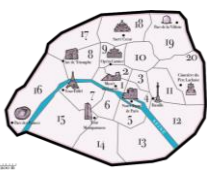



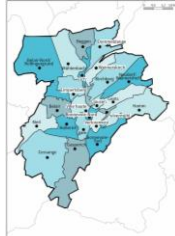

5. Corrige tes erreurs et analyse-les.





6. Prêt pour le niveau suivant ?
Demande à passer un test.

bloc	module I	page
A	 <p>Bruxelles</p>	niv.1 p.4 niv.2 p.6 niv.3 p.8
B	 <p>Belgique</p>	niv.1 p.11 niv.2 p.13 niv.3 p.15

bloc	module III	page
A	 <p>Paris</p>	niv.1 p.32 niv.2 p.34 niv.3 p.36
B	 <p>France</p>	niv.1 p.39 niv.2 p.41 niv.3 p.43

bloc	module II	page
A	 <p>Luxembourg-Ville</p>	niv.1 p.18 niv.2 p.20 niv.3 p.22
B	 <p>Grand-Duché de Luxembourg</p>	niv.1 p.25 niv.2 p.27 niv.3 p.29

bloc	module IV	page
A	 <p>Europe</p>	niv.1 p.46 niv.2 p.48 niv.3 p.50
B	 <p>Monde</p>	niv.1 p.53 niv.2 p.55 niv.3 p.57

Pour chaque bloc :

niv.1 : 4 directions cardinales

Uccle se situe à/au ☞ de Jette

niv.2 : 8 directions cardinales

La ville de Echternach se situe à/au ☞ de Wiltz.

niv.3 : 8 directions cardinales +
distance / échelle

En suivant le Tropique du Capricorne, quelle est la distance entre Madagascar et l'Australie ?



Carte des communes de Bruxelles-Capitale.



module I, bloc A

niv.1 : Réponds à la question sur les 4 directions cardinales



Questions

1	Quelle est la commune la plus au sud de Bruxelles ?	1
2	Saint-Gilles se situe à/au ☞ d'Uccle.	2
3	Anderlecht se situe à/au ☞ de Woluwe-Saint-Pierre.	3
4	Auderghem se situe à/au ☞ de Woluwe-Saint-Lambert.	4
5	Molenbeek-Saint-Jean se situe à/au ☞ de Schaerbeek.	5
6	Saint-Josse-Ten-Noode se situe à/au ☞ d'Ixelles.	6
7	Auderghem se situe à/au ☞ d'Anderlecht.	7
8	Ganshoren et Jette se situent à/au ☞ de Forest.	8
9	Quelle commune est coupée en 2 par la commune de Bruxelles ?	9
10	Quelle commune se trouve à l'ouest de Forest ?	10
11	Quelle est la commune qui se situe à l'est de Schaerbeek ?	11
12	Quelle est la commune la plus proche au nord d'Uccle sans toucher son territoire ?	12
13	Berchem-Sainte-Agathe se trouve à/au ☞ d'Anderlecht.	13
14	Watermael-Boitsfort est à/au ☞ d'Auderghem.	14
15	Quelle commune se situe à l'est de Jette ?	15
16	Etterbeek est à/au ☞ de Woluwe-Saint-Pierre.	16
17	Koekelberg est au nord de quelle commune ?	17
18	Uccle est à/au ☞ d'Ixelles.	18
19	Woluwe-Saint-Lambert est à/au ☞ d'Anderlecht.	19
20	Quelle commune limitrophe de Schaerbeek est la plus au sud ?	20
21	Quelle commune est la plus à l'ouest de Bruxelles-Capitale ?	21
22	Ganshoren se situe à/au ☞ de Bruxelles.	22



module I, bloc A

niv.1 : Réponds à la question sur les 4 directions cardinales



Questions

23	Quelle commune est au sud d'Ixelles ?	23
24	Molenbeek-Saint-Jean se situe à/au ☞ de Saint-Josse-Ten-Noode.	24
25	Uccle se situe à/au ☞ de Jette.	25
26	Evere est au nord de quelle commune ?	26
27	Quelle commune est la plus au nord ?	27
28	Quelle commune se situe au sud de Koekelberg ?	28
29	Bruxelles est à/au ☞ de Berchem-Sainte-Agathe.	29
30	Forest est à/au ☞ de Auderghem.	30
31	Quelles sont les 2 commune les plus proches au nord d'Anderlecht sans toucher son territoire ?	31
32	Parmi les communes limitrophes d'Ixelles, quelle est celle qui touche sa frontière le plus au sud ?	32
33	Quelle est la commune le plus au nord de la région de Bruxelles-Capitale ?	33
34	Quelle commune au sud de Jette commence par un "F" ?	34
35	Quelle est la commune la plus proche au nord d'Uccle sans toucher son territoire ?	35
36	Quelle est la commune le plus à l'ouest de la région de Bruxelles-Capitale ?	36
37	Quelle commune à l'ouest de Saint-Josse-ten-Noode commence par un "M" ?	37
38	Parmi les communes limitrophes de Saint-Gilles, quelles sont celles qui touchent sa frontière le plus au sud ?	38



module I, bloc A

niv.2 : Réponds à la question sur les 8 directions cardinales



Questions

1	Ixelles se trouve à 5 km au nord-est de quelle commune ?	1
2	Je vais à 2 km au nord-ouest de Saint-Gilles, dans quelle commune vais-je arriver ?	2
3	Tu es à Saint-Gilles, tu te déplaces de 3 km vers le sud-ouest, dans quelle commune es-tu ?	3
4	Je suis à Watermael-Boitsfort et je fais environ 6 km vers l'ouest. Dans quelle commune vais-je arriver ?	4
5	Je suis à Watermael-Boitsfort et je marche environ 3 km vers le nord. Où suis-je ?	5
6	Je vais à 6 km vers l'est en partant de Forest. Dans quelle commune vais-je arriver ?	6
7	Un oiseau vole 3 km vers le nord en démarrant d'Etterbeek. Où arrive-t-il ?	7
8	Je suis située à 3 km au nord-est de Berchem-St-Agathe. Je suis la commune de ?	8
9	Je démarre de Jette et je vais à 2 km vers l'est. Dans quelle commune vais-je arriver ?	9
10	Je suis à Uccle, je fais 7 km vers le nord-ouest. Dans quelle commune vais-je arriver ?	10
11	Je vais à 3 km vers le sud de Koekelberg, dans quelle commune vais-je arriver ?	11
12	Je suis à Evere, je marche 3 km vers le sud. Dans quelle commune vais-je arriver ?	12
13	Quelle commune est située à 3 km au nord-est de St-Josse ?	13
14	Combien de kilomètres séparent Woluwe-Saint-Lambert d'Etterbeek qui se trouve au sud-ouest ?	14
15	Ixelles se trouve à/au ? de Saint-Gilles.	15
16	J'ai oublié le nom de la commune qui se trouve à moins de 6 km au sud de Molenbeek-Saint-Jean. De quelle commune s'agit-il ?	16
17	Anderlecht se trouve à 3 km de Koekelberg. Dans quelle direction ?	17



module I, bloc A

niv.2 : Réponds à la question sur les 8 directions cardinales



Questions

18	Combien de km séparent Bruxelles-ville de Schaerbeek ?	18
19	Je suis à la frontière nord d'Ixelles et je marche vers le nord sur 3 km. Dans quelle commune vais-je arriver ?	19
20	Quelle est la distance entre Bruxelles-ville et Koekelberg ?	20
21	Quelle commune est située à 6 km au sud-est de Forest ?	21
22	Je pars de la pointe nord de Woluwe-Saint-Pierre et je marche 10 km droit vers l'ouest. Dans quelle commune vais-je arriver ?	22
23	Quelle est la distance entre le point le plus au nord et celui le plus au sud de la commune de Bruxelles-ville ?	23
24	Ganshoren est à/au ☞ Schaerbeek.	24
25	Quelle commune est située à 3 km au sud d'Evere ?	25
26	Je vais à 9 km au sud de St-Josse-Ten-Nood, dans quelle commune suis-je ?	26
27	Quelle distance sépare le point le plus au sud du point le plus au nord de Bruxelles-Capitale ?	27
28	Quelle est la distance entre les extrémités à l'ouest et à l'est de la commune d'Anderlecht ?	28
29	Je suis à Ixelles et je balade mon chien sur 6 km vers l'ouest. Dans quelle commune arrivons-nous ?	29
30	Evere se trouve à 9 km au ☞ de Forest.	30
31	Quelle commune se trouve à 4 km au nord de Auderghem ?	31
32	Je suis à Uccle, je marche 6 km vers l'est. J'arrive dans la commune de ☞.	32
33	Un oiseau vole de Etterbeek à Molenbeek-Saint-Jean, quelle distance parcourt-il ?	33
34	Jette se trouve à 12 km au nord de ☞.	34
35	Quelle est la distance minimale entre Evere et Schaerbeek ?	35



module I, bloc A

niv.3 : Réponds à la question sur les 8 directions cardinales et les directions/échelles.



Questions

1	Molenbeek-Saint-Jean est à/au ☞ d'Etterbeek.	1
2	Saint-Gilles est à/au ☞ de Watermael-Boitsfort.	2
3	Par rapport à Anderlecht, où se situe Evere ?	3
4	Uccle est à/au ☞ de Woluwe-Saint-Pierre.	4
5	Jette est à/au ☞ d'Etterbeek.	5
6	Forest est à/au ☞ d'Anderlecht.	6
7	Saint-Josse-ten-Noode est à/au ☞ de Saint-Gilles.	7
8	Quelle est la commune au sud la plus proche de Woluwe-Saint-Pierre ?	8
9	Par rapport à Forest, où se situe Berchem-Sainte-Agathe ?	9
10	Evere est à/au ☞ de Schaerbeek.	10
11	Je suis à Ganshoren et je vais vers le nord-est, j'arrive dans quelle commune ?	11
12	Berchem-Sainte-Agathe est à/au ☞ de Molenbeek-Saint-Jean.	12
13	Depuis Jette, je décide d'aller vers l'est, dans quelle commune vais-je arriver ?	13
14	Schaerbeek est au nord de quelle commune ?	14
15	Forest est à/au ☞ d'Evere.	15
16	Quelle commune de la région de Bruxelles-Capitale est la plus à l'ouest ?	16
17	Si je veux aller à Uccle depuis Anderlecht, quelle direction dois-je prendre ?	17
18	Uccle se trouve à/au ☞ de Bruxelles.	18
19	Quelle direction prend-on pour aller de Ixelles à Watermael-Boitsfort ?	19
20	Uccle est à/au ☞ de Woluwe-Saint-Lambert.	20



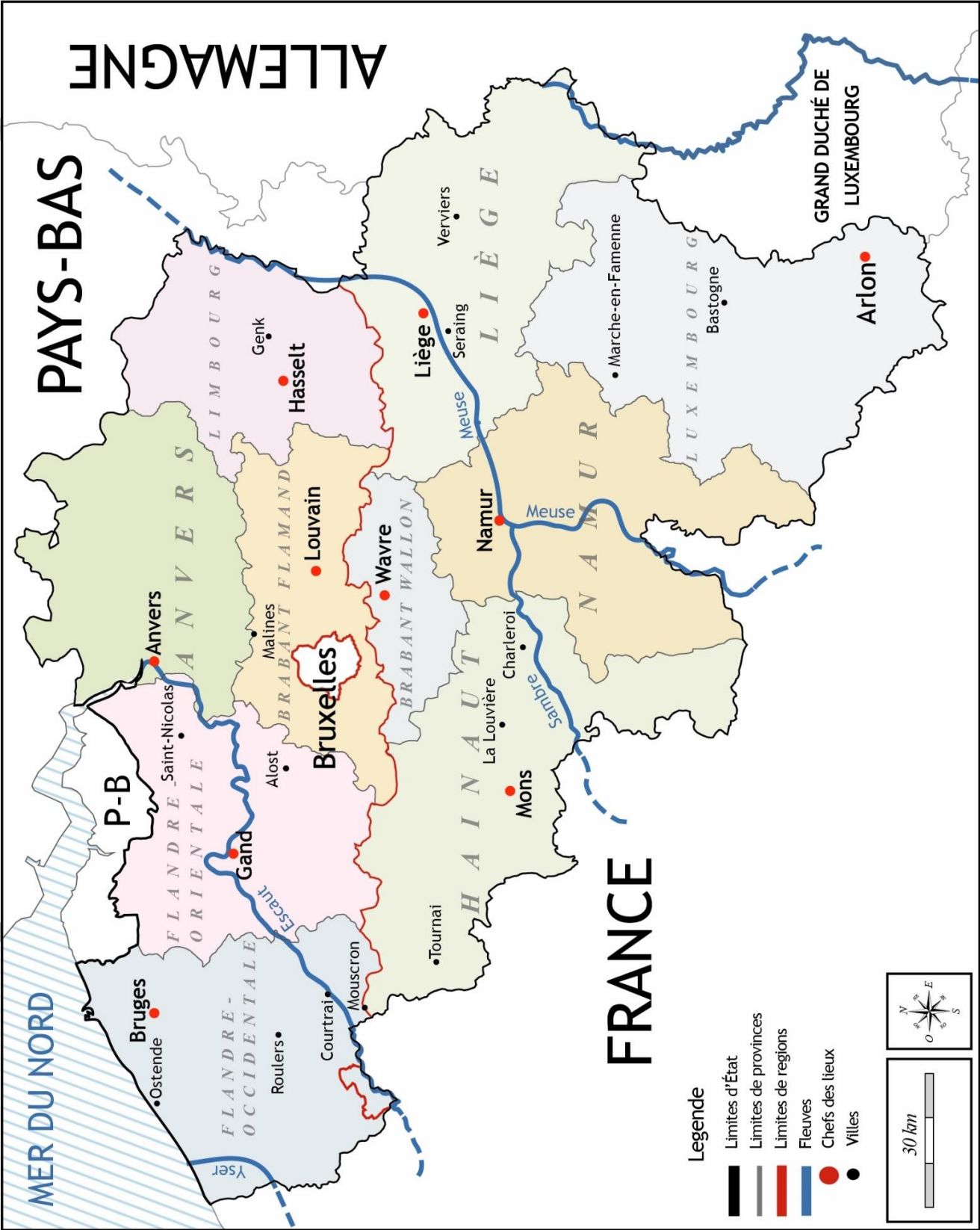
module I, bloc A

niv.3 : Réponds à la question sur les 8 directions cardinales et les directions/échelles.



Questions

21	Forest est à/au ☞ de Molenbeek-Saint-Jean.	21
22	Watermael-Boitsfort est à/au ☞ de Saint-Gilles.	22
23	Saint-Josse-Ten-Noode est à/au ☞ d'Ixelles.	23
24	Je suis à Uccle et je désire aller à Watermael-Boitsfort, quelle direction vais-je prendre ?	24
25	Auderghem est à/au ☞ de Ganshoren.	25
26	Evere est à/au ☞ de Saint-Gilles.	26
27	Woluwe-Saint-Lambert est à/au ☞ d'Etterbeek.	27
28	Je vis à Ganshoren. Pour me rendre au travail, je roule vers l'est. Mon magasin se trouve dans la 4 ^e commune rencontrée. De quelle commune s'agit-il ?	28
29	Nous sommes à Molenbeek-Saint-Jean et nous devons aller vers le/l' ☞ pour rejoindre Jette.	29
30	Je suis à Saint-Gilles et je vais vers le nord-ouest, dans quelle commune vais-je arriver ?	30
31	Par rapport à Forest, où se situe Schaerbeek ?	31
32	Saint-Gilles est à/au ☞ d'Evere.	32
33	Woluwe-Saint-Lambert est à/au ☞ d'Auderghem.	33
34	Par rapport à Koekelberg, où se situe Etterbeek ?	34
35	Ganshoren est à/au ☞ de Saint-Josse-ten-Noode.	35
36	Uccle est à/au ☞ de Berchem-Sainte-Agathe.	36
37	Par rapport à Uccle, où se situe Woluwe-Saint-Pierre ?	37
38	Auderghem est à/au ☞ de Schaerbeek.	38
39	Ixelles est à/au ☞ de Ganshoren.	39



Carte des fleuves de la Belgique, de ses provinces et de leurs chefs-lieux.



niv.1 : Réponds à la question sur les 4 directions cardinales.

Questions

1	Quelle est la province à l'ouest de la province de Namur ?	1
2	La province du Luxembourg est à/au ☞ de Liège.	2
3	La ville de Mouscron est à/au ☞ de la ville de Courtrai.	3
4	Namur est la plus proche ville à/au ☞ de Seraing.	4
5	Quelle province au nord de Namur touche son territoire ?	5
6	Tournai est à/au ☞ de Gand.	6
7	Bruges se situe à/au ☞ d'Ostende.	7
8	Ostende est à/au ☞ de Bruges.	8
9	Roulers est/à ☞ d'Alost.	9
10	Mons est à/au ☞ de Charleroi.	10
11	Genk est à/au ☞ de Liège.	11
12	Tournai est à/au ☞ de Liège.	12
13	La province de Namur est à/au ☞ de la province du Brabant wallon.	13
14	Quelle province est la plus à l'est du pays ?	14
15	Saint-Nicolas est à/au ☞ de Alost.	15
16	Quelle ville sur la carte est la plus à l'est du pays ?	16
17	La province du Brabant flamand est à/au ☞ de la province du Brabant wallon.	17
18	L'Allemagne se situe à/au ☞ de la Belgique.	18
19	Les Pays-Bas sont tout à/au ☞ du pays.	19
20	Anvers est à/au ☞ des Pays-Bas.	20
21	La Louvière est à/au ☞ de Mons.	21



niv.1 : Réponds à la question sur les 4 directions cardinales.



Questions

22	La ville de Namur est à/au ☞ de Louvain.	22
23	La province d'Anvers est à/au ☞ du Brabant flamand.	23
24	La province de la Flandre-Occidentale est à/au ☞ de la Flandre-Orientale.	24
25	La ville de Seraing est à/au ☞ de Verviers.	25
26	Je suis à Anvers et je veux aller à Bruges, quelle direction dois-je prendre ?	26
27	La ville d'Hasselt est à/au ☞ de Louvain.	27
28	Quelle province est le plus à l'ouest de la Belgique ?	28
29	Je suis à Mons, où se situe la frontière avec l'Allemagne ?	29
30	Quelle province à l'est du Hainaut commence par un "L" ?	30
31	Les provinces du Limbourg, de ☞ et du Luxembourg se succèdent selon un axe nord-sud.	31
32	Quel est le chef-lieu au sud de Gand ?	32
33	L'Yser traverse l'/le ☞ de la Flandre-Occidentale.	33
34	Louvain se trouve à/au ☞ de Bruxelles et à/au ☞ d'Hasselt.	34
35	Quelle ville commençant par un "M" se trouve au nord de la Meuse ?	35
36	Partant de Courtrai, si je marche à l'est, quelle province vais-je rencontrer en premier ?	36
37	Partant de Wavre, je roule au nord. Par quel pays je sors de la Belgique ?	37
38	La ville de Charleroi est à/au ☞ de la ville d'Anvers.	38
39	Par rapport à Gand, où se situe Malines ?	39
40	La ville de La Louvière est à/au ☞ de la ville de Namur.	40



niv.2 : Réponds à la question sur les 8 directions.



Questions

1	Courtrai est située à environ ☹ km à vol d'oiseau à l'ouest de Bruxelles.	1
2	Wavre est située à environ ☹ km à vol d'oiseau au nord-est de Mons.	2
3	Mons est située à environ ☹ à l'ouest de Namur.	3
4	Quelle province est située à moins de 10 km de Bruxelles ?	4
5	Quelle ville se trouve à 25 km à vol d'oiseau à l'ouest de Verviers ?	5
6	Quelle ville se trouve à 80 km à vol d'oiseau à l'ouest d'Anvers ?	6
7	Marche-en-Famenne se situe à vol d'oiseau à ☹ au sud de Hasselt.	7
8	Mons se situe à 40 km à vol d'oiseau à/au ☹ de Tournai.	8
9	Je suis en France. Je veux traverser la Belgique en prenant le chemin le plus court pour aller aux Pays-Bas. Combien de km vais-je devoir parcourir ?	9
10	Alost se situe à/au ☹ de Namur.	10
11	Saint-Nicolas se trouve à 45 km au nord-ouest de ☹.	11
12	Namur se trouve à l'est de Mons mais à quelle distance ?	12
13	En comptant la distance la plus courte, le Hainaut se trouve à 30 km à l'Ouest de ☹.	13
14	Malines se trouve au nord de Charleroi, mais quelle distance sépare ces deux villes ?	14
15	Anvers se trouve à 90 km au nord-est de ☹.	15
16	☹ se trouve à 40 km au nord de Seraing.	16
17	Je suis au sud des Pays-Bas et je souhaite aller au Grand-Duché de Luxembourg, quelle direction suivre en passant par la province de Liège ?	17
18	Je pars de la Flandre-Occidentale et je vais vers la province du Luxembourg. Dans quelle direction vais-je ?	18
19	Au sud de la province d'Anvers se trouve la Province du ☹.	19



niv.2 : Réponds à la question sur les 8 directions.



Questions

20	Cite-moi la ville la plus au sud du pays représentée sur la carte.	20
21	Louvain se trouve à 85 km au nord-ouest de quelle ville ?	21
22	Quelle ville représentée sur la carte se trouve le plus à l'Ouest du pays ?	22
23	Donne-moi la ville la plus à l'est de la province de Liège.	23
24	☞ se trouve à 65 km à l'est de Roulers.	24
25	La province de Namur se trouve à/au ☞ de la province d'Anvers.	25
26	Je souhaite aller en voiture de Bruges à Alost en passant par Courtrai combien de km vais-je devoir rouler ?	26
27	La Mer du Nord ne se trouve pas vraiment au nord par rapport à notre pays, où se trouve-elle exactement ?	27
28	Mon train va de Arlon à Ostende en passant par Bruxelles qui se trouve au nord-ouest, quelle sera la distance parcourue par mon train ?	28
29	Saint-Nicolas se trouve à 70 km à/au ☞ de La Louvière.	29
30	Quelle est la distance entre Marche-en-Famenne et Bastogne ?	30
31	La province du Luxembourg se situe à ☞ km au sud-est de la province du Brabant Wallon (en prenant la distance la plus courte)	31
32	Trouve le chef-lieu du Hainaut.	32
33	La Louvière se situe à/au ☞ par rapport à la Sambre.	33
34	Quelle est la distance la plus courte entre Genk et la Meuse.	34
35	Vrai ou faux : Hasselt se trouve en Wallonie.	35
36	Quelles sont les deux villes au sud de Marche-en-Famenne ?	36
37	Quelles villes se situe à 100 km de Verviers ?	37
38	Arlon se trouve à/au ☞ de la Belgique.	38
39	100 km à l'est d'Ostende on trouve ☞.	39



niv.3 : Réponds à la question sur les 8 directions cardinales et les distances/échelles.



Questions

1	La province du Luxembourg est à/au ☞ de la Belgique.	1
2	La Louvière est à/au ☞ de Mons.	2
3	Mons est à/au ☞ d'Alost.	3
4	Mouscron se trouve à/au ☞ de Gand.	4
5	Quelle est la province au nord-est de la province de Namur qui ne touche pas son territoire ?	5
6	Quelle est la province au sud-ouest de la province d'Anvers qui ne touche pas son territoire ?	6
7	La Mer du Nord se trouve à/au de la province de Liège.	7
8	Bruxelles se trouve à/au ☞ de Mons.	8
9	Avec mon ami, je veux aller d'Ostende à Gand, quelle direction prendre ?	9
10	La ville de Verviers se trouve à/au ☞ de Marche-en-Famenne.	10
11	L'Yser se trouve à/au ☞ de la ville d'Ostende.	11
12	Je suis à Seraing et je veux aller voir mes grands-parents à Louvain, quelle direction dois-je prendre ?	12
13	Courtrai est à/au ☞ d'Anvers.	13
14	Mouscron est à/au ☞ de La Louvière.	14
15	En balade à vélo à Saint-Nicolas, nous décidons d'aller vers le ☞ pour rejoindre Gand.	15
16	La Louvière est à/au ☞ d'Hasselt.	16
17	Verviers est à/au ☞ de la province d'Anvers.	17
18	La Meuse démarre en France. Après Namur, la Meuse va vers le/l' ☞ jusqu'aux Pays-Bas.	18
19	Je prends le train à Anvers pour rejoindre Genk, dans quelle direction vais-je ?	19
20	Hasselt se trouve à/au ☞ de Namur.	20



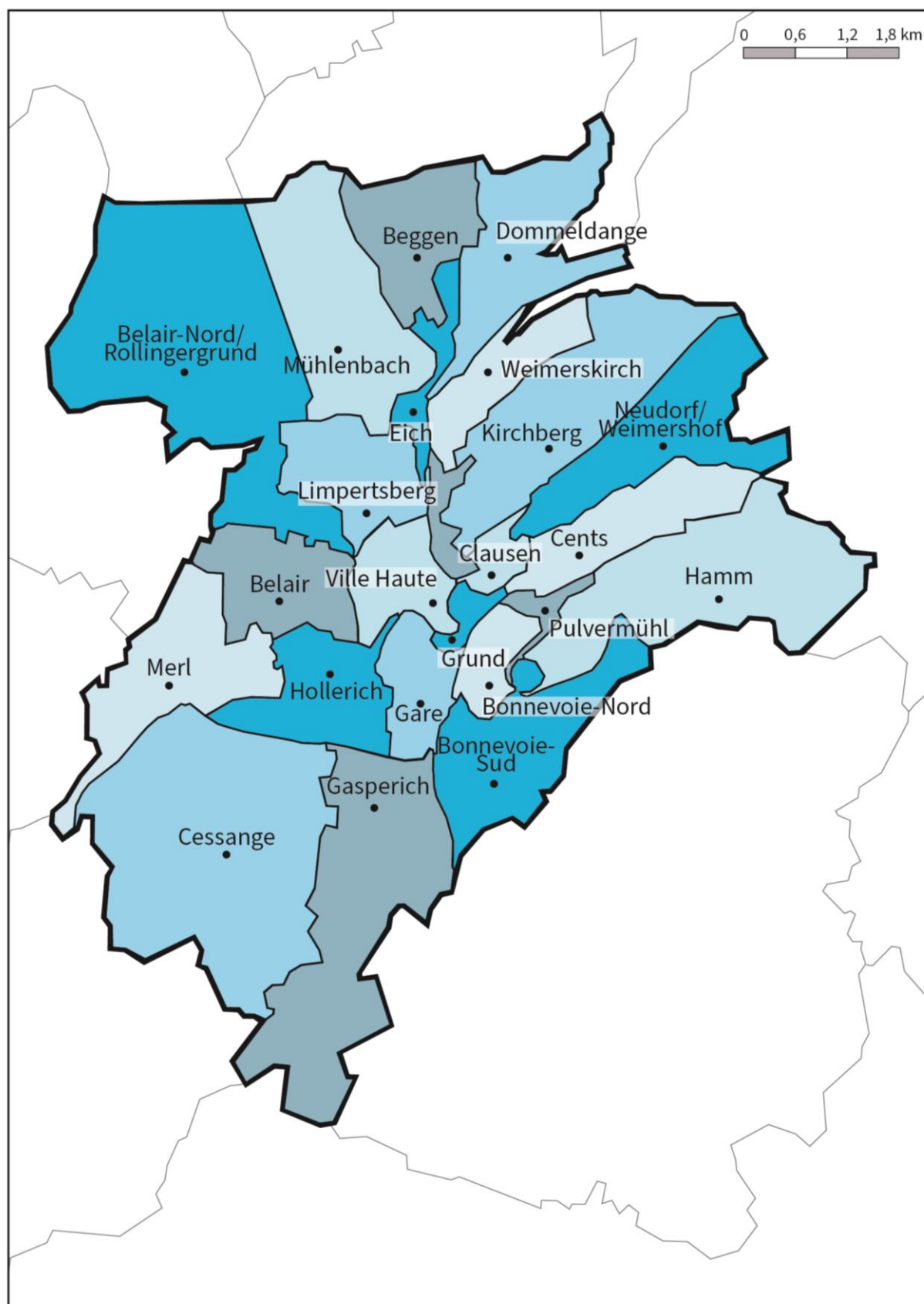
niv.3 : Réponds à la question sur les 8 directions cardinales et les distances/échelles.



Questions

21	Quelle ville est la plus proche au nord-est d'Hasselt ?	21
22	Quelle province se trouve au sud-est de la province d'Anvers ?	22
23	Le Grand-Duché de Luxembourg se trouve à/au ☞ de la Belgique.	23
24	Le Brabant flamand se trouve à/au ☞ de la province de Liège.	24
25	La province du Hainaut est à/au ☞ du Brabant Wallon.	25
26	Charleroi est à/au ☞ de Liège.	26
27	Pour aller à Ostende depuis Bruxelles, je vais prendre un train qui va vers le ☞.	27
28	La province d'Anvers est à/au ☞ de la province de Namur.	28
29	L'Escaut se trouve à/au ☞ de la ville de Bastogne.	29
30	Tournai est à/au ☞ de l'Yser.	30
31	Par rapport à Namur, où se situe Saint-Nicolas ?	31
32	Marche-en-Famenne se trouve à/au ☞ de Namur.	32
33	Où se situe Malines par rapport à Tournai ?	33
34	Courtrai est à/au ☞ de Bruxelles.	34
35	Où se situe Charleroi par rapport à Genk ?	35
36	Par rapport à Wavre, où se situe Gand ?	36
37	La Louvière est à/au ☞ de Bruges.	37
38	Par rapport à Hasselt, où se situe Wavre ?	38
39	Où se situe Louvain par rapport à Mons ?	39
40	Anvers se trouve à/au ☞ de Liège.	40
41	Par rapport à Tournai, où se situe Bruxelles ?	41

Module II.A - Luxembourg-ville



Carte de la ville de Luxembourg et de ses quartiers.



niv.1 : Réponds à la question sur les 4 directions cardinales



Questions

1	Beggen se situe à/au ☞ de Gasperich.	1
2	Où se situe Gasperich par rapport à la Ville Haute ?	2
3	Belair se situe à/au ☞ de Hamm.	3
4	Quel quartier est au sud de Merl ?	4
5	Beggen se situe à/au ☞ de la ville de Luxembourg.	5
6	Cents se situe à/au ☞ de Belair.	6
7	Quel quartier est à l'ouest de Mühlenbach ?	7
8	Le quartier de la Gare se situe à/au ☞ d'Hollerich.	8
9	Cessange se situe à/au ☞ de Gasperich.	9
10	Où se situe Beggen par rapport à Bonnevoie-Sud ?	10
11	Partant de Clausen, dans quelle direction dois-je rouler pour aller à Merl ?	11
12	Hamm se situe à/au ☞ de Belair.	12
13	Quel quartier est directement au sud de Dommeldange ?	13
14	Eich se situe à/au ☞ de Belair-Nord/Rollingergrund.	14
15	Mühlenbach se situe à/au ☞ de la Gare.	15
16	Pulvermühl est à/au ☞ de Hamm.	16
17	Par rapport à Mühlenbach, où se situe Limpertsberg ?	17
18	Bonnevoie-Nord se situe à/au ☞ de Kirchberg.	18
19	Belair-Nord/Rollingergrund se situe à/au ☞ de Mühlenbach.	19
20	Par rapport à Beggen, où se situe le quartier de la Ville Haute ?	20
21	Où se situe Pulvermühl par rapport à Kirchberg ?	21
22	Le quartier de la Gare se situe à/au ☞ d'Eich.	22
23	Hamm se situe à/au ☞ de la ville de Luxembourg.	23



niv.1 : Réponds à la question sur les 4 directions cardinales



Questions

24	En partant de Bonnevoie-Sud, dans quelle direction dois-je rouler pour aller à Clausen ?	24
25	Où se situe Kirchberg par rapport à Bonnevoie-Sud ?	25
26	Neudorf/Weimershof se situe à/au ☞ de Eich.	26
27	Cessange se situe à/au ☞ de Belair-Nord.	27
28	Quel est le quartier le plus au sud de la ville de Luxembourg ?	28
29	Le quartier de la Gare est à/au ☞ de la Ville Haute.	29
30	Merl se situe à/au ☞ de Belair-Nord/Rollingergrund.	30
31	La Ville Haute se situe à/au ☞ de Gasperich.	31
32	Où se situe Bonnevoie-Nord par rapport au quartier de Hamm ?	32
33	Hollerich se situe à/au ☞ de Merl.	33
34	Weimerskirch se situe à/au ☞ de Bonnevoie-Sud.	34
35	En partant de Eich, dans quelle direction dois-je rouler pour aller à Neudorf/Weimershof ?	35
36	Par rapport à Clausen, où se situe Belair ?	36
37	Je pars de Bonnevoie-Nord vers Merl, quels quartiers vais-je traverser ?	37
38	Où se situe Bonnevoie-Sud par rapport à Cents ?	38
39	En partant de Kirchberg, dans quelle direction dois-je rouler pour aller à Eich ?	39
40	Dommeldange se situe à/au ☞ de Bonnevoie-Nord.	40
41	Quel est le quartier le plus à l'est de la ville de Luxembourg ?	41
42	En partant de Cents, dans quelle direction dois-je rouler pour aller à Limpertsberg ?	42
43	Où se situe Limpertsberg par rapport à Hollerich ?	43



niv.2 : Réponds à la question sur les 8 directions.



Questions

1	Quelle distance sépare Cessange de Gasperich ?	1
2	Je pars de Bonnevoie-Nord et je parcours 1 km environ vers le nord-est. Dans quel quartier vais-je arriver ?	2
3	Cite le quartier le plus au sud de la ville de Luxembourg ?	3
4	Si je suis à Belair et que je parcours 1,5 km environ vers le nord-est, dans quelle ville vais-je arriver ?	4
5	Je suis à Merle, je parcours 3 km vers l'est, dans quel quartier vais-je arriver ?	5
6	Combien de kilomètres dois-je parcourir pour aller de Mühlenbach à Bonnevoie-Sud ?	6
7	Je pars de Beggen, je parcours 2,5 km environ vers le sud-est. Dans quel quartier vais-je arriver ?	7
8	Combien de kilomètres dois-je parcourir pour aller de Merl à Gare ?	8
9	Combien de kilomètres séparent le point le plus au nord du point le plus au sud de la ville de Luxembourg ?	9
10	Si je suis à Hamm et que je parcours 4,2 km vers le nord-ouest. Dans quel quartier vais-je arriver ?	10
11	Quelle distance sépare Belair de Gasperich ?	11
12	Combien de kilomètres dois-je parcourir pour aller de Mühlenbach à Bonnevoie Sud ?	12
13	Cite le quartier au nord-ouest de Limpertsberg ?	13
14	Je suis à Bonnevoie-Sud et je parcours 1,2 km vers Belair-Nord / Rollingergrund. Quelle est ma destination ?	14
15	Je pars de Limpertsberg, je parcours 3,6 km vers le sud. Dans quel quartier vais-je arriver ?	15
16	Si je suis à Belair et que je parcours 1,8 km vers l'est, dans quel quartier vais-je arriver ?	16
17	Combien de kilomètres dois-je parcourir pour aller de Belair à Eich ?	16



niv.2 : Réponds à la question sur les 8 directions.



Questions

17	Cite le plus grand quartier au sud-ouest de Luxembourg ville ?	17
18	Si je suis à Bonnevoie-Nord et que je parcours 3 km vers le nord-ouest, dans quel quartier vais-je arriver ?	18
19	Je suis à Neudorf / Weimershof, j'ai parcouru 600 m pour sortir de la ville de Luxembourg. Quelle direction ai-je prise ?	19
20	Si je suis à Clausen et que je parcours 2 km vers le nord, dans quel quartier vais-je arriver ?	20
21	Je pars de Mühlenbach, je marche 1 km vers le sud-uest. Dans quel quartier vais-je arriver ?	21
22	Cite le quartier au nord-est de Merl ?	22
23	Si je suis à Clausen et que je parcours 1 km vers le sud-est, dans quel quartier vais-je arriver ?	23
24	Quelle distance sépare Gasperich et Hamm ?	24
25	Cite les quatre quartiers de la carte les plus au nord ?	25
26	Je démarre de Cessange, je vais à Gare puis je me rends à Limpertsberg vers le nord-ouest. Quelle distance ai-je parcourue ?	26
27	Je pars de Merl, je parcours 3 km vers le nord-est. Dans quel quartier vais-je arriver ?	27
28	Quelle distance sépare Bonnevoie-Nord et Pulvermühl ?	28
29	Je démarre de l'extrême sud de la ville, je me rends à Cents en passant d'abord par Merl. Quelle distance ai-je parcourue ?	29



niv.3 : Réponds à la question sur les 8 directions cardinales et les distances/échelles.



Questions

1	Le quartier de Belair se trouve à/au ☞ de celui de Limpertsberg.	1
2	Cessange se situe à/au ☞ du quartier de Grund.	2
3	Limpertsberg se situe à/au ☞ de Dommeldange.	3
4	Cents se situe à/au ☞ de Mühlenbach.	4
5	Limpertsberg se situe à/au ☞ de Grund.	5
6	Le quartier de Eich se situe à/au ☞ de Belair.	6
7	Mühlenbach se situe à/au ☞ de Gasperich.	7
8	Gasperich se situe à/au ☞ de Bonnevoie-Nord.	8
9	Cessange se situe à/au ☞ de Neudorf/Weimershof.	9
10	Pour rejoindre le canton de Hamm en partant de celui de Beggen, je dois aller à/au ☞.	10
11	Pulvermühl se situe à/au ☞ de Limpertsberg.	11
12	Le quartier de la gare se situe à/au ☞ d'Hamm.	12
13	Merl se situe à/au ☞ de Limpertsberg.	13
14	Cents se situe à/au ☞ de Rollingergrund/Belair-Nord.	14
15	Hollerich se situe à/au ☞ d'Eich.	15
16	Dommeldange se situe à/au ☞ de Merl.	16
17	Gasperich se situe à/au ☞ de Pulvermühl.	17
18	Grund se situe à/au ☞ de Mühlenbach.	18
19	Eich se situe à/au ☞ d'Hamm.	19
20	Weimerskirch se situe à/au ☞ d'Hollerich.	20
21	Belair se situe à/au ☞ de Dommeldange.	21

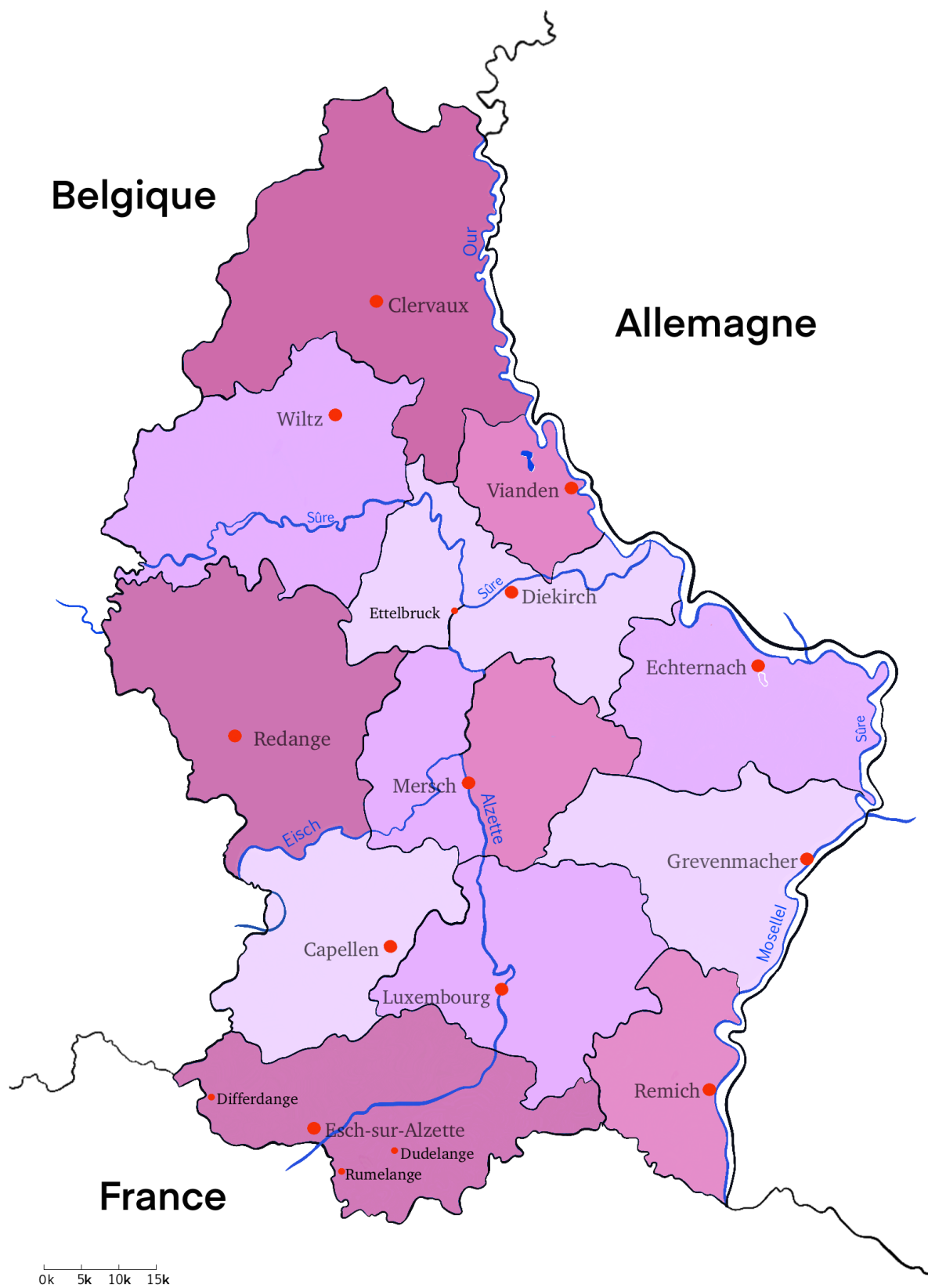


niv.3 : Réponds à la question sur les 8 directions cardinales et les distances/échelles.



Questions

22	Le quartier de Bonnevoie-Sud se situe à/au ☞ d'Hamm.	22
23	Le quartier de la gare se situe à/au ☞ de Clausen.	23
24	Ville Haute se situe à/au ☞ de Hollerich.	24
25	Le quartier de la gare se situe à/au ☞ de Limpertsberg.	25
26	Cents se situe à/au ☞ de Merl.	26
27	Le quartier de Kirchberg se situe à/au ☞ de celui de Cessange.	27
28	Le quartier de la gare se situe à/au ☞ de Neudorf/Weimershof.	28
29	Beggen se situe à/au ☞ de Bonnevoie-Sud.	29
30	Belair se situe à/au ☞ de Kirchberg.	30
31	Je suis à Grund, quelle direction dois-je prendre pour aller à Eich ?	31
32	Ville Haute se situe à/au ☞ de Merl.	32
33	Limpertsberg se situe à/au ☞ de Hollerich.	33
34	Mullenbach se situe à/au ☞ de Bonnevoie-Sud.	34
35	Merl se situe à/au ☞ de Cents.	35
36	Dommeldange se situe à/au ☞ de Neudorf/Weimershof.	36
37	La Ville Haute se situe à/au ☞ de Hamm.	37
38	Bonnevoie-Sud se situe à/au ☞ de Gasperich.	38
39	Belair se situe à/au ☞ de Kirchberg.	39
40	Gasperich se situe à/au ☞ de Belair.	40



Carte des cantons, des chefs-lieux, des villes principales et des rivières du Grand-Duché de Luxembourg.



niv.1 : Réponds à la question sur les 4 directions cardinales.



Questions

1	La ville d'Esch-sur-Alzette est située à/au ☞ du Grand-Duché de Luxembourg.	1
2	La ville d'Echternach est située à/au ☞ du Grand-Duché de Luxembourg.	2
3	La ville de Mersch est située à/au ☞ d'Echternach.	3
4	La ville de Remich est située à/au ☞ d'Esch-sur-Alzette.	4
5	Quel cours d'eau est situé à l'ouest de Grevenmacher ?	5
6	La ville de Capellen est située à/au ☞ de Luxembourg.	6
7	Vianden est situé à/au ☞ de la ville de Diekirch.	7
8	La ville de Clervaux est située à/au ☞ de la ville d'Ettelbruck.	8
9	La ville de Remich est située à/au ☞ de Grevenmacher.	9
10	Quelle est la ville située à l'ouest d'Esch-sur-Alzette ?	10
11	Quelle est la ville située au sud d'Echternach ?	11
12	La ville de Clervaux est la ville la plus à/au ☞ du Grand-Duché de Luxembourg.	12
13	Quelles villes sont situées dans le même canton que la ville d'Esch-sur-Alzette ?	13
14	Quel pays est au nord de Clervaux ?	14
15	Redange est à/au ☞ de la Belgique.	15
16	Quel pays est à l'est de Remich ?	16
17	La ville de Luxembourg est à/au ☞ de Vianden.	17
18	La ville d'Esch-sur-Alzette est à/au ☞ de Remich.	18
19	Quelle est la ville la plus au sud du Grand-Duché de Luxembourg ?	19
20	Le cours d'eau Our est situé à/au ☞ de la ville de Clervaux.	20



niv.1 : Réponds à la question sur les 4 directions cardinales.

Questions

21	Vianden se situe à/au ☞ de Wiltz.	21
22	Quelles villes se situent dans des cantons qui ne sont pas limitrophes au Grand-Duché de Luxembourg ?	22
23	La ville de Capellen se situe à/au ☞ de Wiltz.	23
24	Diekirch est à/au ☞ de la France.	24
25	La France se situe à/au ☞ de la ville d'Esch-sur-Alzette.	25
26	La ville de Wiltz est à/au ☞ d'Esch-sur-Alzette.	26
27	La ville de Clervaux se situe à/au ☞ d'Esch-sur-Alzette.	27
28	La ville de Mersch se situe à/au ☞ d'Echternach.	28
29	La ville d'Esch-sur-Alzette est à/au ☞ du Grand-Duché de Luxembourg.	29
30	Vianden est à/au ☞ de l'Allemagne.	30
31	La ville de Mersch se situe à/au ☞ de Redange.	31
32	Quel cours d'eau est situé au sud de Redange ?	32
33	La ville de Redange se situe à/au ☞ de Clervaux.	33
34	Quelle est la ville la plus à l'est du Grand-Duché de Luxembourg ?	34
35	La ville de Luxembourg se situe à/au ☞ de la ville de Mersch.	35
36	Où se situe la ville de Diekirch par rapport à la ville de Capellen ?	36
37	Le cours d'eau Alzette est situé à/au ☞ de la ville de Redange.	37
38	La ville d'Ettelbruck se situe à/au ☞ de la ville d'Echternach.	38
39	La ville de Mersch se situe à/au ☞ de la ville de Dudelange.	39
40	Où se situe la ville de Remich par rapport à la ville de Differdange ?	40
41	La ville de Differdange se situe à/au ☞ de la ville de Redange.	41



niv.2 : Réponds à la question sur les 8 directions cardinales.



Questions

1	Quelle distance sépare Redange de Mersch ?	1
2	Je pars de Remich, je parcours 20 km vers le nord-est. Dans le canton de quelle ville vais-je arriver ?	2
3	Cite la ville au sud-est de Luxembourg la capitale ?	3
4	Si je suis à Redange et que je parcours 45 km vers le nord-est, dans quelle ville vais-je arriver ?	4
5	Je suis à Wiltz, je parcours 25 km vers l'est, dans quel pays vais-je arriver ?	5
6	Combien de kilomètres dois-je parcourir pour aller de Mersch à Capellen ?	6
7	Je pars de la ville de Luxembourg, je parcours 15 km vers le sud-est. Dans le canton de quelle ville vais-je arriver ?	7
8	Combien de kilomètres dois-je parcourir pour aller de Redange à la ville de Luxembourg ?	8
9	Combien de kilomètres séparent le point le plus au nord du point le plus au sud du Grand-Duché de Luxembourg ?	9
10	Si je suis à Luxembourg-Ville et que je parcours 45 km vers le nord-est. Dans quelle ville vais-je arriver ?	10
11	Quelle distance sépare Clervaux de Wiltz ?	11
12	Combien de kilomètres dois-je parcourir pour aller de Capellen à Grevenmacher ?	12
13	Cite la ville au nord-est de Wiltz ?	13
14	Je suis à Clervaux, je parcours 80 km vers le sud-est, quelle est ma destination ?	14
15	Je pars de Vianden, je parcours 20 km vers le sud-est. Dans le canton de quelle ville vais-je arriver ?	15
16	Si je suis à Differdange et que je parcours 66 km vers l'est, dans quelle ville vais-je arriver ?	16



niv.2 : Réponds à la question sur les 8 directions cardinales.



Questions

17	Combien de kilomètres dois-je parcourir pour aller de Diekirch à Echternach ?	17
18	Cite la plus grande ville au sud-ouest de Capellen ?	18
19	Si je suis à Vianden et que je parcours 15 km vers le sud-ouest, dans quelle ville vais-je arriver ?	19
20	Je suis à Capellen, j'ai parcouru 20 km pour arriver dans un pays voisin. Quelle direction ai-je prise ?	20
21	Si je suis à Grevenmacher et que je parcours 27 km vers le nord, dans quelle ville vais-je arriver ?	21
22	Je pars de Vianden, je parcours 35 km vers le nord-ouest. Dans le canton de quelle ville vais-je arriver ?	22
23	Cite la ville au nord-est de Diekirch ?	23
24	Si je suis à Rumelange et que je parcours 5 km vers le nord-est, dans quelle ville vais-je arriver ?	24
25	Quelle distance sépare la ville de Luxembourg de Capellen ?	25
26	Cite les trois villes de la carte au nord de la Sûre ?	26
27	Je démarre de Redange, je vais visiter la ville de Luxembourg puis je me rends à Grevenmacher vers le nord-est. Quelle distance ai-je parcourue ?	27
28	Je pars de Mersch, je parcours 40 km vers le nord-est. Dans le canton de quelle ville vais-je arriver ?	28
29	Quelle distance sépare Differdange de Dudelange ?	29
30	Je démarre de Rumelange, je me dirige vers le nord pour atteindre Wiltz puis je me rends à Vianden vers le sud-est. Quelle distance ai-je parcourue ?	30



niv.3 : Réponds à la question sur les 8 directions cardinales et les distances/échelles.



Questions

1	Remich se situe à/au ☞ de Dudelange.	1
2	La ville de Echternach se situe à/au ☞ de Wiltz.	2
3	Redange se situe à/au ☞ de Grevenmacher.	3
4	Remich se situe à/au ☞ du canton de Wiltz.	4
5	La ville de Clervaux se situe à/au ☞ de Grevenmacher.	5
6	Rumelange se situe à/au ☞ de la ville d'Echternach.	6
7	La ville de Wiltz se situe à/au ☞ de la Sûre.	7
8	Remich se situe à/au ☞ de Clervaux.	8
9	Differdange se situe à/au ☞ du Grand-Duché de Luxembourg.	9
10	Mersch se situe à/au ☞ de Remich.	10
11	Esch-sur-Alzette se situe à/au ☞ de la Sûre.	11
12	La Moselle se situe à/au ☞ du Grand-Duché de Luxembourg.	12
13	Cappellen se situe à/au ☞ de la Sûre.	13
14	Je suis à Ettelbruck. Dans quelle direction dois-je me diriger pour aller vers Remich.	14
15	La ville de Clervaux se situe à/au ☞ du Grand-Duché de Luxembourg.	15
16	Rumelange se situe à/au ☞ de Esch-sur-Alzette.	16
17	Grevenmacher se situe à/au ☞ de Diekirch.	17
18	La Sûre se situe à/au ☞ d'Esch-sur-Alzette.	18
19	La ville de Luxembourg se situe à/au ☞ de la Sûre.	19
20	La ville de Remich se situe à/au ☞ de Wiltz.	20
21	La France est à/au ☞ du Grand-Duché de Luxembourg.	21

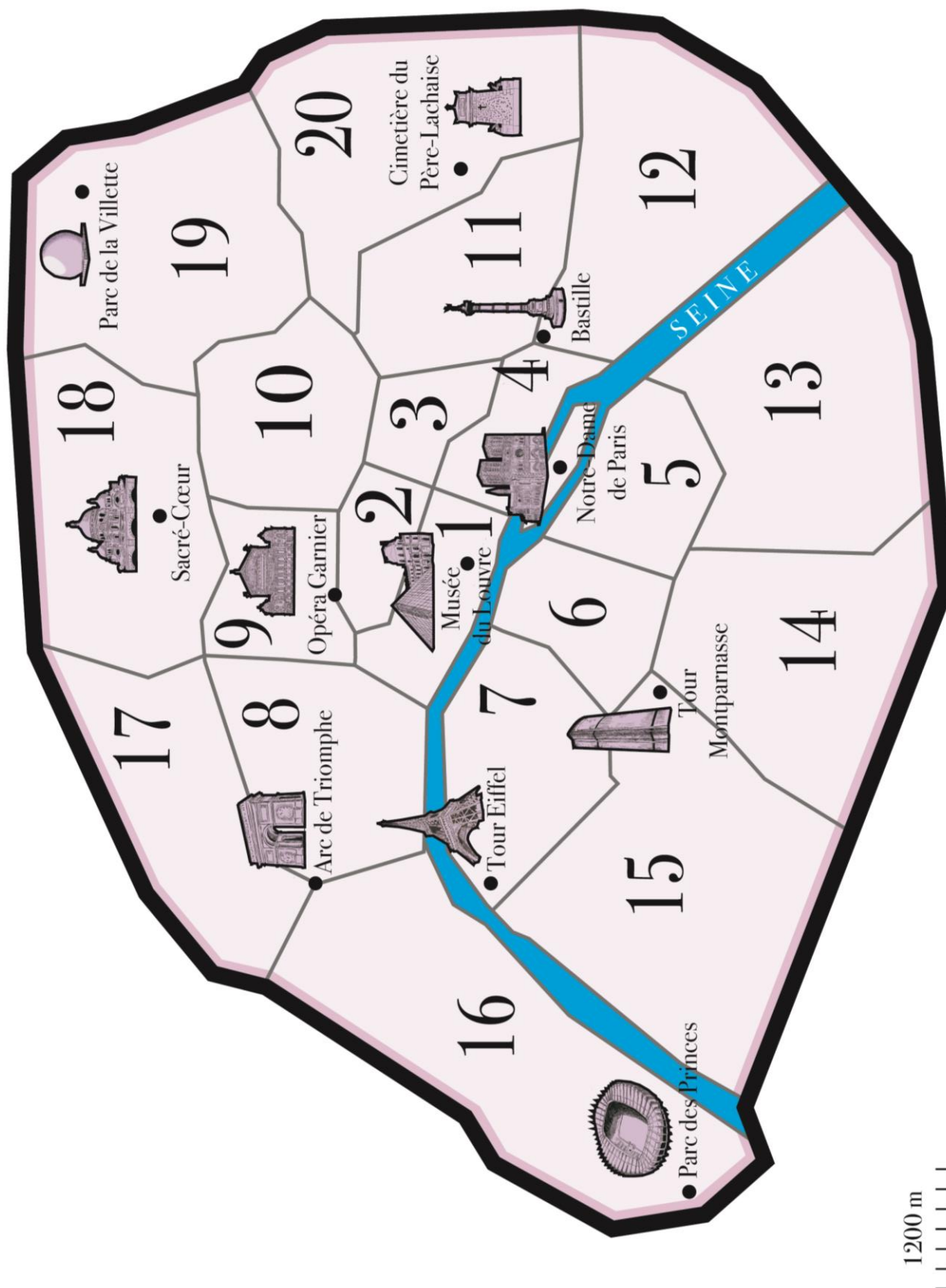


niv.3 : Réponds à la question sur les 8 directions cardinales et les distances/échelles.

Questions



22	Redange se situe à/au ☞ de Vianden.	22
23	Differdange se situe à/au ☞ de la ville de Luxembourg.	23
24	L'Our est à/au ☞ du Grand-Duché de Luxembourg.	24
25	Je suis à Clervaux et je veux rejoindre rapidement l'Our, quelle direction dois-je prendre ?	25
26	Capellen se situe à/au ☞ de Redange.	26
27	Dudelange est à/au ☞ d'Echternach.	27
28	La ville de Luxembourg se situe à/au ☞ de Redange.	28
29	Le canton dans lequel se trouve Remich se situe à/au ☞ du Grand-Duché de Luxembourg.	29
30	Echternach se situe à/au ☞ de Capellen.	30
31	Wiltz se situe à/au ☞ de la Moselle.	31
32	Clervaux se situe à/au ☞ de Grevenmacher.	32
33	Ettelbruck se situe à/au ☞ de Wiltz.	33
34	La Sûre se situe à/au ☞ de Dudelange.	34
35	Clervaux se situe à/au ☞ de Sûre.	35
36	Differdange se situe à/au ☞ de la Moselle.	36
37	L'Azette se situe à/au ☞ de Remich.	37
38	Le canton dans lequel se trouve la ville de Clervaux se situe à/au ☞ de Remich.	38
39	Remich à/au ☞ de l'Alzette.	39



Carte des arrondissements et des lieux remarquables de Paris.



niv.1 : Réponds à la question sur les 4 directions cardinales.



Questions

1	Le Parc de la Villette se situe à/au ☹ du cimetière Père-Lachaise.	1
2	L'arrondissement dans lequel se trouve la Tour Eiffel est au/à ☹ de Notre-Dame de Paris.	2
3	Quel arrondissement se trouve au nord de l'Arc de Triomphe ?	3
4	Quel arrondissement se trouve le plus à l'ouest de Paris ?	4
5	Cite un lieu remarquable à l'est du Sacré-Cœur.	5
6	Quel arrondissement se trouve au sud de la Tour Eiffel ?	6
7	Quel est l'arrondissement le plus au centre de Paris ?	7
8	Si je suis à Notre-Dame et que je veux aller voir la Bastille, je dois me diriger vers ☹.	8
9	Quel arrondissement se situe au sud du 19 ^e ?	9
10	Quel arrondissement au nord du 12 ^e ne comprend pas de monument sur la carte ?	10
11	Si je suis au musée du Louvre et que je veux aller écouter un opéra, dans quelle direction dois-je aller ?	11
12	Quel est le lieu remarquable le plus à l'est de Paris ?	12
13	Cite un arrondissement au sud de la Seine.	13
14	Au nord de quel arrondissement se trouve le Sacré-Cœur ?	14
15	La Bastille se trouve à/au ☹ du 11 ^e arrondissement.	15
16	Quel arrondissement se situe à l'ouest de la Tour Eiffel ?	16
17	Le musée du Louvre se situe à/au ☹ du cimetière du Père-Lachaise.	17
18	La Bastille se situe à/au ☹ du Parc des Princes ?	18
19	Quel monument se trouve à l'ouest de la Tour Montparnasse ?	19
20	Si je suis à Tour Eiffel et que je veux aller à Notre-Dame, je me dirige vers ☹.	20



niv.1 : Réponds à la question sur les 4 directions cardinales.



Questions

21	Je me trouve à la Tour Montparnasse et je me dirige vers le Nord, quel arrondissement vais-je atteindre en premier ?	21
22	Le 5 ^e arrondissement se situe à/au ☞ du 18 ^e arrondissement.	22
23	Quels sont les trois arrondissements les plus au nord de Paris ?	23
24	Quel monument se situe à l'est du 16 ^e ?	24
25	Notre-Dame de Paris se situe à/au ☞ de la Bastille.	25
26	Cite un lieu remarquable au nord de l'opéra Garnier.	26
27	Quels sont les arrondissements, sans lieu remarquable, à l'est du 15 ^e ?	27
28	Quels sont les quatre arrondissements les plus à l'est de Paris ?	28
29	Quel monument se trouve au sud du 2 ^e arrondissement ?	29
30	Si je suis au Parc des Princes et que je veux aller à la Tour Montparnasse, je me dirige vers ☞.	30
31	Je me trouve au Parc de la Villette et je veux aller dans le 17 ^e , dans quelle direction dois-je marcher ?	31
32	Je suis dans le 13 ^e arrondissement et je souhaite visiter le Sacré-Cœur. Quelle direction dois-je prendre ?	32
33	L'Arc de Triomphe se situe à/au ☞ du 10 ^e arrondissement.	33
34	Quels sont les quatre arrondissements les plus au sud de Paris ?	34
35	Le Musée du Louvre se situe à/au ☞ de l'Opéra Garnier.	35
36	Quel monument se situe au sud de l'Arc de Triomphe ?	36
37	Le 4 ^e arrondissement se situe à/au ☞ du 16 ^e arrondissement.	37
38	Si je suis dans le Parc de la Villette et que je souhaite visiter le Sacré-Cœur, je dois me diriger vers ☞.	38
39	L'Arc de Triomphe se situe à/au ☞ du 15 ^e arrondissement.	39



niv.2 : Réponds à la question sur les 8 directions cardinales.



Questions

1	Le Sacré-Cœur se situe à/au ☞ du cimetière Père-Lachaise.	1
2	La Tour Eiffel est au/à ☞ du Parc des Princes.	2
3	Quel arrondissement se trouve au nord-est de l'Arc de Triomphe ?	3
4	Je suis au musée du Louvre et je veux assister à un match au Parc des Princes, dans quelle direction dois-je aller ?	4
5	Quel arrondissement se trouve le plus au sud-ouest de Paris ?	5
6	La Bastille se situe à/au ☞ du Sacré-Cœur.	6
7	Quel arrondissement se trouve au sud-ouest de la Bastille ?	7
8	Quel est l'arrondissement le plus au nord-ouest de Paris ?	8
9	Je suis à Notre-Dame et je souhaite visiter la Tour Montparnasse, je dois me diriger vers le/l' ☞ .	9
10	Quel arrondissement se situe au sud-ouest du 19 ^e ?	10
11	Par rapport au 13 ^e arrondissement, où se situe le 8 ^e ?	11
12	Où se situe le cimetière du Père-Lachaise par rapport au 10 ^e arrondissement ?	12
13	Quel est le lieu remarquable le plus au nord-est de Paris ?	13
14	Quels sont les arrondissements impairs situés au sud de la Seine ?	14
15	Au nord-est de quel arrondissement se trouve le Sacré-Cœur ?	15
16	Par rapport au 10 ^e arrondissement, où se situe le 15 ^e ?	16
17	Quel arrondissement se situe au nord-est de la Tour Eiffel ?	17
18	Le musée du Louvre se situe à/au ☞ de l'Arc de Triomphe.	18
19	Quel lieu remarquable se trouve au nord-est de l'Opéra Garnier ?	19
20	Je suis à Notre-Dame et je veux aller au musée du Louvre, je me dirige vers ☞ .	20



niv.2 : Réponds à la question sur les 8 directions cardinales.



Questions

21	Je pars de la Tour Eiffel et je marche vers le sud-ouest, vers quel monument vais-je ?	21
22	Je suis à Notre-Dame et je souhaite me promener dans le Parc de la Villette. Pour m'y rendre, je dois me diriger vers ☞ .	22
23	Quel est l'arrondissement le plus au nord-est de Paris ?	23
24	Quels sont les arrondissements au sud-est de Paris ?	24
25	Notre-Dame de Paris se situe à/au ☞ de la Tour Montparnasse.	25
26	Cite un lieu remarquable au nord-est de l'opéra Garnier.	26
27	Quel arrondissement sans monument est au sud-est de Paris ?	27
28	Cite les deux arrondissements les plus au sud-ouest de Paris ?	28
29	Quel lieu remarquable se trouve à l'est du 11 ^e arrondissement ?	29
30	Quel monument se situe au nord-est du 16 ^e ?	30
31	Par rapport au 8 ^e arrondissement, où se situe le 12 ^e ?	31
32	Partant de la Tour Eiffel, j'embarque à bord d'un bateau sur la Seine et navigue vers l'est. Quel est le premier monument que je vais rencontrer ?	32
33	Quels sont les deux arrondissements à l'est de celui de la Tour Montparnasse ?	33
34	Partant du 1 ^{er} arrondissement, quelles directions dois-je successivement prendre pour traverser le 2 ^e , puis le 3 ^e puis le 4 ^e ?	34
35	Partant du Sacré-Cœur, par quelle direction puis-je sortir au plus vite de Paris ?	35
36	Par rapport au 15 ^e arrondissement, où se situe le 19 ^e ?	36
37	Je suis tout au sud du 15 ^e arrondissement. Je marche droit vers l'est. Quels arrondissements vais-je traverser pour atteindre le sud de la Seine ?	37



niv.3 : Réponds à la question sur les 8 directions cardinales et les distances/échelles.



Questions

1	Quelle est la distance entre le Sacré-Cœur et le Parc de la Villette ?	1
2	Je suis à l'Opéra Garnier et je marche 4,6 km vers l'est, à quel lieu remarquable vais-je arriver ?	2
3	Je suis au Sacré-Cœur, je marche 3,5 km vers le sud. Dans quel arrondissement vais-je arriver ?	3
4	Je suis à la Tour Eiffel, je marche 3,2 km vers le nord-est, à quel monument vais-je arriver ?	4
5	Je suis à l'Opéra Garnier, si je marche 2,4 km vers le sud-est. Que vais-je aller visiter ?	5
6	Je suis au cimetière du Père-Lachaise, je veux aller au Parc de la Villette, quelle direction dois-je prendre ?	6
7	Je suis au cimetière du Père-Lachaise, je veux aller au Parc de la Villette, combien de kilomètres vais-je parcourir ?	7
8	Je suis au Sacré-Cœur, je parcours 6 km vers le sud, dans quel arrondissement vais-je arriver ?	8
9	Je suis au Parc des Princes, je parcours 3 km vers l'est, dans quel arrondissement vais-je arriver ?	9
10	Je suis au point le plus au sud de Paris, je veux aller au Sacré-Cœur, combien de kilomètres vais-je marcher ?	10
11	Combien de kilomètres séparent le point le plus à l'est de celui le plus à l'ouest de Paris ?	11
12	Quelle distance y a-t-il entre le point le plus au sud du 7 ^e arrondissement et la Tour Montparnasse ?	12
13	Je suis à la Tour Eiffel, je parcours 3,5 km vers le sud-ouest. Puis-je visiter un monument ?	13
14	Je suis au musée du Louvres, je parcours 1,3 km environ vers le nord, où vais-je arriver ?	14
15	Quelle distance sépare l'Arc de Triomphe du cimetière du Père-Lachaise ?	15
16	Quelle distance y a-t-il entre le point le plus à l'est du point le plus à l'ouest du 15 ^e arrondissement de Paris ?	16

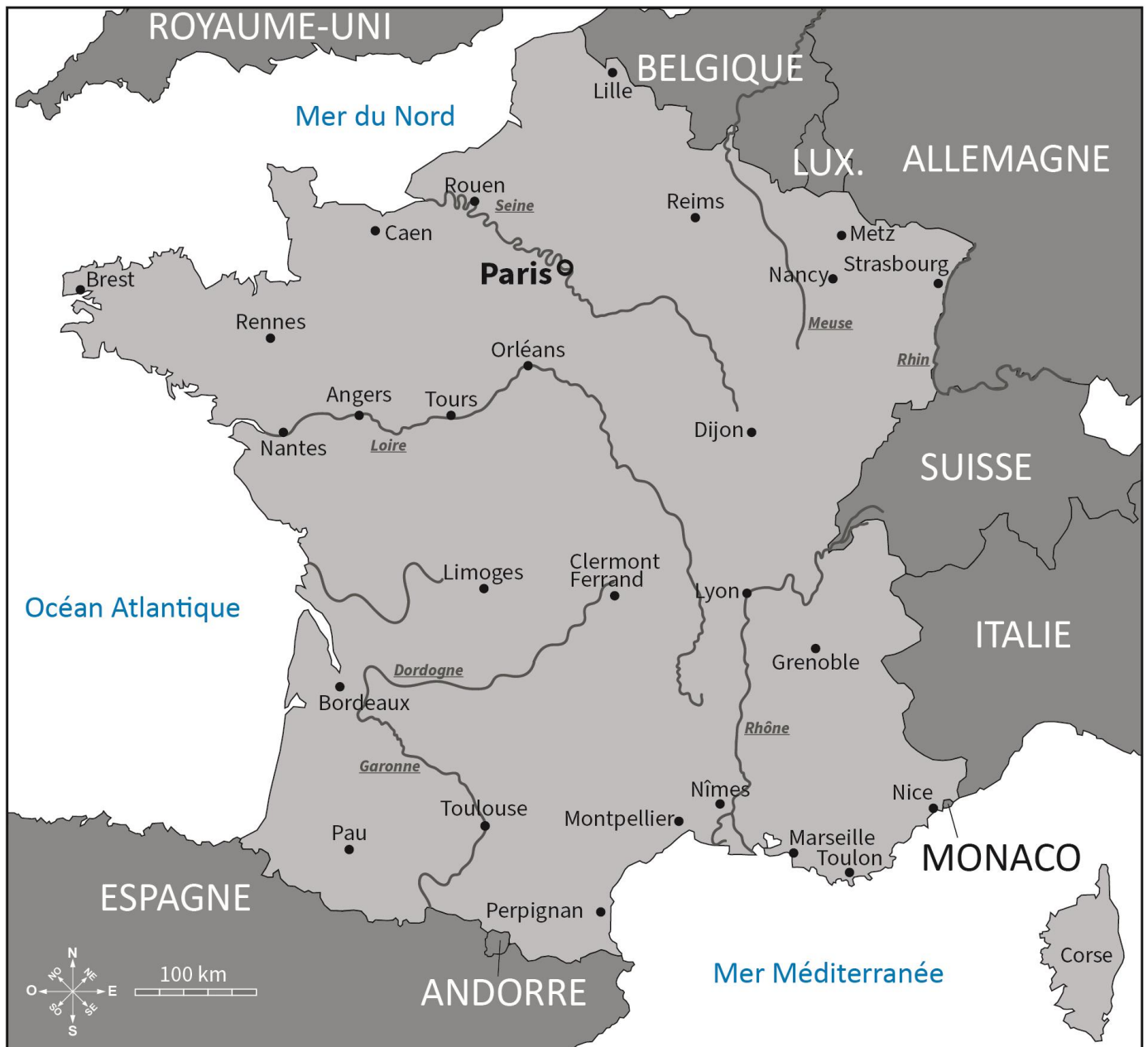


niv.3 : Réponds à la question sur les 8 directions cardinales et les distances/échelles.



Questions

17	Je pars de la Bastille, je marche 4,8 km vers le nord. Dans quel arrondissement vais-je arriver ?	17
18	Je pars de la Tour Montparnasse, je marche 6 km vers le sud-est. Dans quel arrondissement vais-je arriver ?	18
19	Je suis au cimetière du Père-Lachaise, je parcours 3 km vers le sud. Quel monument se trouve dans l'arrondissement où j'arrive ?	19
20	Quelle direction vais-je prendre pour aller de l'Opéra Garnier à la Tour Montparnasse ?	20
21	Je suis au cimetière à l'Arc de Triomphe, je parcours 4,1 km vers le nord-est. Quel monument puis-je visiter ?	21
22	Je suis au musée du Louvre, pour arriver vers l'Opéra Garnier, quelle direction ai-je emprunté ?	22
23	Je suis à l'Opéra Garnier, je parcours 3 km vers le nord. Quel monument se trouve dans l'arrondissement dans lequel j'arrive ?	23
24	Cite un monument au sud-ouest de la Tour Eiffel ?	24
25	Je suis à l'Arc de Triomphe, je parcours 5 km pour aller au Parc des Prince, quelle direction ai-je empruntée ?	25
26	Je pars de la Tour Eiffel, je marche 4,2 km vers le sud-est. À quel monument vais-je arriver ?	26
27	Quelle distance ai-je parcourue pour aller de l'Opéra Garnier à la Tour Montparnasse ?	27
28	Combien de kilomètres séparent le musée du Louvre et la Bastille ?	28
29	Je pars du Parc de la Villette, je marche 6 km vers l'ouest. Dans quel arrondissement vais-je arriver ?	29
30	Je démarre du Parc de la Villette, je me dirige vers l'ouest pour atteindre le Sacré-Cœur puis je me rends à Notre-Dame vers le sud. Quelle distance ai-je parcourue ?	30



Carte des villes et des fleuves principaux de France.



niv.1 : Réponds à la question sur les 4 directions cardinales.



Questions

1	Marseille se trouve à/au ☞ de Grenoble.	1
2	Lyon se situe à/au ☞ de Nîmes.	2
3	Où se situe Toulouse par rapport à Limoges ?	3
4	Pau se situe à/au ☞ de Toulouse.	4
5	Clermont-Ferrand est à l'est de ☞.	5
6	Dijon est à/au ☞ de la Suisse.	6
7	Reims se situe à/au ☞ de Dijon.	7
8	Nancy est à/au ☞ de Strasbourg.	8
9	Je pars de Brest, je marche vers l'est. Quelle est la 1ère ville que je vais rencontrer ?	9
10	Lyon est à/au ☞ de Clermont-Ferrand.	10
11	Perpignan est à/au ☞ de Clermont-Ferrand.	11
12	Quelle mer est au sud de la France ?	12
13	Dijon est à/au ☞ de Montpellier.	13
14	Grenoble est à/au ☞ de Bordeaux.	14
15	Nice est à/au ☞ de Nîmes.	15
16	Pau est à/au ☞ de Toulon.	16
17	Quel océan est à l'ouest de la France ?	17
18	Caen est à/au ☞ de Metz.	18
19	Nantes est à/au ☞ de Dijon.	19
20	Quelle mer se situe au nord de Caen ?	20
21	L'Italie est à/au ☞ de Grenoble.	21
22	Limoges est à/au ☞ de l'océan Atlantique.	22
23	Angers est à/au ☞ de Tours.	23



niv.1 : Réponds à la question sur les 4 directions cardinales.



Questions

24	Je suis à Limoges et je veux me rendre à Lyon. Dans quelle direction dois-je aller ?	24
25	Par rapport à Monaco, où se situe la Suisse ?	25
26	Caen est à/au ☞ de Bordeaux.	26
27	Toulouse est à/au ☞ de Paris.	27
28	Je pars de Paris vers le sud. Quelle sera la 1 ^{ère} ville que je vais rencontrer ?	28
29	Reims est à/au ☞ de la Belgique.	29
30	Sur la carte, quelle est la ville de France la plus à l'ouest ?	30
31	Par rapport à Pau, où se situe Bordeaux ?	31
32	Monaco est à/au ☞ de Toulouse.	32
33	Où se situe la Corse par rapport à l'Italie ?	33
34	Partant de Nîmes, dans quelle direction dois-je rouler pour me rendre à Reims ?	34
35	Montpellier est à/au ☞ de Nice.	35
36	Le Grand-Duché de Luxembourg est à/au ☞ de Nancy.	36
37	Partant de Clermont-Ferrand, je roule vers l'ouest. Quelle sera la 1 ^{ère} ville que je vais rencontrer ?	37
38	Où se situe Nantes par rapport à Rennes ?	38
39	Rennes est à/au ☞ de Strasbourg.	39
40	Où se situe la principauté d'Andorre par rapport à Paris ?	40
41	Rouen se situe à/au ☞ de Reims.	41
42	Où se trouve l'Allemagne par rapport à Lille ?	42
43	Tours se situe à/au ☞ de Rouen.	43
44	Où se trouve Perpignan par rapport à la Corse ?	44



niv.3 : Réponds à la question sur les 8 directions cardinales.



Questions

1	Paris se trouve à ☞ km à vol d'oiseau de Metz.	1
2	Quelles sont les villes situées à moins de 100 km de Nantes sur la carte ?	2
3	Dijon se trouve à ☞ km à vol d'oiseau de Clermont-Ferrand.	3
4	Rennes se trouve à ☞ km à vol d'oiseau de Bordeaux.	4
5	Dijon se trouve à ☞ km à vol d'oiseau de Lyon.	5
6	Limoges se trouve à ☞ km à vol d'oiseau de Pau.	6
7	Nice se trouve à ☞ km à vol d'oiseau de Lyon.	7
8	Metz se trouve à ☞ km à vol d'oiseau de Dijon.	8
9	Grenoble se trouve à ☞ km à vol d'oiseau de Clermont-Ferrand.	9
10	Angers se trouve à ☞ km à vol d'oiseau de Reims.	10
11	Tours se trouve à ☞ km à vol d'oiseau d'Orléans.	11
12	Rouen se trouve à ☞ km à vol d'oiseau de Caen.	12
13	Strasbourg se trouve à ☞ km à vol d'oiseau de Lille.	13
14	Lille se trouve à ☞ km à vol d'oiseau de Nice.	14
15	Pau se trouve à ☞ km à vol d'oiseau de Nantes.	15
16	Rennes se trouve à ☞ km à vol d'oiseau de Brest.	16
17	Metz se trouve à ☞ km à vol d'oiseau de Grenoble.	17
18	Perpignan se trouve à ☞ km à vol d'oiseau de Clermont-Ferrand.	18
19	Tours se trouve à ☞ km à vol d'oiseau de Dijon.	19
20	Orléans se trouve à ☞ km à vol d'oiseau de Caen.	20
21	Nancy se trouve à ☞ km à vol d'oiseau de Marseille.	21
22	Strasbourg se trouve à ☞ km à vol d'oiseau de Montpellier.	22



niv.3 : Réponds à la question sur les 8 directions cardinales.



Questions

23	Limoges se trouve à km à vol d'oiseau de Clermont-Ferrand.	23
24	Dijon se trouve à km à vol d'oiseau de Rouen.	24
25	Brest se trouve à km à vol d'oiseau de Nice.	25
26	Angers se trouve à km à vol d'oiseau de Marseille.	26
27	Toulouse se trouve à km à vol d'oiseau de Bordeaux.	27
28	Strasbourg se trouve à km à vol d'oiseau de Perpignan.	28
29	Nantes se trouve à km à vol d'oiseau de Lille.	29
30	Caen se trouve à km à vol d'oiseau de Lyon.	30
31	Bordeaux se trouve à km à vol d'oiseau de Paris.	31
32	Nice se trouve à km à vol d'oiseau de Toulouse.	32
33	Marseille se trouve à km à vol d'oiseau de Brest.	33
34	Grenoble se trouve à km à vol d'oiseau de Paris.	34
35	Rennes se trouve à km à vol d'oiseau de Marseille.	35
36	Strasbourg se trouve à km à vol d'oiseau de Nantes.	36
37	Toulon se trouve à km à vol d'oiseau de Montpellier.	37
38	Paris se trouve à km à vol d'oiseau de Toulouse.	38
39	Paris se trouve à km à vol d'oiseau de Brest.	39
40	Orléans se trouve à km à vol d'oiseau de Caen.	40



niv. 3 : Réponds à la question sur les 8 directions cardinales et les distances échelles.



Questions

1	La Suisse est à/au ☞ de Paris.	1
2	Caen se situe à/au ☞ de Grenoble.	2
3	La mer Méditerranée est à/au ☞ de Rennes.	3
4	Nantes est à/au ☞ de la Corse.	4
5	La Seine prend son embouchure à/au ☞ de la France.	5
6	Brest se situe à/au ☞ de Toulon.	6
7	Monaco est à/au ☞ de Brest.	7
8	Pau se situe à/au ☞ de la Suisse.	8
9	Je suis à Strasbourg, dans quelle direction dois-je aller pour me rendre à Pau ?	9
10	Tours se situe à/au ☞ de Marseille.	10
11	Metz est à/au ☞ de l'embouchure de la Garonne.	11
12	Toulouse est à/au ☞ de la mer du Nord.	12
13	Lyon est à/au ☞ de Limoges.	13
14	La Loire prend son embouchure à/au ☞ de la France.	14
15	Grenoble se situe à/au ☞ de Pau.	15
16	Angers est à/au ☞ de Nice.	16
17	L'embouchure de la Garonne est à/au ☞ de Strasbourg.	17
18	L'Espagne est à/au ☞ de l'Allemagne.	18
19	Perpignan se situe à/au ☞ de Brest.	19
20	Metz se situe à/au ☞ Nantes.	20
21	Les embouchures du Rhône sont à/au ☞ de Strasbourg.	21
22	La source de la Loire se situe à/au ☞ de Perpignan.	22

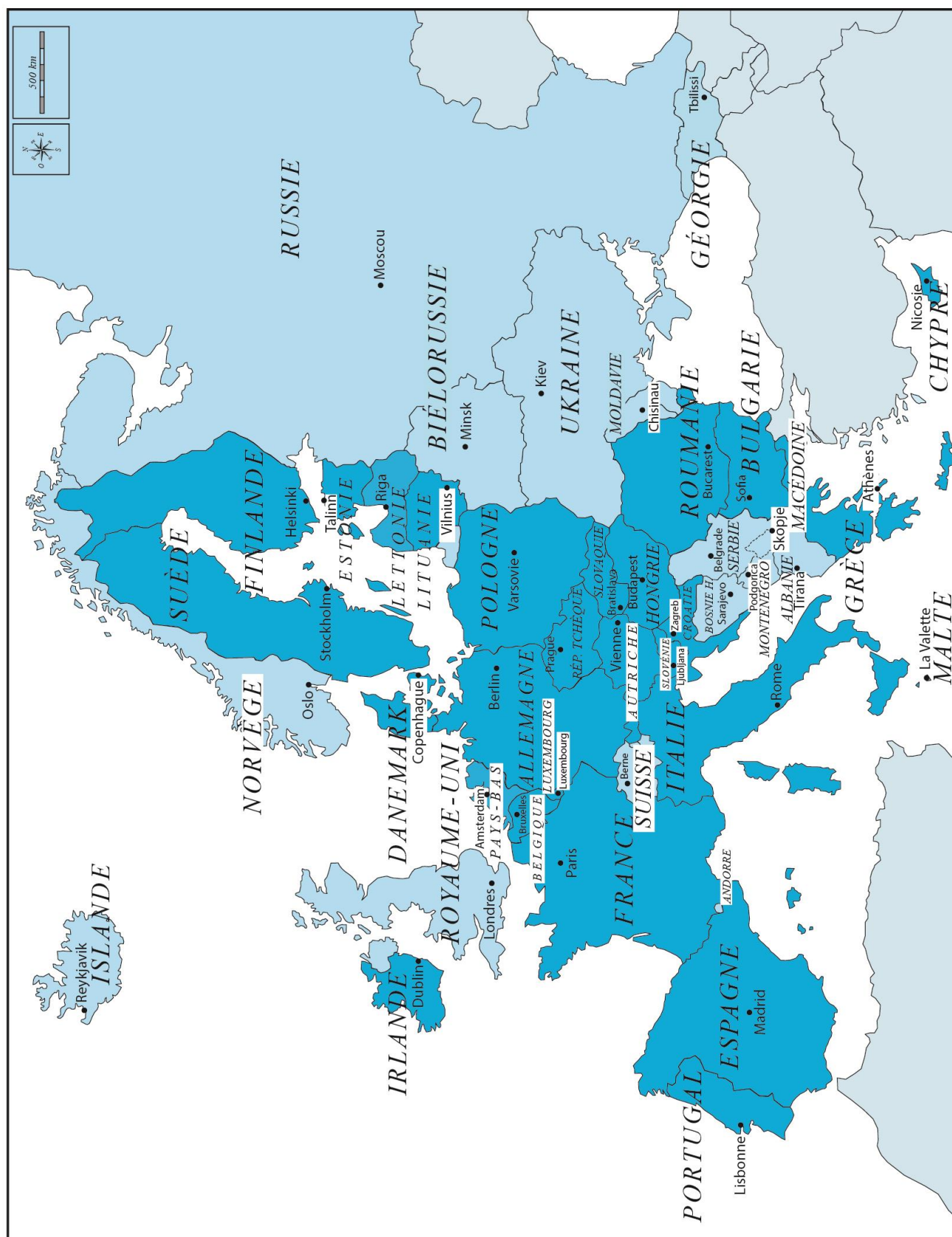


niv. 3 : Réponds à la question sur les 8 directions cardinales et les distances échelles.



Questions

23	Dijon se situe à/au ☞ de Rennes.	23
22	La Corse se situe à/au ☞ de Paris.	22
23	Orléans se situe à/au ☞ de la Belgique.	23
24	Nice se situe à/au ☞ de la source de la Seine.	24
25	La Belgique se situe à/au ☞ de Toulouse.	25
26	Les embouchures du Rhône se situent à/au ☞ de Paris.	26
27	L'Italie se situe à/au ☞ de Nantes.	27
28	La Corse se situe à/au ☞ de l'Allemagne.	28
29	Les embouchures du Rhône sont à/au ☞ de Reims.	29
30	Montpellier est à/au ☞ de Rennes.	30
31	La source de la Seine est à/au ☞ de Brest.	31
32	Bordeaux se situe à/au ☞ de la Belgique.	32
33	Nantes se situe à/au ☞ de Perpignan.	33
34	L'embouchure de la Seine est à/au ☞ des embouchures du Rhône.	34
35	Angers se situe à/au ☞ de Nice.	35
36	Paris se situe à/au ☞ de la source de la Seine.	36
37	Montpellier est à/au ☞ de Strasbourg.	37
38	Nice est à/au ☞ de Caen.	38
39	Limoges est à/au ☞ de Nîmes.	39
40	Dijon est à/au ☞ de Nantes.	40
41	Pau est à/au ☞ de Grenoble.	41



Carte des pays de l'Europe géographique et de leurs capitales



niv.1 : Réponds à la question sur les 4 directions cardinales.



Questions

1	La Belgique se situe à/au ☞ de la France.	1
2	L'Allemagne se situe à/au ☞ de la Belgique.	2
3	Quel pays limitrophe est situé à l'est du Portugal ?	3
4	Quel est le pays limitrophe situé au nord de la Belgique ?	4
5	Quel pays est situé à l'ouest de la Pologne ?	5
6	La Suisse se situe à/au ☞ de l'Italie.	6
7	La Pologne se situe à/au ☞ de la Finlande.	7
8	Quel est le nom du pays qui a la forme d'une botte ?	8
9	Quel est le pays limitrophe situé à l'est de la Norvège ?	9
10	Quel est le pays limitrophe situé au nord de l'Allemagne ?	10
11	Quel pays se situe au nord de l'Espagne et au sud de la France ?	11
12	L'Irlande se trouve à/au ☞ des Royaume-Unis.	12
13	La Suède est à/au ☞ de l'Autriche.	13
14	Je suis en Bulgarie, dans quelle direction dois-je aller pour aller en Grèce ?	14
15	La Suisse est à/au ☞ du Luxembourg.	15
16	Je suis en Grèce et je vais en Pologne, quelle direction vais-je prendre ?	16
17	Quel pays est le plus à l'ouest en Europe ?	17
18	La Lettonie se situe à/au ☞ de la Finlande.	18
19	Quel pays se situe au nord de la Slovénie ?	19
20	La Hongrie est à/au ☞ de la Slovaquie.	20
21	L'Allemagne est à/au ☞ de l'Italie.	21



niv.1 : Réponds à la question sur les 4 directions cardinales.



Questions

23	Je suis en France et je vais vers le nord à pied, dans quel pays vais-je arriver ?	23
22	Mon avion décolle depuis la Bulgarie et va en Lituanie, dans quelle direction va mon avion ?	22
23	Le pays limitrophe de l'Allemagne qui est le plus au nord est ☹ .	23
24	La Norvège se situe à/au ☹ de la Finlande.	24
25	L'Espagne est à/au ☹ du Portugal.	25
26	Les Pays-Bas sont à/au ☹ de la Pologne.	26
27	Quel pays se situe au nord de l'Estonie ?	27
28	L'Autriche est à/au ☹ de l'Allemagne.	28
29	Quelle île est à l'ouest du Royaume-Uni ?	29
30	Partant de Vienne, je marche vers l'est. Dans quel pays j'arrive en premier ?	30
31	Partant de Moscou, je roule vers l'ouest. Quelle ville se trouve sur mon chemin ?	31
32	Quel pays est au sud de Berne ?	32
33	Partant de Sarajevo, je roule vers Sofia. Dans quelle direction dois-je aller ?	33
34	Partant du port de Tirana, je navigue vers l'ouest. Dans quel pays j'accoste ?	34
35	Dans quelle direction dois-je rouler en partant de Prague pour atteindre la frontière entre la Pologne et l'Allemagne ?	35
36	Quelle est la capitale au sud de la frontière belgo-allemande ?	36
37	Partant de Vienne, pour m'éloigner de Bratislava, je dois marcher dans quelle direction ?	37
38	L'Irlande est à/au ☹ de l'Islande.	38
39	La Hongrie est à/au ☹ de l'Autriche.	39



niv.2 : Réponds à la question sur les 8 directions cardinales.



Questions

1	La distance la plus courte entre la Belgique et la Suisse est ☞.	1
2	En partant de l'est du Portugal, je vole 1000 km vers l'est. Dans quel pays vais-je arriver ?	2
3	Andorre se trouve à ☞ km à l'ouest de la Croatie.	3
4	Quelle est la distance approximative à vol d'oiseau entre le Danemark et l'Autriche ?	4
5	L'Islande se trouve à/au ☞ de l'Europe.	5
6	Quel pays a sa frontière est à plus ou moins 300 km à l'ouest de l'Ukraine ?	6
7	Cite le pays qui se situe à l'ouest de la Pologne.	7
8	L'Allemagne se situe à/au ☞ de l'Espagne.	8
9	Bruxelles se trouve à 700 km au nord de ☞.	9
10	Combien de km séparent l'Estonie de la Lituanie ?	10
11	150 km au sud de la Finlande on trouve ☞.	11
12	La Moldavie se trouve à/au de ☞ l'Ukraine.	12
13	L'Albanie se situe à/au ☞ de la ville de Chisinau.	13
14	Je suis au Luxembourg et je fais 300 km vers le nord. Où vais-je arriver ?	14
15	La Bulgarie se trouve à/au ☞ de l'Europe.	15
16	Pour rejoindre le Portugal depuis Malte, je dois partir dans quelle direction en bateau ?	16
17	La France est à/au ☞ de la Belgique.	17
18	Entre l'Estonie et la Lituanie, il y a le/la ☞.	18
19	Andorre se trouve à 1400 km au sud de/du ☞.	19
20	Quel pays se trouve à 900 km, au plus court, au sud de l'Estonie ?	20
21	La Géorgie se trouve à 1300 km à/au ☞ de la Roumanie.	21



niv.2 : Réponds à la question sur les 8 directions cardinales.

Questions

22	Pour les vacances, j'aimerais aller à Madrid, dans le sud, depuis Belgique. Quelle est la distance à parcourir à vol d'oiseau ?	22
23	Quelle est la distance à vol d'oiseau entre Dublin et Copenhague ?	23
22	Le Luxembourg se trouve à ☹ km à l'ouest de la République Tchèque.	22
23	La Croatie se trouve à 350 km au sud de ☹.	23
24	Quel pays se trouve à la fois au nord et à l'ouest de la Bosnie-Herzégovine ?	24
25	☹ se trouve à 2000 km à l'est de l'Allemagne.	25
26	La Roumanie se situe à/au ☹ de la Moldavie.	26
27	Vienne se trouve à ☹ km au nord-ouest de Sofia.	27
28	Nous allons faire de la contrebande à Andorre, nous sommes partis de l'ouest de la Suisse, combien de km va-t-on faire ?	28
29	Quelle est la distance à vol d'oiseau entre Reykjavik et Londres ?	29
30	Chypre se trouve à/au ☹ de l'Europe.	30
31	Bucarest se trouve à ☹ km de Belgrade.	31
32	Berlin se situe à/au ☹ de la Paris.	32
33	Quelle ville la plus proche se trouve au nord-ouest de Londres ?	33
34	☹ se trouve à 1800 km à l'est de Madrid.	34
35	Quel est le pays limitrophe au nord de la Géorgie ?	35
36	Oslo se trouve à ☹ km de Helsinki.	36
37	La Grèce se trouve à 2400 km au sud-est de la ville de ☹.	37
38	Quel pays est au sud de Rome ?	38
39	Le Monténégro se trouve à/au ☹ de la Belgique.	39
40	☹ est à l'ouest de l'Espagne.	40



niv.3 : Réponds à la question sur les 8 directions cardinales et les distances/échelles..



Questions

1	Cite un pays au nord-ouest du Royaume-Uni.	1
2	Cite un pays au sud-ouest de la France.	2
3	Où se situe l'Ukraine par rapport à la Suède ?	3
4	Quel pays se situe directement au sud-est de la Hongrie.	4
5	Par rapport à l'Allemagne, où se trouve l'Estonie.	5
6	L'Allemagne se situe à/au ☞ de la Bulgarie.	6
7	La Lituanie se situe à/au ☞ de la Suède.	7
8	L'Islande se situe à/au ☞ de la Géorgie.	8
9	La Belgique se situe à/au ☞ du Danemark.	9
10	Dublin, la capitale de l'Irlande, se situe du côté ☞ de l'île.	10
11	Je prends mon petit bateau à Stockholm et je vais vers le nord-est, dans quel pays vais-je arriver ?	11
12	Cite le pays qui se trouve à l'ouest de l'Espagne.	12
13	Andorre est au/à ☞ de la France.	13
14	Mon avion part d'Oslo et va à Bucarest. Dans quelle direction va-t-il ?	14
15	Les Pays-Bas font partie de l'Europe de l'☞.	15
16	La Hongrie se trouve à/au ☞ de la Bulgarie.	16
17	Je vis à Paris et je passe mes vacances à Amsterdam, je vais vers le ☞.	17
18	Depuis Athènes, je dois aller vers le ☞ pour rejoindre Madrid.	18
19	Vienne se trouve à/au ☞ de la Belgique.	19
20	L'Ukraine se situe à/au ☞ de la Croatie.	20
21	Quelle capitale est au sud-est de Berne, la capitale de la Suisse ?	21



niv.3 : Réponds à la question sur les 8 directions cardinales et les distances/échelles..

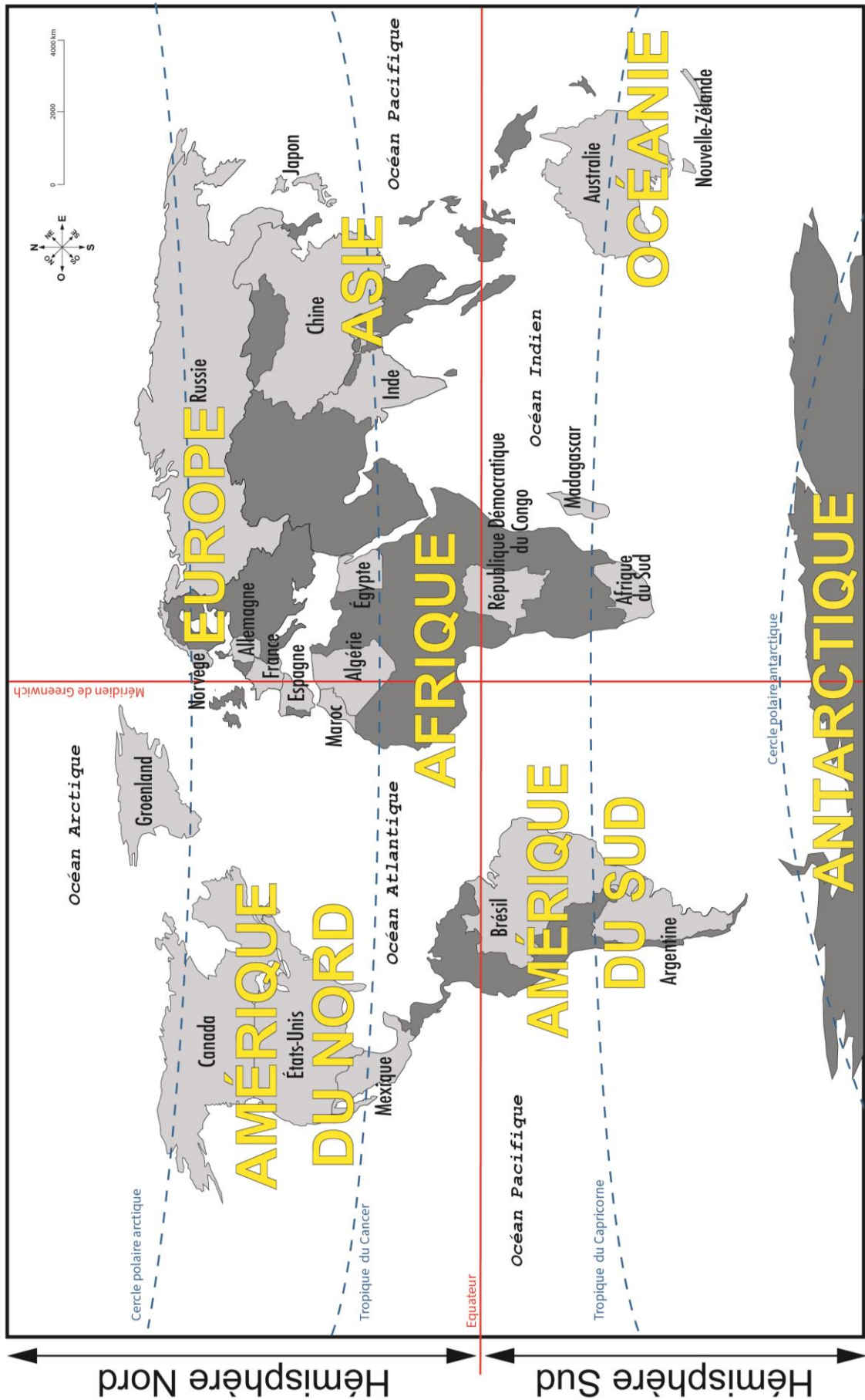


Questions

22	La Biélorussie se trouve à/au ☞ de la Lettonie.	22
23	La Norvège fait partie de l'Europe du ☞ ?	23
22	Cite un pays frontalier au sud-ouest de la France.	22
23	Londres se trouve à/au ☞ de Dublin.	23
24	La Slovénie est à/au ☞ de la Serbie.	24
25	Cite le pays frontalier au nord-est de l'Italie.	25
26	Berlin se trouve à/au ☞ de l'Allemagne.	26
27	Cite le pays frontalier au nord-ouest de la Grèce.	27
28	Par rapport à l'Autriche, où se situe le Danemark ?	28
29	L'île de Chypre se situe à/au ☞ de l'Italie.	29
30	Mon avion part de Londres et va à Andorre. Dans quelle direction va-t-il ?	30
31	Quel pays se trouve au sud-ouest de la Grèce ?	31
32	L'Estonie se situe à/au ☞ de la Suisse.	32
33	Cite un pays au nord-ouest de la Norvège.	33
34	Je vis à Copenhague et je passe mes vacances à Lisbonne, je vais vers le ☞ .	34
35	Par rapport à l'Espagne, où se situe la Pologne ?	35
36	Le Portugal se situe à/au ☞ de la France.	36
37	L'île de Malte se trouve à/au ☞ de l'île de Chypre.	37
38	Où se situe la Bulgarie par rapport à la Hongrie ?	38
39	Par rapport à la Russie, où se trouve la Pologne ?	39
40	Quelle direction mon avion prend-il pour aller de Paris à Helsinki ?	40

Module IV.B - Le Monde





Carte des océans, continents et quelques pays du Monde.



niv.1 : Réponds à la question sur les 4 directions cardinales.



Questions

1	Le ☞ est la direction du pôle Nord et de l'étoile polaire.	1
2	Le ☞ est la direction opposée du nord.	2
3	Dans quelle direction se couche toujours le soleil ?	3
4	L'☞ est la direction dans laquelle le soleil se lève.	4
5	Le Tropique du Cancer se situe au ☞ du Tropique du Capricorne.	5
6	Dans quel hémisphère se trouve le Tropique du Capricorne ?	6
7	Le continent africain se situe à/au ☞ du continent européen.	7
8	Le continent européen se situe à/au ☞ du continent américain.	8
9	Quel océan retrouve-t-on à l'est de la Chine ?	9
10	Quel est l'océan qui se trouve au sud de l'Inde ?	10
11	Le cercle polaire Arctique se situe-t-il au nord ou au sud ?	11
12	Les États-Unis sont à/au ☞ de l'Europe.	12
13	Par rapport à l'équateur, la Russie est à/au ☞.	13
14	L'Antarctique est le continent le plus à/au ☞.	14
15	Quel pays sur la carte se situe au nord de l'Inde ?	15
16	Le Brésil est à/au ☞ du méridien de Greenwich.	16
17	Quel pays est le plus au sud du continent africain ?	17
18	L'Océan Arctique se situe à/au ☞.	18
19	Quel pays est au nord des États-Unis ?	19
20	La Chine est à/au ☞ de la Russie.	20
21	Le Brésil est à/au ☞ de l'Argentine.	21
22	Quel océan est au sud du Japon ?	22



niv.1 : Réponds à la question sur les 4 directions cardinales.



Questions

23	L'Océan Atlantique est à/au ☹ de l'Europe.	23
22	Où se situe Madagascar par rapport à la République Démocratique du Congo ?	22
23	L'Australie est à/au ☹ de la Chine.	23
24	Par rapport au méridien de Greenwich, où se situe l'Egypte ?	24
25	Dans quelle direction mon avion vole-t-il pour aller d'Argentine au Mexique ?	25
26	Quel pays se situe le plus au nord et sur le continent européen ?	26
27	Le Maroc est à/au ☹ de l'Espagne.	27
28	L'Amérique du Sud est à/au ☹ de l'Afrique.	28
29	Quel continent est au sud de l'Asie ?	29
30	Le Japon est à/au ☹ de la Chine.	30
31	Madagascar est à/au ☹ de l'Australie.	31
32	Par rapport à l'équateur, la Russie est à/au ☹.	32
33	Je décolle du Brésil et je vais vers l'ouest, quel océan suis-je en train de survoler ?	33
34	Par rapport au Groenland, où se situe le Maroc ?	34
35	Partant de Madagascar, dans quelle direction dois-je naviguer pour atteindre l'Afrique ?	35
36	Où se situe l'océan Arctique par rapport à la Russie ?	36
37	Quel pays se situe le plus au sud sur le continent Sud-Américain sur la carte ?	37
38	Quel continent est à l'ouest de l'océan Atlantique ?	38
39	Dans quel hémisphère se trouve l'Allemagne ?	39
40	La République Démocratique du Congo se situe au ☹ du Tropique du Cancer.	40



niv.2 : Réponds à la question sur les 8 directions cardinales.



Questions

1	L'Australie se situe à/au ☞ du Maroc.	1
2	L'Allemagne est à/au ☞ de Madagascar.	2
3	Cite l'océan le plus proche au sud-est de l'Egypte.	3
4	Le Brésil est à/au ☞ de l'Argentine.	4
5	La République Démocratique du Congo est à/au ☞ de la Chine.	5
6	La Russie est à/au ☞ de la Chine.	6
7	Le Groenland est à/au ☞ du Canada.	7
8	L'océan Atlantique est à/au ☞ de l'Espagne.	8
9	L'Argentine est un pays frontalier avec un grand pays qui se trouve au nord-est. De quel pays s'agit-il ?	9
10	L'Inde est à/au ☞ de l'Australie.	10
11	Depuis le Groenland, si je prends l'avion vers le sud-ouest, quel continent vais-je rencontrer en premier ?	11
12	Le Mexique est à/au ☞ de la Norvège.	12
13	Le Canada se trouve à/au ☞ de Madagascar.	13
14	La Chine est à/au ☞ de l'Egypte.	14
15	Si je vais au nord-ouest de l'Océanie, je me trouve sur quel continent ?	15
16	Quel océan vais-je retrouver à l'ouest de l'Australie ?	16
17	La Nouvelle-Zélande est à/au ☞ de l'Australie.	17
18	Quel pays se trouve au nord de l'Afrique du Sud ?	18
19	Le Japon se situe à/au ☞ de l'Asie.	19
20	Partant du Canada, dans quelle direction dois-je voler pour atteindre la Russie au plus vite ?	20
21	Cite un pays au sud du Brésil.	21



niv.2 : Réponds à la question sur les 8 directions cardinales.



Questions

22	Le Brésil se trouve à/au ☞ du Maroc.	22
23	Quels pays d'Afrique se trouvent au nord de la République Démocratique du Congo ?	23
22	Par rapport à la ligne de l'équateur, la France se trouve à/au ☞.	22
23	Par rapport à la ligne de l'équateur, le Japon se trouve à/au ☞.	23
24	L'Inde est à/au ☞ de la Chine.	24
25	L'Allemagne est à/au ☞ de l'Espagne.	25
26	Si je pars du Mexique et que je passe par les États-Unis et le Canada, dans quelle direction sera orienté mon trajet ?	26
27	Par rapport à la ligne de l'équateur, l'Argentine se trouve à/au ☞.	27
28	Le Groenland est à/au ☞ de l'Australie.	28
29	Partant du Japon, je navigue plein nord. Quel pays vais-je atteindre ?	29
30	Partant de la Nouvelle-Zélande, je navigue plein sud. Quel continent vais-je atteindre ?	30
31	Si je vais au sud-est du Mexique, je me trouve sur quel continent ?	31
32	L'Océanie se situe à/au ☞ de l'Asie.	32
33	L'océan Pacifique se situe à/au ☞ de l'Amérique.	33
34	Je suis au sud du Brésil et je désire me rapprocher du Tropique du Capricorne. Dans quelle direction dois-je aller ?	34
35	Quelle direction prend mon avion pour voler du Brésil en Norvège ?	35
36	Quelle île se trouve à l'ouest de l'océan Indien ?	36
37	Quel pays est le plus à l'est de l'Asie ?	37
38	Quel pays se trouve le plus au sud-est de la carte ?	38



niv.3 : Réponds à la question sur les 8 directions cardinales et les distances/échelles.



Questions

1	Quel continent se trouve au sud-est de la Chine ?	1
2	Quel pays se trouve à 6 000 km à l'ouest de l'Espagne ?	2
3	Le Madagascar se situe à/au ☹ de la République démocratique du Congo.	3
4	L'Équateur se trouve à ☹ km de la frontière nord de l'Argentine.	4
5	Tu habites en France et tu vas visiter les pyramides d'Égypte, dans quelle direction t'envoies-tu ?	5
6	Un avion doit voler combien de km pour aller du Groenland à la France ?	6
7	Quel pays se trouve au nord de l'océan Indien ?	7
8	Quelle est la longueur du continent d'Afrique du nord au sud ?	8
9	Quelle est la distance que parcourt un samouraï volant japonais pour se rendre en Inde ?	9
10	L'Algérie se trouve à 1500 km au ☹ de l'Allemagne.	10
11	Le Mexique est à ☹ km au nord-ouest du Brésil.	11
12	A vol d'oiseau, je pars du nord du Brésil pour aller vers le Maroc. Dans quelle direction je pars et quelle distance je parcours ?	12
13	Partant de l'Afrique du Sud, un navigateur courageux se dirige plein sud. Dans combien de kilomètres atteindra-t-il l'Antarctique.	13
14	Un avion part de la côte est du Mexique. Combien de kilomètres doit-il parcourir en longeant le Tropique du Cancer pour atteindre l'Afrique ?	14
15	Un voilier part de la République Démocratique du Congo et file droit vers l'ouest. Après combien de kilomètres parvient-il à la côte Brésilienne ?	15
16	L'Inde se trouve à/au ☹ de la Norvège.	16
17	Par la mer, l'Afrique du Sud se situe combien de kilomètres de la République Démocratique du Congo.	17



niv.3 : Réponds à la question sur les 8 directions cardinales et les distances/échelles.



Questions

18	Quel pays d'Amérique se situe entre le Tropique du Capricorne et l'Equateur.	18
19	La Russie est à/au ☹ du Maroc.	19
20	Un capitaine de bateau part du sud de la France pour l'Egypte. Quelle distance parcourt-il ?	20
21	La Chine est à/au ☹ de l'Inde.	21
22	L'Inde est à/au ☹ de l'Afrique du Sud.	22
23	Le Groenland à/au ☹ de la France.	23
22	En suivant le Tropique du Capricorne, quelle est la distance entre Madagascar et l'Australie ?	22
23	Un avion part d'Egypte vers l'Allemagne. Dans quelle direction doit-il s'orienter ?	23
24	Un aviateur américain veut parcourir la plus longue distance en ligne droite pour traverser les Etats-Unis. Quelle est cette distance ?	24
25	De la pointe sud de l'Inde, à l'est de l'Algérie, il y a ☹ km.	25
26	Un cheval russe désire galoper vers l'Océan Indien. Dans quelle direction doit-il s'orienter ?	26
27	Si un oiseau doit voler du nord de l'Argentine, au sud du Mexique, quelle distance parcourt-il ?	27
28	La Nouvelle-Zélande est à ☹ kilomètres au sud-est de l'Australie.	28
29	Le Maroc est à/au ☹ du Méridien de Greenwich.	29
30	Le Japon est à ☹ kilomètres au nord de l'Australie.	30
31	L'Afrique est à/au ☹ de l'Amérique du Sud.	31
32	La frontière entre la Chine et la Russie est à ☹ kilomètres au nord du Tropique du Cancer.	32
33	L'Egypte est à ☹ kilomètres à l'est du Méridien de Greenwich.	33