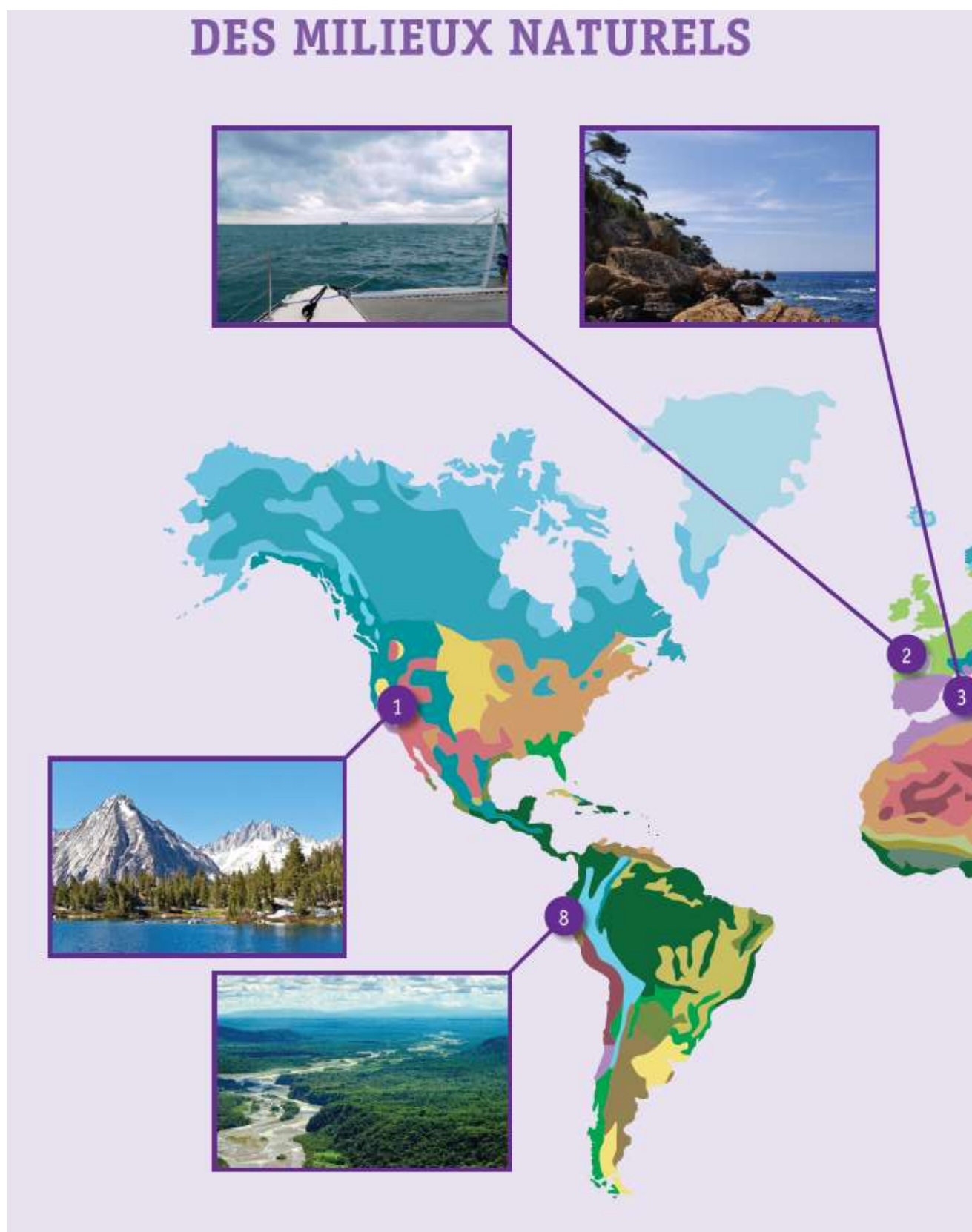
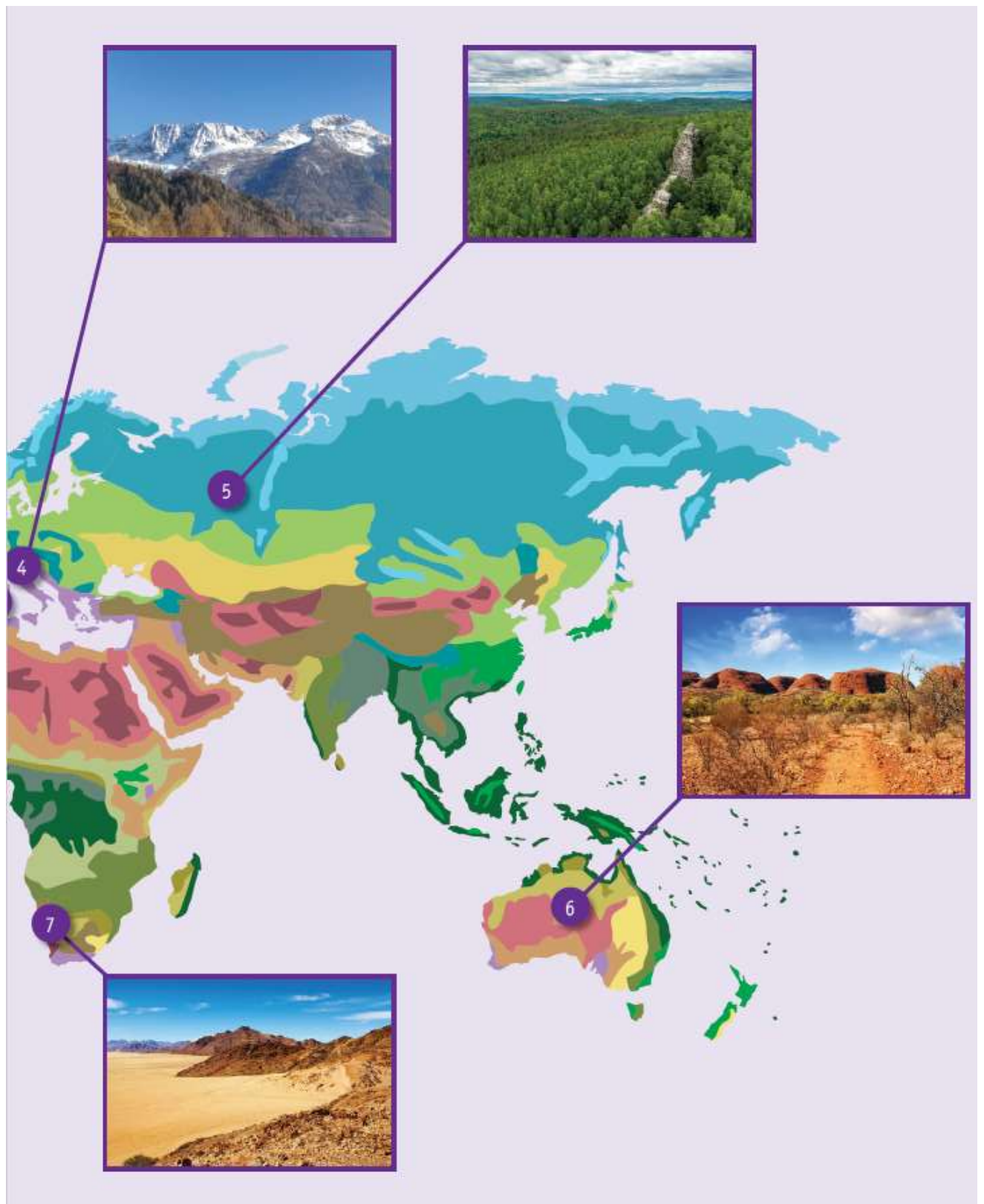


DES MILIEUX NATURELS





a) **Situe** les milieux naturels illustrés dans le portfolio.

COCHE les propositions correctes.

1) Les milieux naturels n°5 et n°8 se trouvent...

- ☐ en Afrique.
- ☐ en Amérique.
- ☐ en Antarctique.
- ☐ en Asie.
- ☐ en Europe.
- ☐ en Océanie.

2) Les milieux naturels n°6 et n°7 se trouvent...

- ☐ en Afrique.
- ☐ en Amérique.
- ☐ en Antarctique.
- ☐ en Asie.
- ☐ en Europe.
- ☐ en Océanie.

b) **COCHE** la caractéristique principale d'un désert.

- ☐ Pentes fortes et relief accidenté
- ☐ Vaste terrain couvert d'arbres
- ☐ Rareté des précipitations
- ☐ Altitude nulle (0 mètre)

- c) La **montagne** est un milieu qui est caractérisé par de fortes pentes et un relief accidenté.

Vivre en montagne présente des atouts (avantages) et des contraintes (inconvenients).

Pour chaque proposition, **COCHE** la colonne qui convient.

| | Atout | Contrainte |
|---|--------------------------|--------------------------|
| Les pentes très raides rendent les routes très sinueuses et très étroites. | <input type="checkbox"/> | <input type="checkbox"/> |
| Les pentes très raides rendent possible la production d'hydroélectricité. | <input type="checkbox"/> | <input type="checkbox"/> |
| Les pentes très raides et le froid lié à l'altitude rendent possible des glissements de terrain et des éboulements. | <input type="checkbox"/> | <input type="checkbox"/> |
| Les pentes très raides et l'altitude rendent possible la pratique de certaines activités sportives. | <input type="checkbox"/> | <input type="checkbox"/> |

Observe ce paysage.



a) **COCHE** la proposition qui caractérise le mieux la photo.

- ☐ Photo au sol.
- ☐ Photo aérienne.

b) **COCHE les trois** propositions correctes.

Le paysage que tu vois sur la photo est...

- ☐ peu humanisé.
- ☐ très humanisé.
- ☐ rural.
- ☐ urbain.
- ☐ industriel.

c) Associe les numéros de la photo aux composantes du paysage.

ÉCRIS la lettre qui convient.



A Champ cultivé

B Prairie

C Espace boisé

D Cours d'eau

E Route

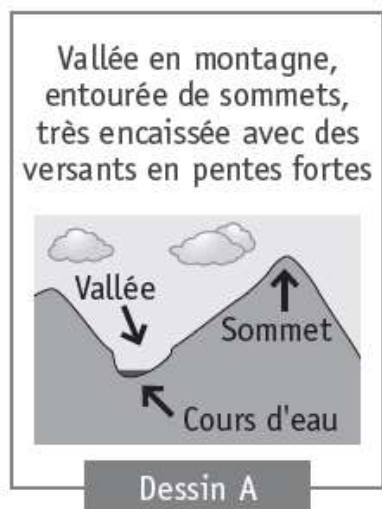
F Chemin de fer

G Usine

H Maisons d'habitation

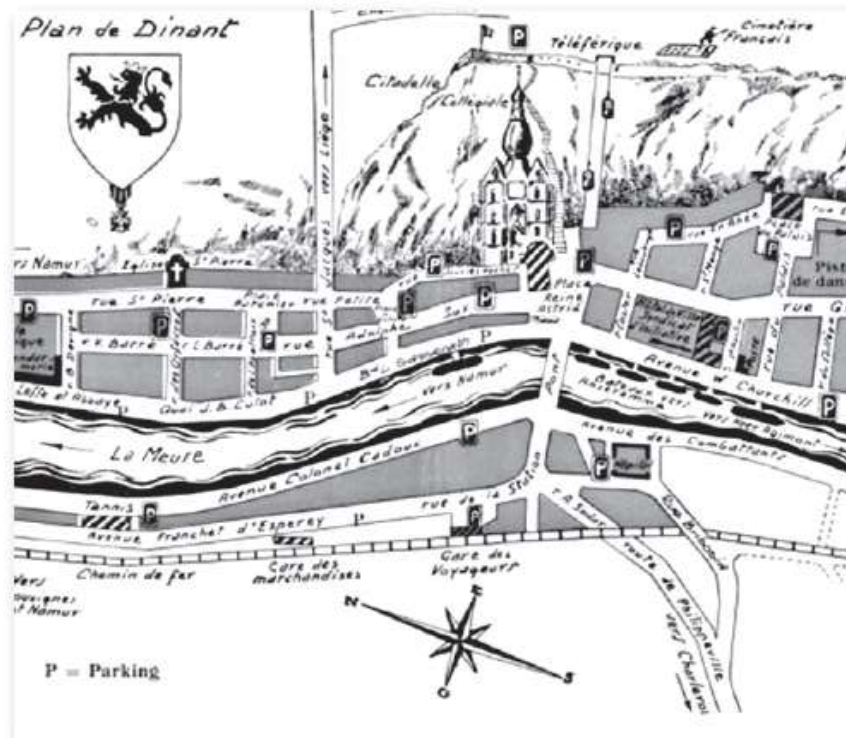
I Parking

Voici des photos et des dessins de vallées dont le relief est différent.



ENTOURE la lettre du dessin qui correspond à chaque photo.

- Photo 1 ➔ Dessin A | B | C
- Photo 2 ➔ Dessin A | B | C
- Photo 3 ➔ Dessin A | B | C



ENTOURE la photo **aérienne** qui correspond à l'ensemble du plan.





a) **COCHE** l'affirmation qui correspond au paysage ci-dessus.

Ce paysage est

☐ industriel.

☐ rural.

☐ urbain.

- b) **ENTOURE** les éléments du tableau qui conviennent pour caractériser ce paysage.

| À l'avant-plan, tu vois... | À l'arrière-plan, tu vois... |
|----------------------------|------------------------------|
| une forêt | une forêt |
| un désert | un désert |
| une montagne | une montagne |
| une mer | une mer |
| une prairie | une prairie |

- c) Des traces de l'activité humaine sont visibles **sur cette photographie de paysage**.
ÉCRIS deux éléments qui le montrent.

■ _____

■ _____