

Les cours d'eau corrigé

1. Le sens du courant

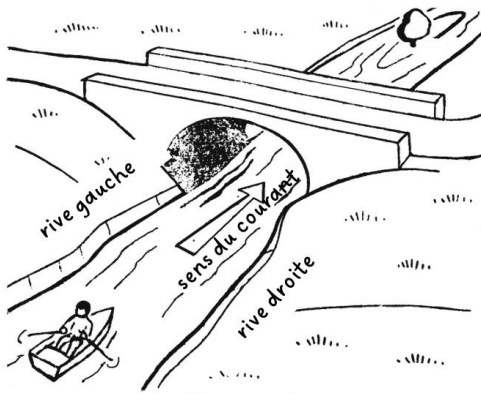
Qu'appelle-t-on le sens du courant ?

Le sens dans lequel va l'eau, vers où elle se dirige.

2. La rive droite - la rive gauche

Comment avons-nous fait pour reconnaître la rive gauche et la rive droite ?

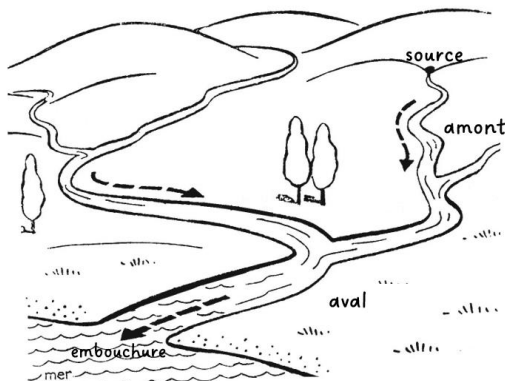
On regarde vers l'endroit où l'eau se dirige. La rive placée du côté de sa main gauche est nommée « rive gauche » et celle du côté de sa main droite « rive droite » .



3. L'amont - l'aval (barre la mauvaise réponse)

L'amont se situe : vers la source / vers l'embouchure.

L'aval se situe : vers la source / vers l'embouchure.

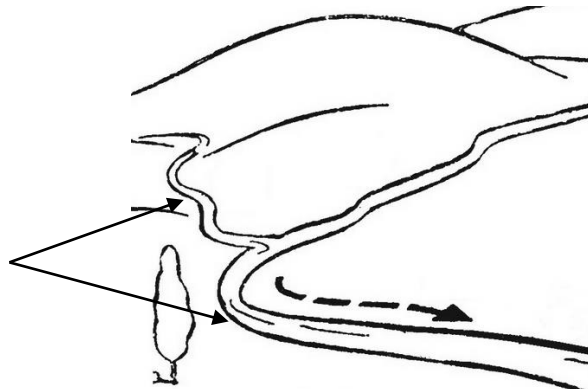


La source est l'endroit où commence le cours d'eau.

L'embouchure est l'endroit où le fleuve se jette dans la mer.

4. Les méandres

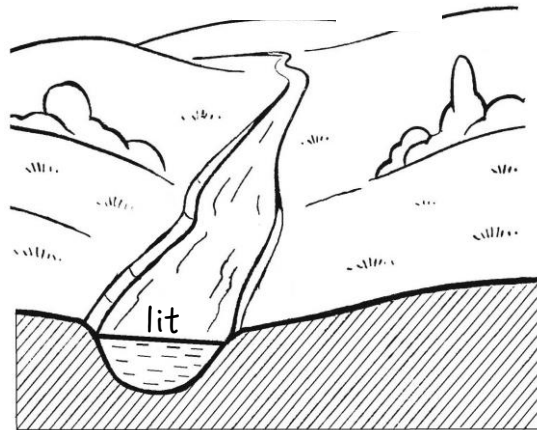
Lorsqu'un cours d'eau tourne, on appelle cela **des méandres**.



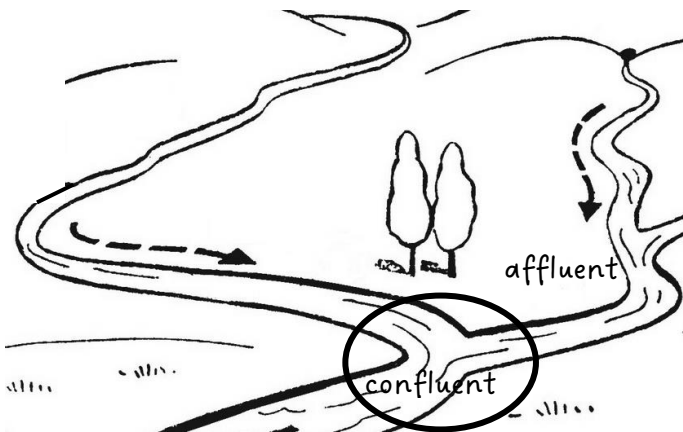
5. Le lit du cours d'eau

C'est l'endroit où il s'écoule en temps normal.

Lorsqu'il pleut beaucoup, le cours d'eau peut sortir (déborder) de son lit et provoquer des inondations.



6. L'affluent - le confluent



Un **affluent** est un cours d'eau qui se jette dans un autre. Il arrive dans un autre.

Un **confluent** est l'endroit où un cours d'eau se jette dans un autre. Ils se rencontrent. On peut aussi dire la confluence de deux cours d'eau.

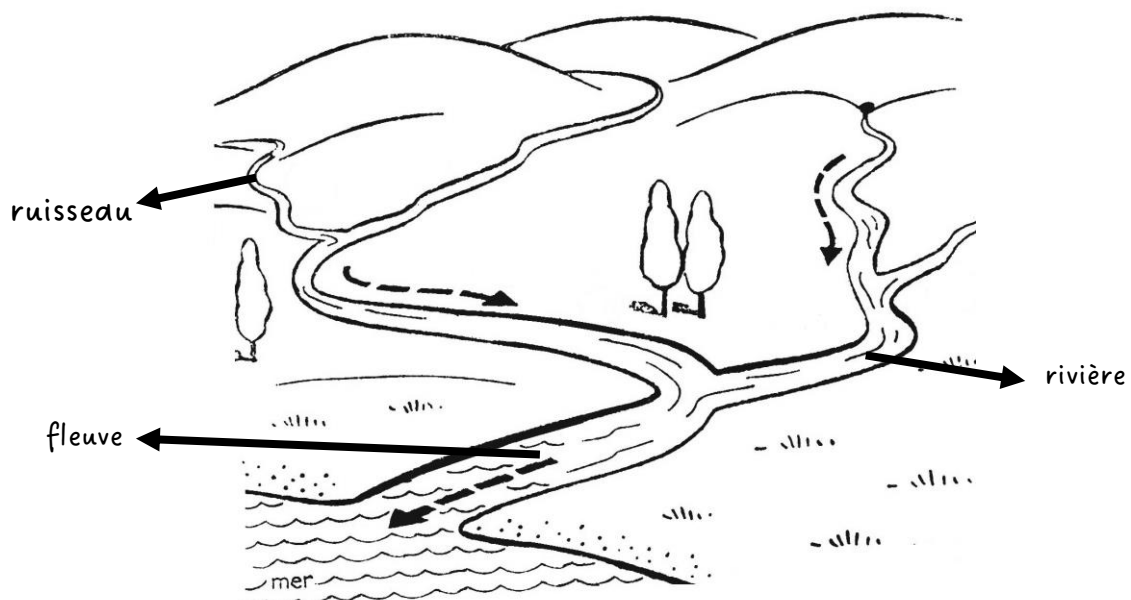
7. Les différents cours d'eau en Belgique

Un tout petit ruisseau s'appelle un **ruisselet** ou un **ru**.

Le **ruisseau** est un petit cours d'eau.

La **rivière** est un cours d'eau plus important.

Le **fleuve** est un cours d'eau important qui se jette dans la mer.



8. Relie le début de la phrase à la bonne fin.

| | | | |
|--|---|---|---|
| L'endroit où commence un cours d'eau | ○ | ○ | est un affluent. |
| Un cours d'eau qui se jette dans un autre | ○ | ○ | est le confluent. |
| L'endroit où un cours d'eau se jette dans un autre | ○ | ○ | est la source. |
| Les « tournants » d'un cours d'eau | ○ | ○ | je regarde vers l'aval. |
| Un cours d'eau qui se jette dans la mer | ○ | ○ | je regarde vers l'amont. |
| L'endroit où un fleuve se jette dans la mer | ○ | ○ | est l'endroit où il s'écoule en temps normal. |
| Si je regarde vers où l'eau coule, | ○ | ○ | s'appellent les méandres. |
| Si je regarde vers d'où l'eau vient, | ○ | ○ | s'appelle un fleuve. |
| Le lit d'un cours d'eau | ○ | ○ | s'appelle l'embouchure. |

9. Réfléchis bien et consulte ton atlas, puis entoure la bonne réponse.

| | | |
|------------------------------------|-------------------|------------|
| Sur la Meuse, Namur se trouve | en amont/ en aval | de Dinant. |
| Sur la Meuse, Namur se trouve | en amont/ en aval | de Liège. |
| Sur la Sambre, Charleroi se trouve | en amont/ en aval | de Namur. |
| Sur la Vesdre, Verviers se trouve | en amont/ en aval | de Liège. |

