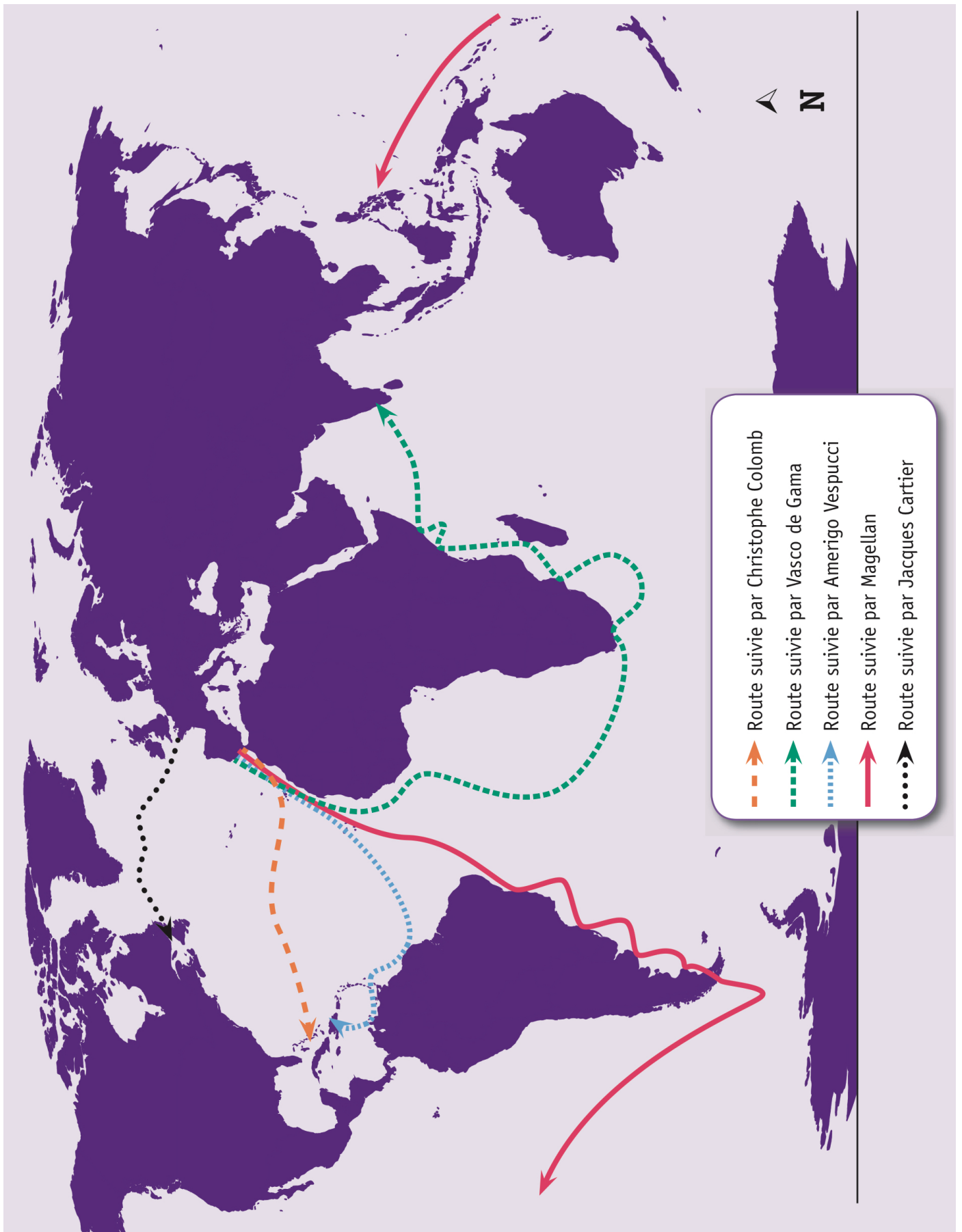


## Les grands navigateurs.



Navigateur	Date et lieu du départ de l'expédition	Projet et découverte	Date et lieu de la fin de l'expédition	Mort du navigateur
Christophe COLOMB	<ul style="list-style-type: none"><li>- aout 1492</li><li>- Palos de la Frontera (Espagne)</li></ul>	<p>Il veut rejoindre les Indes par l'ouest en passant par les rivages du Japon et de la Chine. Pensant accoster près du Japon, il débarque en fait sur des îles du continent américain. Il ne sait pas qu'il découvre ainsi un « Nouveau Monde » jusqu'alors inconnu des Européens.</p>	<ul style="list-style-type: none"><li>- mars 1493</li><li>- Lisbonne (Portugal)</li></ul>	20 mai 1506
Vasco de GAMA	<ul style="list-style-type: none"><li>- juillet 1497</li><li>- Lisbonne (Portugal)</li></ul>	<p>Il veut découvrir une voie maritime pour atteindre les Indes en passant par le cap de Bonne Espérance (sud de l'Afrique). Il atteint son but après avoir longé les côtes est de l'Afrique et traversé l'océan Indien.</p>	<ul style="list-style-type: none"><li>- aout 1499</li><li>- Lisbonne (Portugal)</li></ul>	24 décembre 1524
MAGELLAN	<ul style="list-style-type: none"><li>- septembre 1519</li><li>- San Lucar (Espagne)</li></ul>	<p>Il veut atteindre les Moluques (îles aux épices) par l'ouest. Il découvre, au sud de l'Amérique, un passage vers l'océan Pacifique. Il meurt en route, tout près du but. Son équipage atteindra les Moluques puis poursuivra sa route pour regagner l'Espagne, bouclant ainsi le premier tour du monde.</p>	<ul style="list-style-type: none"><li>- septembre 1522</li><li>- San Lucar (Espagne)</li></ul>	27 avril 1521

## Les grands navigateurs.

Observe attentivement le planisphère



☐ **ÉCRIS** le nom de trois navigateurs qui ont débarqué aux Amériques\* :

---

---

---

Quel océan ont-ils tous traversé ? **ÉCRIS.**

---

De quel continent sont-ils tous partis ? **ÉCRIS.**

---

☐ Sur le planisphère ci-dessous,  
**TRACE en rouge** la route suivie par MAGELLAN ;  
**TRACE en vert** la route suivie par Vasco de GAMA.



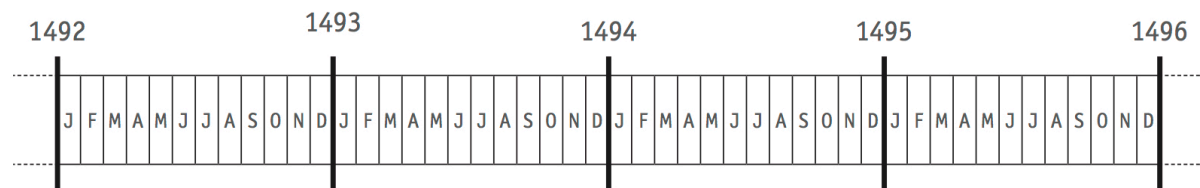
---

\* Le nom « Amériques » a été donné au 16<sup>e</sup> siècle à ces nouvelles terres découvertes.

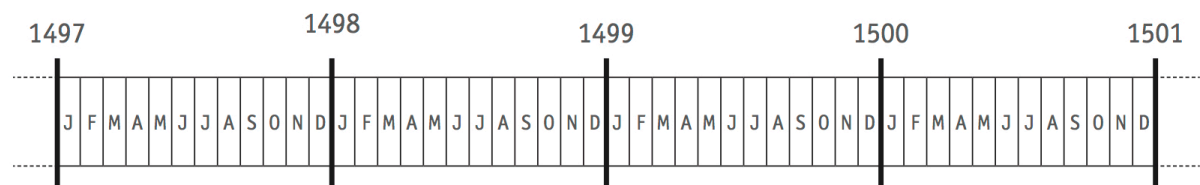
Prénom : \_\_\_\_\_

Réf : \_\_\_\_\_

☐ **COLORIE** la durée de **TOUTE** l'expédition emmenée par Christophe COLOMB.



☐ **COLORIE** la durée de **TOUTE** l'expédition emmenée par Vasco de GAMA.



**COMPLÈTE.**

Christophe COLOMB, Vasco de GAMA et MAGELLAN sont tous trois morts au \_\_\_\_\_ siècle.

☐ Un de ces trois navigateurs est mort au cours de son expédition. Lequel ?  
**ÉCRIS SON NOM.**

☐ Quelle est la durée approximative de chaque expédition (du départ à la fin) ?  
**COCHE** chaque fois la proposition correcte.

Le tour du monde réalisé par l'équipage de MAGELLAN a duré...

- ☐ moins d'un an.
- ☐ entre un et deux ans.
- ☐ un peu plus de deux ans.
- ☐ trois ans.

L'expédition emmenée par Christophe COLOMB a duré...

- ☐ moins d'un an.
- ☐ entre un et deux ans.
- ☐ un peu plus de deux ans.
- ☐ trois ans.

L'expédition emmenée par Vasco de GAMA a duré...

- ☐ moins d'un an.
- ☐ entre un et deux ans.
- ☐ un peu plus de deux ans.
- ☐ trois ans.