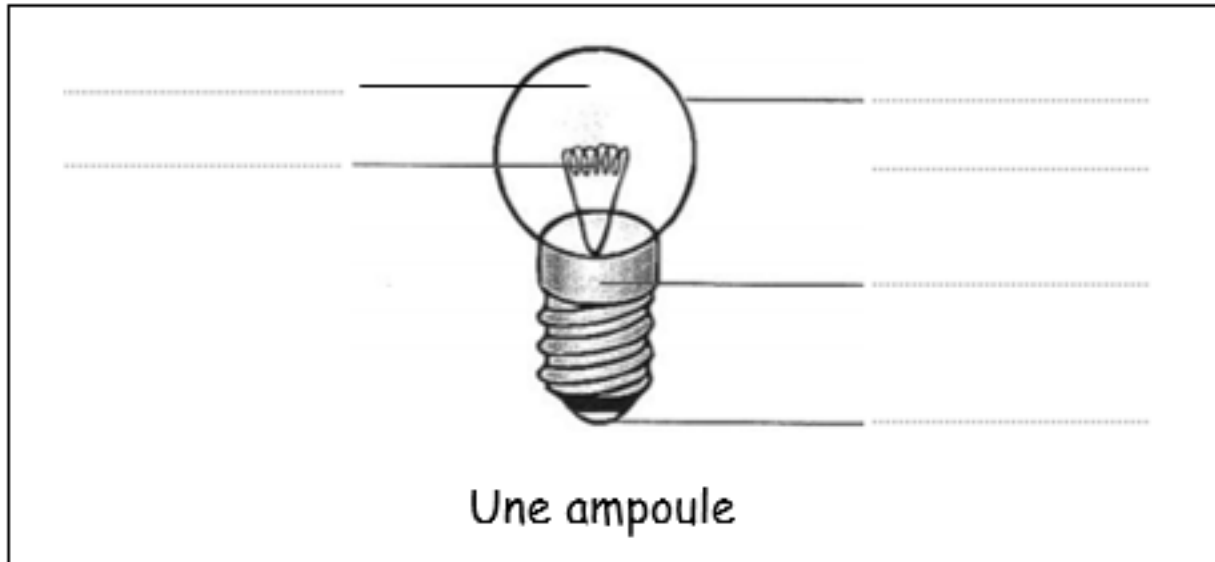


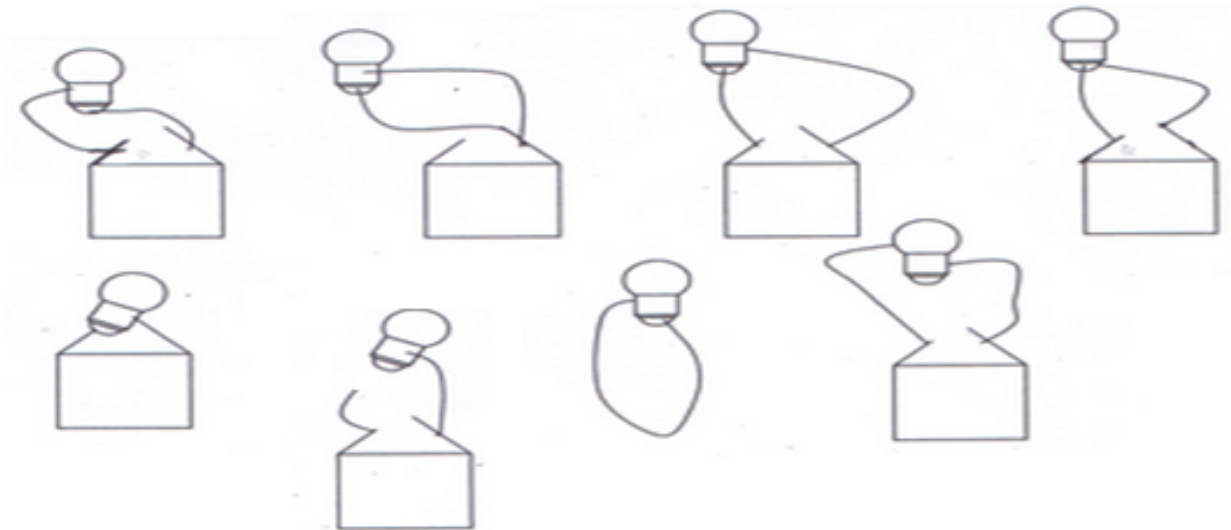
Le circuit électrique

Évaluation

1. **Complète** ce schéma :



2. **Colorie** l'ampoule en jaune lorsqu'elle s'allume.




3. **Complète** ces phrases avec les mots suivants : isolant – conducteur.

Un électrique permet au courant de circuler.

Un électrique ne permet pas au courant de circuler.

4. **Entoure** les objets qui sont conducteurs.



5. **Complète** ces phrases avec les mots suivants : fermé – ouvert.

Un circuit est lorsque le courant passe.

Un circuit est lorsque l'ampoule est éteinte.

Un circuit est lorsque l'ampoule est allumée.

Un circuit est lorsque le courant ne passe pas.

6. **Schématise** ce circuit.

