


Nous découvrons l'aire et le périmètre du carré

Avec ta ficelle, mesure le contour de chaque carré. Ensuite, compte le nombre de petits carrés rempliront ces carrés.




Ce petit carré représente Cela se lit :
..... C'est
l'.....de référence pour les surfaces (.....).




Périmètre (contour) = centimètres.

Aire (surface) =centimètres carrés.



Périmètre (contour) = centimètres.

Aire (surface) =centimètres carrés.



Périmètre (contour) =
centimètres.

Aire (surface) =
.....centimètres carrés.